



BOBST LIBRARY
3 1142 02840 8675




GENERAL UNIVERSITY
LIBRARY









al-Maghribi, 'Abd al-Majīd.

/Kitab al-manhal al-
fā'id fī 'ilm al-fara'id/

كتاب

المنهل الفاضل في علم الفرائض

اثر

عبدالمجيد مغربي من طرابلس الشام

عفي عنه



حقوق الطبع محفوظة للمؤلف

برخصة ندارة المعارف الجليلة

طبع في المطبعة الادبية في بيروت سنة ١٣٢٢

N. Y. U. LIBRARIES


Near East


2253

بِسْمِ اللَّهِ الرَّحْمَنِ الرَّحِيمِ

الحمد لله والصلاة والسلام على خير انبياء سيدنا ومولانا محمد وعلى اله
 وصحبه وكل متبع هداه وبعد فيقول الفقير عبد المجيد المغربي من طرابلس
 الشام ابن محمود افندي ابن احمد افندي ابن عبد القادر افندي العلماء الاعلام
 هذا كتاب في علم القرائض على مذهب الامام الاعظم ابي حنيفة النعمان
 تيسر لي جمعه على رقدة من الشواغل وغفلة من عوائق الزمان وربته على مقدمة
 وكتابين فيهما ابواب وخاتمة على طريق السؤال والجواب رجاء ان يسهل
 بذلك تحصيل المقصود لمثلي من الطلاب وسميته المنهل الفاضل في علم القرائض
 سائلاً من كرمه تعالى وهو الجواد الكريم ان يجعل به النفع العميم متوسلاً
 اليه بجاه نبيه العظيم مستغنياً اليه به عليه افضل الصلاة والتسليم في الوفاة
 على الايمان والنجاة يوم لا ينفع مال ولا بنون الا من اتى الله بقلب سليم
 عبد اتى ابوابكم مستمنحاً ياخير من منح الانام مكارمه
 يرجوك عافية بجاه محمد في الدين والدنيا وحسن الخاتمة

ونضرع اليه تعالى ان ينصر ويؤيد مع التوفيق مولانا امير المؤمنين وناصر
 الاسلام والمسلمين صاحب الخيرات والمبرات الملك المنصور المؤيد المظفر
 الخليفة الاعظم السلطان ابن السلطان السلطان الغازي عبد الحميد خان
 الثاني لازل منصوراً محفوظاً محروساً باللطف الالهي والسبع المثاني ما غردت
 على الاغصان اطيوار وما هب نسيم في الاسحار





المقدمة

ما الفرائض

هو علمٌ باصول من فقه وحساب تعرف حق كل من التركة اي قدر ما يستحقه كل واحد من الورثة من التركة

ما هو موضوعه

التركات من حيث تعلق الحقوق بها وقسمتها شرعاً

ما غايته

ايصال الحقوق لاربابها او الاقتدار على تعيين السهام لدويها على وجه

صحيح

ما الارث

هو حق قابل للتجزئ يثبت لمستحق بعد موت من كان له ذلك لقراية

بينهما او نحوها

كم اركانه وما هي

ثلاثة وارث ومورث وحق موروث

كم شروطه وما هي

ثلاثة موت مورث حقيقة او حكماً مكفود او تقديراً كجين فيه

غرة ووجود وارث عند موته حيا حقيقة او تقديراً كالحمل والعلم بجهة ارثه

قراية او زوجية او ولاء وهذا يختص بالقضاء

كم اسبابه وما هي

ثلاثة النكاح والنسب والولاء


ما النكاح


هو قرابة حكيمية سببها عقد الزوجية الصحيح ولو بلا وطء ولا خلوة
اجماعاً فلا توارث بفساد كما اذا كان بلا شهود ولا باطل كنكاح المتعة وكذا
الموقت وان جهلت المدة او طال في الاصح كما في التنوير وشرحه الدر المختار
هل يتوارث الزوجان في عدة الطلاق ام لا

فيه تفصيل وذلك ان الطلاق الذي تعتدله اما ان يكون قبل الدخول او
بعده فان كان الاول فلا توارث بعد الخلوة الصحيحة نص عليه غير واحد
واما قبلها ففي رد المختار فبالاولى ولم اره فليراجع وان كان الثاني فان
كان الطلاق رجعياً فيتوارثان فيها اي اذا مات احدهما والعدة باقية الا
اذا طأعت او قبلت ابنه فيها او لم يطلقها ولكن فعلت ذلك فلا ترث
وان كان بائناً والعدة باقية فان كان طلاقه لها في الصحة فلا توارث وان
في المرض الذي مات فيه فهو طلاق الفار فترثه ولا يرث هو منها ومثله لو لم
يطلقها بل ابانها بخيار بلوغه او تقييله امها وبنيتها اوردته فيه ولا بد في البائن
ان تستمر اهليتها للارث من وقت الطلاق الى وقت الموت حتى لو كانت
كتاتبية او مملوكة من وقت الطلاق ثم اسلمت او اعتقت لم ترث ويشترط ان
تكون ابانته لها في مرضه بطوع وبلا رضاها حتى ترث والا فلوا كره عليه او
رضيت فلا ترث كما في البحر والدر المختار وحاشيته رد المختار

كيف الحكم لو ابانت نفسها فاجاز

الحكم انها ترث عملاً باجازته كما في القنية لان المبطل لا ثما هو الاجازة
كيف الحكم اذا توزع في موته قبل انقضاء العدة





الحكم ان القول لها مع اليمين في انه مات قبل انقضاء عدتها لانها تنكر
اسقاط ارثها فان نكلت فلا ارث لها كما في البحر وغيره
كيف الحكم لو ادعى الزوج عدم انقضاء العدة للرجعي ليرث منها
وادعت ورثتها انقضاءها وهي لم تقر بانقضائها قبل موتها
استظهر في رد المختار ان القول للزوج لان سبب الارث وهو الزوجية
كان متحققاً لان الرجعي لا يزيله فلا يزول بالاحتمال وهي لو ادعت قبل
موتها انقضاءها في مدة تحتمله يكون القول لها لانه لا يعلم الا من جهتها
بخلاف الورثة

كيف الحكم لو كذبها الورثة بعد موته بالطلاق في مرضه
الحكم ان القول لها في ان طلاقه لها كان في المرض لانهم يدعون عليها
الحرمان بالطلاق في الصحة وهي تنكر كما لو قالت طلقني وهو نائم وقالوا في
اليقظة كان القول لها كما في البحر وغيره

كيف الحكم لو ادعت الورثة ان الطلاق قبل الدخول فلا ارث لك
وقالت بعد الدخول وانا في العدة فاطلب ارثي

الحكم ان القول لها لانكارها سقوط الارث ونظيره ما قاله في التنوير
وشرحه الدر المختار ولو افترقا يعني الزوجين فقالت بعد الدخول وقال الزوج
قبل الدخول فالقول لها لانكارها سقوط نصف المهر

كيف الحكم لو ادعت عليه مريضاً انه ابانها فجحد وحلفه القاضي
حلف ثم صدقته

الحكم انها اذا صدقته قبل موته ورثت والا لا كما في الفصول

كيف الحكم لو سأته الرجعي او مطلق الطلاق بان قالت طلقني
فطلقها بائنا او ثلاثا

الحكم انه لا يمنع ارثها والحالة هذه لان الرجعي لا يزيل النكاح فلم
ترض باسقاط حقها كما في التنوير والدر المختار وغيرها

كيف الحكم لو قال في مرضه قد كنت ابنتك في صحيتي او تزوجتك
بلا شهود او بيننا رضاع قبل النكاح او تزوجتك في العدة

الحكم في ذلك انها بانت منه وترثه لو انكرت ذلك لالو صدقته كما
في جامع الفصولين

كيف الحكم لو قال صحيح لامرأته احدكما طالق ثم بين في
مرضه في احداها

الحكم انه صار فارا بالبيان فترث منه كما في التنوير ولو ماتت احداها
قبله ثم مات تعينت الاخرى ولم ترث لانه بيان حكيم فانفتت التهمة كما
في الفتح


كيف الحكم لو ادعى الزوج ان زوجته حطت عنه المهر وصدقته
الورثة لكن ادعوا ان ذلك كان مع الاكراه فلم يصح الحط

الحكم فيه ان القول لهم اذ القول لمدعي الاكراه ولو برهنا فيينة الطوع
اولى كما في القنية

كيف الحكم لو اختلف الزوج مع الورثة في ان الحط كان في الصحة
او في المرض

الحكم ان القول للزوج انه كان في الصحة لانه ينكر المهر كما في

Faint, illegible handwriting on a page with horizontal lines. The text is too light to be transcribed accurately.



الخلاصة ولو وهبته في مرضها فمات قبلها فلا دعوى لها بل لورثتها بعد موتها
كذا في البحر

كيف الحكم لو باشرت المرأة سبب الفرقة وهي مريضة وماتت قبل

انقضاء العدة

الحكم ان الزوج يرثها بخلاف وقوع الفرقة بينهما بالجلب والعنة واللعان

فانه لا يرثها على ما في الخانية والفتح عن الجامع

ما النسب

هو القرابة الحقيقية التي سببها الولادة وهي الاصول والفروع والحواشي

القريبة والبعيدة ويدخل فيه الاقرار بالنسب الذي لم يثبت فانه يورث به

ما الولاء

هو قرابة حكيمية سببها العتق ولو بتدبير او كتابة او نحو ذلك او سببها

الموالة وهي ان يقول حر اعجمي لا يعرف له مسقط رأس لآخر مطلقاً انت

مولاي تعقل عني اذا جنيت وترثني اذا مت فيقول الآخر قبلت او ان يقول

ذلك الشخص مثله فيما ذكر واليتك على ان تعقل عني واعقل عنك وترثني

وارثك فيقبل الآخر

كم ينقسم المانع في باب الارث

الى قسمين مانع عن الوارثية وهو ما نفوت به اهلية الارث ومانع عن

الارث وهو ما يفوت به الارث فما يفوت به الارث دون اهليته ليس من

الموانع بل هو حاجب وسياً في الفرق بين المحروم والمحجوب

كم هي موانع الارث

سبعة الاول القتل الموجب للقتل او الكفارة وان سقطا بجرمة الابوة
 والمستحب فيه الكفارة والثاني الردة والثالث الاختلاف في الدين والرابع
 التباين في الدار والخامس الرق والسادس جهالة التاريخ والسابع جهالة الوارث
 ما القتل الموجب للقتل

هو العمد وهو ان يقصد ضربه بمحدد او ما يجري مجراه في تفريق الاجزاء
 ما القتل الموجب للكفارة

هو ثلاثة انواع شبه عمد وهو ان يتمد ضربه بما لا يقتل غالباً كالسوط
 وخطأ كأن يرمى صيداً فيصيب انساناً وما جرى مجرى الخطأ كالتقلاب
 نائم على شخص او سقوطه عليه من سطح


ما القتل الذي تستحب فيه الكفارة


هو كما اذا ضرب امرأة فالقت جنيناً ففيه الغرة وتستحب فيه الكفارة
 فعندنا يجرم القاتل في هذه الصور فقط
 ما الردة

هي شرعا الرجوع عن دين الاسلام من عاقل طوعاً فلا تصح من
 مجنون ومعتوه وموسوس وسكران ومكره وصبي لا يعقل واما الذي يعقل
 فتصح منه كاسلامه فلا يرث المرتد من المسلم ولا من كافر اصلاً ولو مرتداً
 وكذلك المرتدة

هل يورث المرتد والمرتدة ام لا

اذا مات الرجل المرتد على ارتداده حتف انفه او بقتله او لحق بدار
 الحرب وحكم القاضي بلحاظه يكون كسبه في حال اسلامه لورثته المسلمين





الموجودين حين موته في الاصح سواء كانوا موجودين حال رده او حدثوا
بعدها وكسبه في حال رده يوضع في بيت المال فيئا بعد قضاء دين رده
وكسب المرتدة لورثتها المسلمين مطلقاً اي سواء كان من كسبها في اسلامها
او في ردها قبل الحاق كما في الرحيق المختوم

ما الحكم لو ارتد اهل ناحية باجمعهم
الحكم حينئذ انهم يتوارثون اي يرث بعضهم بعضاً لان دارهم صارت
دار حرب لظهور احكام الكفر فيها
ما الاختلاف في الدين

هو تعارير الاديان اسلاما وما سواه واما غير المسلمين فهم يتوارثون وان
اختلفوا في النحل الا اذا اختلفت الدار بينهم
ما التباين في الدار

هو اختلاف المنعة اي العسكر واختلاف الملك كأن يكون احد الملكين
في الهند وله دار ومنعة والآخر في الروم وله دار ومنعة اخرى وانقطعت
العصمة فيما بينهم حتى استحل كل منهم قتال الآخر فهاتان الداران مختلفتان
فتنقطع باختلافهما الوراثه لانها تبني على العصمة والولاية واما اذا كان
بينهما تناصر وتعاون على اعدائهما فتكون الدار واحدة والوراثه ثابتة كذا
في عامة كتب الفرائض وهل اذا لم يكن بينهما تناصر ولكن العصمة غير
منقطعة ثبتت الوراثه لوجود العصمة ام لا لم اره فليراجع والظاهر الاول
فمين يعتبر تباين الدار

يعتبر بين غير المسلمين واما هولاء فلا تباين دار بينهم

ماذا يشترط فيه

يشترط ان يكون الاختلاف في الدار حكماً سواء كان معه الاختلاف حقيقة ام لا دون الاختلاف حقيقة فقط فانه غير مانع من التوارث

ما الاختلاف حقيقة وحكماً

هو كالخبري في دارهم مع الذمي في دارنا

ما الاختلاف حكماً فقط

هو كمتأمن على شرف العود مع ذمي في دارنا

ما الاختلاف حقيقة فقط

هو كمتأمن في دارنا مع خبري في دارهم كلاهما من دار واحدة فهما

متحدتا الدار حكماً لان المتأمن في الحكم من دار الحرب لاحقيقة كما هو ظاهر

ما الرق

هو عجز حكيم قائم بالانسان بمعنى ان الرقيق عاجز عما يقدر عليه الحر

من الشهادة والولاية وغيرها فهو يمنع الارث مطلقاً كاملاً كان كالفن وكذا

المكاتب فان الرق فيه كامل وانما النقصان في ملكه ولذا اجزاء عن الكفارة

دون المدبر ونحوه او ناقصاً كالمدبر وام الولد والمبعض عند الامام الاعظم


وقالوا هو كمر مديون يرث ويورث ويحجب بناء على ان الاعتاق يوجب


زوال الملك عنده وهو متجز وزوال الرق عندهما وهو غير متجز واما الرق

والعتق فلا خلاف في عدم تجزئتهما

ما جهالة التاريخ

هي ان يموت اشخاص فيهم اسباب الارث جملة بنحو غرق ولم يعلم ايهم





مات قبل الآخر فلا يتوارثون

ما جهالة الوارث

هي ان يلتبس الوارث بغيره كأن يضع رجل ولده في فناء المسجد ليلاً
فيندم صباحاً فيرجع لآخذه فاذا فيه ولدان ولم يعرف ولده منهما ومات قبل
الظهور فانه لا يرثه واحد منهما ويوضع ماله في بيت المال ونفقتهما على بيت
المال ولا يرث احدهما من الآخر

ما التركة

هي ما بقي بعد الميت من ماله صافياً عن تعلق حق الغير بعينه

ما الحكم اذا تعلق بعينها حق الغير

الحكم انه يقدم على كل ما يتعلق بالتركة لانه ليس بتركة

ما هو حق الغير المتعلق بعينها

كالرهن والعبد الجاني والمأذون المديون والمبيع المحبوس بالثمن والدار

المستأجرة والعبد الذي جعل مهراً والمقبوض بالبيع الفاسد

ما صور ذلك

اما الرهن فكما اذا رهن شيئاً وسلمه ولم يترك غيره ومات فدين المرتهن
يقدم على التجهيز فان فضل شيء بعده صرف اليه واما الجاني فكما اذا جنى
العبد في حياة مولاه ولا مال له سواه فان المجنى عليه احق به من المولى الا
ان يفضل عن ارش الجناية شيء ولو كان هذا الجاني مرهوناً قدم حق المجنى
عليه على المرتهن واما المأذون المديون فكما اذا استدان العبد بالأذن ومات
مولاه الأذن ولا مال له سواه فيقدم الغرماء على التجهيز واما المبيع المحبوس

بالتنم فكما لو اشترى عبداً ولم يقبضه فمات قبل نقد الثمن فالبايع احق به
 من التجهيز واما بعد القبض فالبايع اسوة الغرماء واما الدار المستأجرة فكما
 اذا اعطى الاجرة او لا ثم مات الاجر فتصير الدار رهنا بالاجرة واما العبد
 الذي جعل مهراً فكما اذا مات الزوج وهو في يده ولا مال له سواء فان
 الزوجة تقدم على التجهيز واما المقبوض بالبيع الفاسد فكما اذا مات البائع قبل
 الفسخ فان المشتري مقدم على التجهيز
 كم الحقوق المتعلقة بالتركة

هي اربعة مرتبة اي بعضها مقدم على بعض وهي تجهيز الميت وقضاء
 دينه وتنفيذ وصيته من ثلث الباقي بعد قضاء الدين ثم الارث
 ما التجهيز


هو فعل ما يحتاج اليه الميت من حين موته الى دفنه وتعلقه بالتركة
 بالتوسط اي من غير اسراف ولا تقتير ويكون ذلك في الكفن من حيث
 العدد ومن حيث القيمة
 ما التوسط فيه من حيث العدد

هو ان يكفن بكفن السنة وهو في الرجل ثلاثة اثواب ازار وقيص
 ولفافة وفي المرأة خمسة اثواب ازار وقيص ولفافة وخمار وخرقة يربط
 بها ثديها

ما التوسط فيه من حيث القيمة

هو بان يكون من اوسط ثيابه فان كان له ثوب يلبسه في الاعياد
 وآخر يلبسه بين اقرانه وثالث يلبسه في داره يكفن بالثاني لانه المتوسط

Faint, illegible text, possibly bleed-through from the reverse side of the page.



او من الذي كان يتزين به الرجل في الاعياد والجمع والمرأة من الذي تلبسه
 لزيارة ابويها وهذا اذا لم يوصى بذلك فلو اوصى به تعتبر الزيادة على كفن
 المثل من الثلث وكذا لو تبرع الورثة او الاجنبي فلا بأس بالزيادة من حيث
 القيمة لا العدد والافضل الاقتصاد

ما الحكم اذا منع الدائن عن كفن السنة
 الحكم ان يكفن حينئذ بكفن الكفاية وهو للرجل ثوبان ولو
 غسيلين والمرأة ثلاثة

هل تجهيز الزوجة من تركة الزوج ام لا
 نعم كما يبدأ من تركته بتجهيزه كذلك يبدأ منها بتجهيز من تلزمه نفقته
 كولدته وزوجته ولو غنية على المعتمد المفتى به اذا ماتا قبله ولو لمحضمة ولو ماتت
 زوجته وكان معسراً تلزمه الاستدانة لكفنها
 ما الدين

هو وجوب مال في الذمة بدلاً عن شيء آخر فالخراج دين لانه بدل
 عن منافع الحفظ بخلاف الزكاة لان الواجب فيها تملك مال من غير ان
 يكون بدلاً عن شيء آخر
 ما المراد بدينه

المراد به الذي له مطالب من جهة الخلق واماد دين الحق تعالى كدين
 زكاة وكفارة وفدية وغيرها فانه يسقط بالموت عندنا الا ان يتبرع بها الورثة
 او يوصى بها فتنفذ من الثلث
 كيف يقضى دينه ذلك

اذا كان الدين لواحد دفع له مما بقي بعد التجهيز فان وفي فيها والا
فان شاء عفا او تركه لدار الجزاء وان كان لجماعة فان تفاوتوا في الاولوية
كان كان لبعضهم دين صحة حقيقة او حكما وللآخرين دين مرض قدم
دين الصحة على دين المرض وان لم يتفاوتوا قسم بينهم على حسب حقوقهم
على الوجه الآتي في قسمة التركات

ما دين الصحة حقيقة

هو ما كان ثابتاً بالينة او بالاقرار في زمان الصحة

ما دين الصحة حكماً

هو ما اقر به في مرضه لكن علم ثبوته بطريق المعاينة كما يجب عن مال

ملكه او استهلكه

ما دين المرض

هو الثابت باقراره فيه ولم يعلم ثبوته بطريق المعاينة او الثابت باقراره

فيما هو في حكم المرض كاقرار من خرج للمبارزة او خرج للقتل قصاصاً

ما حكم اقرار المريض مرض الموت لاجنبي بدين او عين

حكمه انه نافذ من كل ماله كما في عامة كتب المذهب لكن يخلف


الغريم كما في رد المحتار


ما حكم اقراره بذلك للوارث

حكمه انه باطل الا ان يصدقه الورثة وكذا لو كان له دين على وارثه

واقربقبضه بخلاف اقراره له بوديعة مستهلكة فانه جائز وحاصله ان مجرد

الاقرار للوارث موقوف على الاجازة سواء كان بعين او دين او قبض منه او





ابراء الآ في ثلاث الاولى له اقر باتلاف وديعته المعروفة والثانية لو اقر
 بقبض ما كان عنده وديعة وكذا اقراره بالامانات اي بقبض الامانات التي
 عند وارثه لابان هذه العين لوارثه فانه لا يصح والثالثة لو اقر بقبض ما قبضه
 الوارث بالوكالة من مديونه

ما الحكم لو اقر بذلك لاجنبي ووارث

الحكم ان اقراره لها باطل تصادقا او تكاذبا كما في نور العين وغيره

هل يجوز ابرأؤه مديونه ام لا

ينظر اما ان يكون مديونه اجنبياً او وارثاً ففي الاول لا يجوز ذلك
 الابراء ان كان هو ايضاً مديوناً والا نفذ ابرأؤه من الثلث وهذا اذا لم يكن
 الوارث كفيلاً عن الاجنبي والا فلا يجوز مطلقاً اذ يبرأ الكفيل ببراءة
 الاصيل كما في الثاني وهو ان يكون مديونه وارثاً فانه لا يجوز ابرأؤه مديوناً
 كان اي المريض المقر اولاً للتهمة كما في الدر المختار وحواشيه

ما الحكم لو ادعى الوارث المقر له ان الاقرار كان في الصحة وكذبه

بقية لورثة

الحكم ان القول لهم ولو اقاموا البينة فيبينة المقر له اولى وان لم تكن له بينة

فله ان يحلف الورثة كما في البحر

هل العبرة لكون المقر له وارثاً وقت الموت او الاقرار

العبرة لذلك وقت الموت لا الاقرار الا اذا صار وارثاً وقت الموت

بسبب جديد فانه حينئذ لا يمنع صحة الاقرار كما في التنوير وشرحه الدر المختار

ما مثال ذلك

مثاله لو اقر لآخيه ثم ولد له صح الاقرار لعدم ارثه وقت الموت ولو اقر
 لاجنبية ثم تزوجها صح لانها وارثة وقت الموت بسبب جديد ولو اقر لآخيه
 المحجوب بكفر او ابن له ثم زال حجبه باسلامه او بموت الابن فلا يصح لان ارثه
 بسبب قديم اي قائم وقت الاقرار ولو وهب الاجنبية في مرضه او اوصى
 لها فيه ثم تزوجها لا يصح لان الهبة في المرض وصية حتى لاتنفذ الا من الثلث
 والوصية تمليك بعد الموت وهي حينئذ وارثة كما في الدر المختار

ما الحكم لو قال في مرضه كت فعلته في الصحة

الحكم فيه انه بمنزلة الاقرار في المرض كما في نقيح الحامدية عن الاشباه

ما حكم اقرار من تطاول مرضه وكم مدة التطاول

اقرار من تطاول مرضه كالصحيح فان المريض الذي به السل فهبته
 وتصرفاته كسائر المرضى ما لم يتطاول وفسر التطاول بسنة فلو تصرف بعد
 سنة من مرضه فهو كتصرفاته حال الصحة كما في التنقيح عن العادية


ما الحكم لو اقر بدين لمن طلقها ثلاثا في المرض


الحكم انه اذا طلقها بسوءها كان لها الاقل من الارث والدين وان
 بغير سوءها فلها الميراث بالغما ما بلغ ولا يصح الاقرار لانها وارثة اذ هو فار
 وقد تقدم كما في الدر المختار

ما الحكم لو تصادق في مرضه مع الزوجة على ثلاث في الصحة وعلى

مضي العدة ثم اقر لها بدين او عين

الحكم ان لها الاقل ايضاً مما اقر ومن الميراث كما في التنوير اي لتهمة
 مواضع الزوجين على الاقرار بالفرقة وانقضاء العدة يعطيها الزوج زيادة على





ميراثها وهذه التهمة في الزيادة فقط فرددناها كما في رد المختار

ما الوصية

هي تملك مال مضاف الى ما بعد الموت عيناً كان او منفعة

مم تنفذ الوصية

انما تنفذ من ثلث ما بقي بعد التجهيز وقضاء الدين واذا زادت على ذلك بطلت في الزيادة اذا لم يحجز الورثة واذا اجازوا نفذت ويصير الموصى به ملكاً للموصى له بالقبض ولهم الرجوع قبل القبض واذا اجاز بعض الورثة دون البعض جاز في مقدار حصة المحجز دون غيره والمحجز لا بد ان يكون كبيراً اي من اهل التصرف ولا تعتبر اجازتهم حال حياته اصلاً بل بعد موته كما في الدر المختار ولا تصح وصية لوارث الا باجازة بقية الورثة واذا لم يكن وارث غير الموصى له صححت الوصية له

ماذا يتعلق بالتركة بعد التجهيز وقضاء الدين و تنفيذ الوصية

يتعلق بها الحق الرابع وهو الارث فيقسم الباقي بعد ذلك بين ورثته

كما يأتي

فيم يجري الارث

يجري الارث في الاعيان المالية واما الحقوق فمنها ما يورث ومنها ما

لا يورث

ما الحقوق التي تورث

هي كحق حبس المبيع وحبس الرهن وخيار العيب وخيار الرؤية واما

خيار التعين قالوا ينتقل للوارث ابتداءً وكذا خيار الوصف وخيار التغيرير

ومما يورث الشرب لكونه حقاً مالياً فيجري فيه الارث ويوصى بالانتفاع به اي
 بعينه لا بربقته اذ الوصية كالارث في الثبوت بعد الموت فيصير حكمها حكمه
 وجهالة الموصى به لا تمنع الوصية لانها من اوسع العقود كما في النخ
 ما الحقوق التي لا تورث

هي حق الشفعة وخيار الشرط وخيار القبول والنكاح كما لو مات
 الشقيق عن ابن وثم اخ لاب فالحق للاخ لا للابن والولايات والعواري
 والودائع كما لو مات المستعير لا يكون وارثه مستعيراً وكذا المودع والرجوع
 عن الهبة وكذا الاجارة والاجازة في بيع الفضولي

كم اصناف الورثة الذين يستحقون الارث وما هي تلك الاصناف
 هي احدى عشر صنفاً الاول ذوو الفروض والثاني العصبه النسبية والثالث
 العصبه السببية والرابع العصبه النسبية للعصبه السببية والخامس العصبه
 السببية للعصبه السببية والسادس ذوو الرد والسابع ذوو الارحام والثامن
 مولى الموالاة والتاسع عصبه مولى الموالاة النسبية ثم السببية والعاشر المقر له
 بنسب لم يثبت والحادي عشر الموصى له بما زاد عن الثلث


من هم ذوو الفروض

هم الذين لهم سهام مقدرة في كتاب الله تعالى او في سنة رسول الله
 صلى الله عليه وسلم او بالاجماع فهو لاء يقدمون في الارث على غيرهم فيبدأ
 بقسمة التركة بينهم

من العصبه

هو الذي ليس له سهم مقدر بل يجرز كل التراث عند الانفراد بجهة

Faint, illegible text, possibly bleed-through from the reverse side of the page. The text is arranged in several paragraphs within a rectangular border.



واحدة ويأخذ الباقي عن ذوي الفروض اذا اجتمع معهم وهو قسمان نسبي
وهو ما كان ذا قرابة حقيقة وسبي وهو صاحب ولاء العتق والموالة
ما المراد بالعصبة بعد ذوي الفروض

المراد العصبة النسبية فاذا فضل شيء عن ذوي افروض فهو لهم على
ترتيبهم الآتي

من العصبة السببية

هو مولى العتاقة وهي ما كانت سبباً لثبوت قوة حكمية للرقيق يرفع بها
عن نفسه يد الاستيلاء والتملك ويصير بها اهلاً للولاية والشهادة والمالكية
فعند عدم العصبة النسبية يعطى للعصبة السببية

لمن يعطى المال بعد هذا

اذا لم يوجد مولى العتاقة يعطى المال لمن يعصبه من الذكور اي للعصبة
النسبية الذكور لمولى العتاقة

لمن يعطى المال بعد هذا

اذا لم يوجد لمولى العتاقة عصبة نسبية من الذكور يعطى لعصبته السببية
اي لعتق المعتق وعند عدم معتق المعتق فلعصبته كذلك ايضاً

لمن يعطى المال بعد هذا

اذا كان ذوو فروض ولم يوجد معهم عصبة مطلقاً يرد الباقي عن
فروضهم اليهم بقدر فروضهم كما سيأتي ما عدا الزوجين فانه لا يرد عليهما
لمن يعطى المال بعد هذا

اذا فقد من تقدم ذكرهم ما عدا الزوجين يعطى المال لذوي الارحام

لمن يعطى المال من بعدهم
 اذا فقد من ذكر يعطى المال لمولى الموالاة وهو كما سبق القابل موالاة
 الميت حين قال له انت مولاي ترثني اذا مت وتعقل عني اذا جنيت ولم يكن
 من العرب ولا من معاتيقهم ولا له وارث نسبي ولا عقل عنه بيت المال او
 مولى موالاة آخر فيرثه القابل بلا عكس الا ان شرط ذلك من الجانبين
 وتحققت الشرائط فيهما

ثم بعد ذلك لمن يعطى المال

اذا لم يكن مولى الموالاة فلعصبته تلى ترتيب عصبه مولى العتاقة

ثم بعد ذلك لمن يعطى المال

اذا لم يكن من تقدم ذكرهم فالمقر له بنسب لم يثبت وتعتبر فيه قيود
 اربعة الاول ان يكون مجهول النسب الثاني ان يكون محمولاً على غيره كما بن
 اخي ومثله ابن ابني وابن عمي فهذا الاقرار غير صحيح في حق ذلك الغير
 ويصح في حق نفسه حتى تلزمه الاحكام من النفقة والحضانة والارث كما
 في الدر المختار لكنه مؤخر عن عصبه مولى الموالاة ويكون هذا الاقرار وصية
 معنى ولذا صح رجوعه عنه ولا ينقل الى فرع المقر له ولا الى اصله والثالث
 عدم ثبوت نسب المقر له من ذلك الغير والرابع ان يموت المقر على اقراره
 كيف يبرث المقر له

يعامل فيما في يد المقر كما يعامل لو ثبت ما اقر به ومحصله انه يعتبر
 كأن الميت مات عن المقر له والمقر في حق ما في يد المقر وهذا عندنا وعند
 مالك وابن ابي ليلى تجعل حصة المقر له شائعة في المال ويهلك عليه ما اصاب

Faint, illegible text, possibly bleed-through from the reverse side of the page. The text is arranged in approximately 20 horizontal lines within a rectangular border.

...

المكذب من حصته ويأخذ من المقر ما اصابه من حصته
ما مثال ذلك


مثاله لو كان لشخص مات ابوه اخ معروف فافر باخ آخر وكذبه
اخوه المعروف فيه فعندنا المقر له يشارك المقر فيستحق نصف نصيبه كأنما مات
الميت عنهما في حق ما في يد المقر وعندهما المقر له ثلث ما في يد المقر لان
المقر قد اقر له بثلاث شائع في النصفين فنقد اقراره في حصته وبطل ما
كان في حصة اخيه فيكون له ثلث ما في يده وهو سدس جميع المال
والسدس الآخر في نصيب اخيه بطل اقراره فيه ونحن نقول ان في زعم
المقر انه يساويه في الاستحقاق والمنكر ظالم بانكاره فيجعل ما في يد المنكر
كالمالك فيكون الباقي بينهما بالسوية ولو اقر باخت تأخذ ثلث ما في يده
وعندها خمسة (لانها عندنا تعتبر في حق ما في يد المقر اختاً له فنقدف لها ما
في يده للذكر مثل حظ الانثيين فيكون ما في يده اثلاثاً بينهما لان المقر
كاختين اذ الذكر كاثنتين فيأخذ هو ثلثي ما في يده وتأخذ هي ثلثه وعندها
تعتبر كأن الميت ترك ابنين وبناتاً والابن يحسب ان باربع بنات فتصير
البنات خمسة لكل من الابنين خمسان وللبنت المقر لما خمس تأخذ من
خمس المقر وتكون قد اخذت نصف خمس جميع المال وهلك عليها نصف
خمس في نصيب المكذب (ولو اقر بجدة هي ام الميت اخذت سدس ما في
يده عندنا وعندها سبعة وانما اطلنا في ذكر ذلك لكون بعض المؤلفين في
هذا الباب في هذا العصر قد خلط بين ما عندنا وعندها في التوريث لمن
ذكنا فلينبه

ما الحكم لو المقر له كذب المقر
 بطل اقراره لما نقرر ان الاقرار يرتد بالرد الا الاقرار بالحرية والنسب
 وولاء العتاقة والوقف والطلاق والرق
 ثم من بعد ذلك لمن يعطى المال
 اذا لم يوجد من تقدم ذكرهم للموصى له بما زاد عن الثلث ولو بالجميع
 فان لم يوجد موصى له بالزائد فيوضع المال في بيت المال على سبيل الفيء
 للمسلمين لا الارث

✽ اسئلة في مسائل المقدمة ✽

ما الفرائض . ما موضوعه . ما غايته . ما الارث . كم اركانها وما هي .
 كم شروطه وما هي . كم اسبابه وما هي . ما النكاح . هل يتوارث الزوجان
 في عدة الطلاق ام لا . كيف الحكم لو ابانت نفسها فاجاز . كيف الحكم
 اذا تنوزع في موته قبل انقضاء العدة . كيف الحكم لو ادعى الزوج عدم
 انقضاء العدة للرجعي ليرث منها وادعى ورثتها انقضاءها وهي لم تقر بانقضائها
 قبل موتها . كيف الحكم لو كذبها الورثة بعد موته في الطلاق في مرضه .
 كيف الحكم لو ادعت الورثة ان الطلاق كان قبل الدخول فلا ارث لك وقالت
 بعد الدخول وانافي العدة فاطلب ارثي . كيف الحكم لو ادعت عليه مريضاً
 انه ابانها فبجد وحلفه القاضي فخلف ثم صدقته . كيف الحكم لو سألته
 الرجعي او مطلق الطلاق بان قالت طلقني فطلقها بائناً او ثلاثاً . كيف
 الحكم لو قال في مرضه قد كنت ابنتك في صحيتي او تزوجتك بلا شهود او
 بيننا رضاع قبل النكاح او تزوجتك في العدة . كيف الحكم لو قال صحيح

[Faint, illegible handwriting, likely bleed-through from the reverse side of the page.]



لامرأته احدا كما طالق ثم بين في مرضه في احداها . كيف الحكم لو ادعى
 الزوج ان زوجته حطت عنه المهر وصدقته الورثة لكن ادعوا ان ذلك كان
 مع الاكراه فلم يصح الحط . كيف الحكم لو اختلف الزوج مع الورثة في ان
 الحط كان في الصحة او في المرض . كيف الحكم لو باشرت المرأة سبب
 الفرقة وهي مريضة وماتت قبل انقضاء العدة . ما النسب . ما الولاء . كم
 ينقسم المانع في باب الارث . كم هي موانع الارث . ما القتل الموجب للقود
 ما القتل الموجب للكفارة . ما القتل الذي تستحب فيه الكفارة . ما الردة
 هل يورث المرتد والمرتدة ام لا . ما الحكم لو ارتد اهل ناحية باجمعهم . ما
 الاختلاف في الدين . ما التباين في الدار . فمين يعتبر تباين الدار . ماذا
 يشترط فيه . ما الاختلاف حقيقة وحكما . ما الاختلاف حكما فقط . ما
 الاختلاف حقيقة فقط . ما الرق . ما جهالة التاريخ . ما جهالة الوارث .
 ما التركة . ما الحكم اذا تعلق بعينها حق الغير . ما هو حق الغير المتعلق
 بعينها . ما صور ذلك . كم الحقوق المتعلقة بالتركة . ما التجهيز . ما التوسط
 فيه من حيث العدد . ما التوسط فيه من حيث القيمة . ما الحكم اذا منع
 الدائن عن كفن السنة . هل تجهيز الزوجة من تركة الزوج ام لا . ما
 الدين . ما المراد بدينه . كيف يقضى دينه ذلك . ما دين الصحة حقيقة .
 ما دين الصحة حكما . ما دين المرض . ما حكم اقرار المريض مرض الموت
 لاجنبي بدين او عين . ما حكم اقراره بذلك للوارث . ما الحكم لو اقر
 بذلك لاجنبي ووارث . هل يجوز ابرأؤه مديونه ام لا . ما الحكم لو ادعى
 الوارث المقر له ان الاقرار كان في الصحة وكذبه بيقية الورثة . هل العبرة

لكون المقر له وارثاً وقت الموت او الاقرار . ما مثال ذلك . ما الحكم لو
 قال في مرضه كنت فعلته في الصحة . ما حكم اقرار من تطاول مرضه وكم
 مدة التطاول . ما الحكم لو اقر بدين لمن طلقها ثلاثاً في المرض . ما الحكم
 لو تصادق في مرضه مع الزوجة على ثلاث في الصحة وعلى مضي العدة ثم
 اقر لها بدين او عين . ما الوصية . مم تنفذ الوصية . ماذا يتعلق بالتركة بعد
 التجهيز وقضاء الدين وتنفيذ الوصية . فيم يجري الارث . ما الحقوق التي
 تورث . ما الحقوق التي لا تورث . كم اصناف الورثة الذين يستحقون
 الارث وما هي تلك الاصناف . من هم ذوو الفروض . ما المراد بالعصبة بعد
 ذوي الفروض . من العصبة السببية . لمن يعطى المال بعد هذا . لمن يعطى
 المال بعد هذا . لمن يعطى المال بعد هذا . لمن يعطى المال بعد هذا . لمن
 يعطى المال من بعدهم . ثم بعد ذلك لمن يعطى المال . ثم بعد ذلك لمن
 يعطى المال . كيف يورث المقر له . ما مثال ذلك . ما الحكم لو المقر له
 كذب المقر . ثم من بعد ذلك لمن يعطى المال


الكتاب الاول


في النرائض والعصبة والحجب والتأصيل والنصيح والعول
 والرد والتخارج والحمل وفيه ابواب

الباب الاول

في الفروض ومستحقها

اخبرني عن الفروض المقدره في كتاب الله تعالى





هي ستة النصف والربع والثلث والثلثان والثلث والسدس

كم ذوو الفروض ومن هم

هم عشرة أربعة من الذكور وهم الزوج والاب والجد الصحيح والاخ
لام وستة من الاناث وهن الزوجة والام والجدة الصحيحة والبنت وبنت
الابن والاخت من اي الجهات كانت
كم حالة للزوج

للزوج حالتان الاولى له النصف عند عدم الفرع للزوجة الميتة والثانية
له الربع عند وجود فرع لما سواء كان منهما او منها فقط
كم حالة للاب

للاب حالتان الاولى له التعصيب المحض عند عدم الفرع للميت فيحوز
كل الترات اذا لم يكن معه ذو فرض والاخذ الباقي عنه والثانية له
الفرض وهو السدس ابدأ والتعصيب عند وجود الفرع غير انه مع الفرع
الذكر كالابن وابن الابن مهما سفل يأخذ فرضه فقط ويجب عن التعصيب
بالابن وابن الابن لمرجوحيته بهما ومع الفرع الانثى كالبنت وبنت الابن
مهما سفلت لا يكون معه من يرجع عليه بالتعصيب فيحوز حينئذ السدس
فرضاً والباقي تعصياً
ما المثل

مثاله ما اذا ماتت هند عن زوج واب فللزوج النصف والباقي للاب
تعصياً لعدم الفرع ولو كان ايضاً ابن كان للزوج الربع والاب السدس فقط
فرضاً والباقي للابن تعصياً ولو كانت بنت لا ابن والمسئلة بما لها كان


للزوج الربع ايضاً لوجود الفرع في صورتين وللبنت النصف لانه فرضها في مثل هذه المسئلة كما سيبيء ، وللاب السدس فرضاً والباقي تعصيباً لوجود الفرع الاثني وهي ذات فرض لا تحجبه عن التعصيب


ما الجد الصحيح

هو الذي لم يدل الى الميت باثني كاب الاب مهما علا والا كان فاسداً كاب الام واب ام الاب وهو من ذوي الارحام
كم حالة للجد الصحيح

له ما للاب من الحالات الثلاث عند فقده وله حالة رابعة وهي حرمانه بالاب عند وجوده الا انه يفارق الاب في مسئلتين من الفرائض فقط عند الامام وهو المفتي به الاولي ان الام اذا كانت مع الجد واحد الزوجين فقط لها ثلث جميع المال ولو كان مكان الجد اب كان لها ثلث الباقي بعد نصيب احد الزوجين الثانية ان ام الاب تحجب بالاب ولا يحجبها الجد لانها ليست من قبله كما سيأتي في احوال الجدة
كم حالة للاخ لام

للاخ لام وكذا الاخت لام حالتان لان بني الام اي الاخوة والاخوات لام هم في القسمة والاستحقاق سواء الحالة الاولي السقوط من الارث بالفرع مطلقاً اي الذكر والاثني كالابن وابن الابن مهما سفل والبنت وبنت الابن مهما سفلت وبالاب والجد الصحيح لانهم من قبيل الكلاله وهي اسم لورثة ليس فيهم والد ولا ولد والثانية الارث عند عرم من ذكر وفرضهم حينئذ الثلث عند التعدد اي للاثنين والاثنتين فصاعداً





سواء اختلطوا او كانوا من محض الذكور او محض الاناث والسدس المنفرد منهم
ما المثال

مثاله لو ماتت زينب عن زوج واخ لام واب فللزوجة النصف فرضاً
والباقي للاب تعصيباً لعدم الفرع ولا شيء للاخ لام لسقوطه بالاب ولو لم
يكن الاب لم يتغير فرض الزوج وورث الاخ لام لعدم المسقط وكان له
السدس فرضاً لكونه واحداً والباقي رداً كما سيجيء في بابه ولو كان مع الزوج
اخوان واختان او اخ واخت لام فأكثروا الاب غير موجود اخذوا الثلث
كم حالة الزوجة

لها حالتان الاولى لها الربع عند عدم الفرع لليت والثانية لها الثمن
عند وجود الفرع ولو لم يكن منها والثلث مخصص بالزوجة لا يستحقه غيرها
من ذوي الفروض ولا فرق بين الواحدة والثنتين والثلاثة والاربعة حيث
اجتمعتا او اجتمعن اشتركتا او اشتركن في الربع او الثمن وحاصله ان الزوجة
تنصف الزوج بحيث يأخذ هو النصف لو كانت تأخذ هي الربع وحيث
يأخذ الربع تأخذ هي الثمن والزوجان لا يسقطان بحال من الارث
كم حالة للام

لها حالتان الاولى لها الثلث حيث لا ولد لليت ولا جمع من الاخوة
والاخوات له والمراد بالجمع الاثنان فأكثروا والثانية لها السدس عند وجود
من ذكر اي عند وجود الولد او جمع الاخوة والاخوات وبقي للام حالة
تأخذ فيها ثلث الباقي عن نصيب احد الزوجين لا ثلث المال المتروك
وذلك في مستلئين تسميان بالغراوين والعمرتين وهما ان يجتمع الام والاب

مع احد الزوجين فالوفاً يعطى لاحد الزوجين نصيبه ثم يعطى للام ثلث
الباقى عنه ثم يعطى الاب ما بقى بعدها

ما المثل


مثاله لو مات بكر عن زوجة وام واخ لام للزوجة الربع حيث لا فرع
وللام الثلث ايضاً حيث لا فرع ولا جمع من الاخوة والاخوات وللإخ
لام السدس حيث لا مسقط من ولد ولا والد وهو منفرد والباقي يرد على
الام والاخ كما سيعرف في بابيه ولو كان جد صحيح والمسئلة بحالها اخذ الجد
الباقى عن الزوجة وعن الام بالتعصيب وسقط به الاخ لام ولو كانت
المسئلة بحالها بلا جد ولكن وجدت اخت لام ايضاً او كان ثم اخوان فاكثروا
لام لم يتغير فرض الزوجة وانما يتغير فرض الام فتخط من الثلث الى السدس
فتأخذه لوجود جمع من الاخوة ولاولاد الام الثلث للتعدد ولو مات عن
زوجة واب وام كان للزوجة الربع والباقي يعطى ثلثه للام والباقي للاب
بالتعصيب وهي احدى السمريتين

ما الجدة الصحيحة

هي التي لم تدل الى الميت بجده فاسد كام الام وام الاب مهما علت
والا كانت فاسدة من ذوي الارحام كام اب الام وام اب ام الاب
كم حالة للجدة الصحيحة

لها حالتان الاولى لها السدس سواء كانت لام وتسمى امية اولاب
وتسمى ابوية وسواء كانت واحدة او اكثر اذا استوين اي كن متعاضيات في
الدرجة بان تدلى احدهن بوسائط هي قدر ما تدلى بها الاخرى الثانية

Faint, illegible text, possibly bleed-through from the reverse side of the page.



السقوط بالام سواء كن ابويات او اميات وتسقط الابوية فقط بالاب
 لاذلائها به وكذا بالجد ان ادلت به واما اذا لم تدل به فلا يحجبها كام
 الاب فانها ترث مع الجد لانها ليست من قبله بل هي زوجته ان بعدت
 عن الميت بدرجة او ام زوجته ان بعدت بدرجتين وعندنا ان القربى من
 اي جهة كانت تحجب البعدى من اي جهة كانت سواء كانت القربى وارثة
 او محجوبة كام الاب المحجوبة بالاب فانها تحجب ام ام الام
 كم حالة لبنت

لبنت الصلب ثلاث حالات الاولى النصف للواحدة والثانية الثلثان
 للثنتين فاكثر والثالثة التعصيب بالابن اي اخيا فله ضعف ما للابن
 كم حالة لبنت الابن


لها ما لبنت الصلب من الحالات اي لبنت الابن الواحدة النصف
 وللثنتين فاكثر الثلثان والتعصيب بابن الابن وهذا عند فقد البنت الصلية
 وعند وجودها فع الصلية الواحدة لبنت الابن واحدة فاكثر السدس تكملة
 للثنتين الا ان يكون بمذائها غلام سواء كان اخاها او ابن عمها فيعصبها
 للذكر مثل حظ الانثيين حتى اذا استغرقت الفروض التركية سقطت معه
 فهو القريب المشوم اذ لولاه لما سقطت ومع الصليتين فاكثر تسقط بنت
 الابن لاستيفاء الصليتين الثلثين حظ البنتية الا ان يكون بمذائها او اسفل
 منها غلام فيعصبها للذكر مثل حظ الانثيين فهو القريب المبارك اذ لولاه
 لسقطت ومتى وجد في المسئلة ابن صلبى لاحظ لبنات الابن في الميراث
 ما المثال

مثاله لو مات زيد عن زوجة وبنت وبنت ابن وجدة هي ام اب
وعن ام واب واخ لام فللزوجة الثمن لوجود الفرع وللبنت النصف لكونها
واحدة ولا معصب لها ولبنت الابن السدس تكلمة للثنتين لكونها مع صلية
واحدة ولا غلام بجذائها ولا شيء للجدة لسقوطها بالام وبالاب ايضاً ولللام
السدس لوجود الولد وللاب السدس فرضاً والباقي تعصيباً لوجوده مع الفرع
الا اني الا انه لم يبق له هنا بقية يأخذها فاكتفى بفرضه وفي المسئلة سيأتي
بيانه ولا شيء للاخ لام لسقوطه بالفرع وبالاب ولو ماتت هند عن زوج وبنتين
وبنت ابن وابن ابن ابن كان للزوج الربع لوجود الفرع وللبنتين الثلثان والباقي
لبنت الابن وابن ابن الابن بالتعصيب فقد عصب بنت الابن غلام اسفل منها
مبارك عليها اذ لولاه لسقطت لوجود الصليتين ولو ماتت فاطمة عن زوج
وبنت وبنت ابن وابن ابن وام واب فللزوجة الربع وللبنت الصلية النصف
وللام السدس وللاب السدس ايضاً ولا شيء لبنت الابن لانها تعصبت
بابن الابن لانه بجذائها فتأخذ معه ما يبقى وحيث لم يبق هنا شيء بل
استغرقت القروض التركية وزادت عليها سقطت معه فكان ابن الابن
هنا مشوماً عليها اذ لولاه لما سقطت بل اخذت السدس تكلمة للثنتين لوجودها
مع البنت الصلية الواحدة

كم حالة للاخت

اما الاخت لام فقد مر ذكرها مع الاخ لام واما الاخت من الابوين
فكالبنت وبنت الابن عند فقدهما فللواحدة النصف وللاثنتين فصاعداً
الثلثان والتعصيب بالاخ لابوين فله ضعفها وعند وجود البنت او بنت الابن

Faint, illegible text, possibly bleed-through from the reverse side of the page.



لما التعصيب معها فهي حينئذ عصبية مع الغير يعني تأخذ ما يبقى والاخت
من الاب تقوم مقام الشقيقة عند فقدها اي للواحدة النصف وللتنتين
فصاعداً الثلثان والتعصيب بالاخ لاب وهذا عند فقد البنات او بنات
الابن والا صارت معهن عصبية اي تأخذ ما يبقى وعند وجود الشقيقة فان
كان ثمة بنات او بنات ابن انجبت بالشقيقة وان لم يكن بنات كانت مع
الشقيقة كبنات الابن مع البنت الصلية اي اذا كانت مع شقيقة واحدة
اخذت السدس تكملة للثلثين واحدة كانت الاخت لاب او اكثر الا
ان يكون ثمة اخ لاب فتعصب به وله ضعفها حتى اذا استغرقت الفروض
التركة سقطت معه فهو الاخ المشوم ومع الشقيقتين تسقط الا اذا كان لها
اخ لاب فتعصب به ولولاها لسقطت فهو الاخ المبارك وكما تسقط الاخت
لاب بالشقيقة تسقط بالاخ الشقيق ايضاً كما يسقط الاخ لاب بالشقيقة
هذا والاخوات والاخوة كيف اتفق يسقطن بالابن وابن الابن مهما سفل
وبالاب اتفاقاً وبالجد الصحيح على قول الامام المفتي به

ما المثال

مثاله لو ماتت سلمي عن زوج وام وبنت واخت شقيقة واخت لاب
فللزوجة الربع وللأم السدس وللبنت النصف والباقي للاخت الشقيقة لانها
صارت هنا عصبية مع البنت فتأخذ ما يبقى عن ذوي الفروض ولا شيء
للاخت لاب لانحجابها بالشقيقة ولو مات سليم عن زوجة وجدته هي ام ام
واخت شقيقة واخت لاب فللزوجة الربع وللجدة السدس وللشقيقة النصف
وللاخت من الاب السدس تكملة للثلثين

❖ اسئلة في الباب يطلب جوابها ❖

ماتت زينب عن زوج وام واب او مات خالد عن زوجة وام واب
 ت سالم عن زوجة واخت شقيقة واخت لاب واخت لام . ت عن بنت
 وبنتي ابن وابن ابن ابن وشقيقة . ت عن جد صحيح واخت لام وام .
 ت عن زوج وبنتين وبنت ابن وابن ابن ابن ابن . ت عن زوجة
 وبنت وبنت ابن ابن وابن ابن . ت عن بنت واخت شقيقة واخت
 لاب . ت عن زوجين واختين لام واختين شقيقتين واخت شقيق وام

❖ اسئلة في مسائل الباب ❖

اخبرني عن الفروض المقدرة في كتاب الله تعالى . كم ذوو الفروض
 ومن هم . كم حالة للزوج . كم حالة للاب . ما المثال . ما الجدة الصحيح .
 كم حالة للجد الصحيح . كم حالة للاخ لام . ما المثال . كم حالة للزوجة . كم
 حالة للام . ما المثال . ما الجدة الصحيحة . كم حالة للجدة الصحيحة . كم حالة
 للبنت . كم حالة لبنت الابن . ما المثال . كم حالة للاخت . ما المثال

❖ الباب الثاني ❖


في العصبات

كم تنقسم العصبية

الى ثلاثة عصبية بنفسه وعصبية بغيره وعصبية مع غيره

من العصبية بنفسه

[The text on this page is extremely faint and illegible. It appears to be a list or a series of entries, possibly names and dates, but the characters are too light to transcribe accurately.]



هو كل ذكر لم يدل بالانثى وحدها سواء ادلى بذكر فقط كابن
 الابن او لم يدل باحد كالا بن او ادلى بانثى مع ذكر كالاخ الشقيق فخرج
 من ادلى بانثى فقط كابن الام فانه ليس بعصبة
 كم صنف العصبة بنفسه

اربعة اصناف وهي جهات ارثه ايضاً البنوة والابوة والاخوة والعمومة
 لليت اولايه او لجده وان علا وكذا بنوهم

ما الحكم فيهم

الحكم ان المنفرد يحرز كل التراث اذا لم يكن في المسئلة ذو فرض والا
 اخذ الباقي واذا تعددوا فلهم اربع احوال قال عليه الصلاة والسلام الحقوا
 الفرائض باهلها فما ابقتة فلا ولي رجل ذكر
 ما هي الاحوال الاربعة للعصبة بنفسه

هي الجهة وقرب الدرجة وقوة القرابة والاستواء في ذلك فاول ما
 يعتبر الجهة فاذا اختلفوا فيها كان تقديم بها وجهة البنوة مقدمة على الابوة
 وهي على الاخوة وهي على العمومة فيقدم الابن ثم ابنه وان سفل ثم الابن ثم
 الجد الصحيح وان علا ثم الاخوة ثم بنوهم وان سفلوا واذا اتحدوا في الجهة
 اعتبرت الدرجة فالاقرب درجة مقدم على غيره فيقدم الابن على ابن الابن
 والاب على الجد والجد على اب الجد والاخ على ابن الاخ والم على ابن
 العم وابن العم على عم ابيه وعم ابيه على ابن عم ابيه وابن عم ابيه على عم جده
 وعم جده على ابن عم جده وهكذا فيما لو علت عمومة الجد وعند الاتحاد
 في الجهة والدرجة يقدم الاقوى قرابة فالاخ لابوين مقدم على الاخ لاب

وابن الاخ لابوين على ابن الاخ لاب وعم لابوين على العم لاب وابنه على
ابنه وهكذا عمومة الجد وعند الاتحاد في الجهة والدرجة وقوة القرابة يقسم
المال بينهم باعتبار رؤوسهم

ما المثال

مثاله ما لو مات عن اخ شقيق وعم لابوين فللمال للاخ لان جهة
الاخوة مقدمة على العمومة ولو مات عن بنت وابن اخ لاب وعم لابوين
فلبنت النصف فرضاً والباقي لابن الاخ تعصيباً ولا شيء للعم لانه وان
كان اقرب في الدرجة من ابن الاخ لكن اعتبار القرب بعد اعتبار الجهة
وجهة الاخوة التي في ابن الاخ مقدمة على جهة العمومة فلا جرم انه كان
مقدماً عليه فاحرز الباقي ولو ماتت عن زوج وبنت ابن وابن ابن واب وابن
اخ لاب فللزوجة الربع ولبنت الابن النصف وللاب السدس والباقي لابن
ابن الابن ولا شيء للاب بالعصوبة لتقدم البنوة وان سفلت على الابوة
المقدمة على الاخوة ولذا سقط ابن الاخ وانما لم يعصب ابن ابن الابن بنت
الابن بل احرزت فرضها لانها ذات سهم والاعلام يعصب من بجذائه بلا
شرط ومن هي اعلا منه بشرط ان لا تكون ذات سهم والا فلا يعصبها بل
يأخذ الباقي كما هنا واذا كانت بنت الابن اسفل منه فلا يعصبها مطلقاً ولو
ماتت عن ابن اخ شقيق وعن اخ لاب كان المال للاخ لانه اتحد مع ابن
الاخ بالجهة وهي الاخوة فاعتبر قرب الدرجة ولو ماتت عن ابن عم لابوين
وابن عم لاب كان المال للاول لانهما وان اتحدا جهة ودرجة لكن الاول
اقوى قرابة فقدم على الثاني

Faint, illegible text, possibly bleed-through from the reverse side of the page. The text is arranged in several paragraphs within a rectangular border.

من العصبه بغيره

هو كل انثى ذات فرض كان معها اخ لها وذلك محصور فبين يرثن
النصف وهي البنت وبنت الابن والاخت لابوين والاخت لاب فيعصب
البنت الصلبية ابن الميت الذي في درجتها اما مع ابن الابن فيفرض لها
النصف وكذا الاخت الشقيقة يعصبها الاخ الشقيق اما مع الاخ لاب
فيفرض لها النصف وبنت الابن كما يعصبها ابن الابن اذا كان اخاها
كذلك يعصبها ابن عمها المحاذي لها في الدرجة بدون شرط وكذا ابن اخيها
من حيث انه ابن ابن وابن ابن عمها السافلان عنها بشرط ان لا تكون
ذات سهم كما سبق واما الانثى التي ليست بذات فرض كابنة الاخ وبنت
الم اللتين ليستا بنتي ابن فلا تتعصبان باخيهما وكذا العمه
من العصبه مع غيره

هو الاخوات مع البنات لقوله عليه الصلاة والسلام اجعلوا الاخوات
مع البنات عصبات فالاخت والمراد الشقيقة او لاب ولو متعددة تكون
عصبه مع البنت واحدة فاكثر صلبية او بنت ابن وان سفلت وحينئذ
فنقدم الشقيقة على اخيها لاب وغير الشقيقة على ابن الاخ

ما المثال

مثال ذلك لو ماتت حفيظة عن زوج وبنت وابن فلزوج الربع
والباقي بالتعصيب بين البنت والابن للذكر مثل حظ الانثيين ولو مات بكر
عن زوجة وبنت وابن ابن فللزوجة الثمن وللبنت النصف والباقي لابن
الابن ولا تتعصب البنت به لانه ليس بمخائها ولو مات خالد عن بنتي ابن

واخت شقيقة واخ لاب فلبنتي الابن اثنتان والباقي بالتعصيب للشقيقة
لانها عصبية مع الغير هنا ولا شيء للاخ لاب لسقوطه بالشقيقة

✽ اسئلة في الباب يطلب جوابها ✽

مات عن ابن ابن واب . مات عن ابن ابن اخ لاب وعم شقيق .
مات عن اخت شقيقة واخ لاب او ابن اخ شقيق . ماتت عن بنتين وبنت
ابن واخت شقيقة . تت عن بنت واخت لاب وابن اخ شقيق او عم شقيق

✽ اسئلة في مسائل الباب ✽

كم يقسم العصبية . ما العصبية بنفسه . كم صنف للعصبية بنفسه . ما
الحكم فيهم . ما هي الاحوال الاربعة للعصبية بنفسه . ما المثال . من العصبية
بغيره . من العصبية مع غيره . ما المثال

الباب الثالث
في الحجب

كم قسم الحجب

قسمان حجب بالوصف وحجب بالشخص

ما الحجب بالوصف

هو منع الشخص عن الميراث بالكلية لقيام وصف فيه مانع منه كالقتل
والرق ولا يسمى هذا الشخص الممنوع في الاصطلاح محجوباً بل محروماً
ما حكم المحروم

حكمه ان ليس له ميراث ويجعل كالمعدم فلا يحجب غيره عندنا
كما اذا ماتت عن اخ لام واخ شقيق وابن كافر فللاخ لام السدس فرضاً

ة

.

ت

ق


ما

بة

ل

ا

سا



والباقي للشقيق تعصيباً ولا شيء لهذا الابن كما انه لم يجب الاخوين

ما الججب بالشخص

هو منع شخص معين من ميراثه اما كله او بعضه لوجود شخص آخر

كم نوع الججب بالشخص

نوعان حجب نقصان وحجب حرمان

ما حجب النقصان

هو حجب عن سهم أكثر الى سهم اقل

ما حجب الحرمان

هو الحجب عن الميراث بالكلية مع قيام الاهلية للارث وبهذا القيد

فارق المحروم من الارث الذي سقطت اهليته للارث

من الذي يجب حجب نقصان

هو خمسة الزوجان والام وبنت الابن والاخت لاب فالزوج يجب

بالولد من النصف الى الربع والزوجة تحجب به من الربع الى الثمن والام به

ويجمع من الاخوة من الثلث الى السدس وبنت الابن تحجب بالبنت

الواحدة من النصف الى السدس ومثلها الاخت لاب بالشقيقة الواحدة

من الذي يجب حجب حرمان

هو كل من ادلى الى الميت بشخص لا يرث مع وجود ذلك الشخص

كابن الابن مع الابن سوى اولاد الام فانهم يرثون معها وكذا كل من

وجد من هو اقرب منه الى الميت كما في العصابات

هل يجب المحجوب حرماناً غيره ام لا

نعم يجب غيره كلا المحبين بالاتفاق كالثنتين من الاخوة
والاخوات فصاعداً من اي جهة كانا فانهما لا يرثان مع الاب ويجبان
حيث الام ايضاً من الثلث الى السدس
ما المثال

مثاله لو مات عن زوجة وام وجد واب واخوين فللزوجة الربع وللأم
السدس لانها حجت حجب نقصان بالاخوين من الثلث الى السدس ولا
شيء للجد لانه يدلى الى الميت بالاب وهو موجود فيجب به حجب حرمان
والباقي للاب تعصيماً ولا شيء للاخوين لانحجابهما بالاب حجب حرمان
ولو مات عن اخ شقيق وعم لابوين فالملل كله للاخ ولا شيء للعم لانحجاب
به حجب حرمان لانه مقدم عليه


❖ اسئلة في الباب يطلب جوابها ❖

مات عن جدة هي ام ام وعن ام واخ شقيق وابن اخ شقيق . ت عن
اخت لام وبنت بنت ابن وام . ت عن زوج وابن وابن ابن ابن وعم
لاب . ت عن اخ لام وجد صحيح واخ لاب . ت عن بنتين واخت
شقيقة لاب . ت عن جدة هي ام ام ام وجددة هي ام ام اب وعن اب
وبنت وبنت ابن ابن وابن ابن . ت عن شقيقتين واخت لاب وابن
ابن ابن ابن عم

❖ اسئلة في مسائل الباب ❖

كم قسم الحجب . ما الحجب بالوصف . ما حكم المحروم . ما الحجب
بالشخص . كم نوع الحجب بالشخص . ما هو حجب النقصان . ما هو حجب

Faint, illegible text, possibly bleed-through from the reverse side of the page.



الحرمان . من الذي يجب حجب حرمان . هل يجب المحجوب حرمانا
غيره ام لا . ما المثال

—oooo—

الباب الرابع

في التأصيل والتصحيح

ماذا يحتاج اليه لتقسيم التركة بعد معرفة من يرث وميراثه ومن لا يرث
يحتاج الى التأصيل والتصحيح لياً من الفرضي حينئذ من الخطاء في
توزيع التركة على مستحقها
ما التأصيل

هو تحصيل اقل عدد يمكن ان تستخرج منه سهام كل فريق من الورثة
بلا كسر وذلك العدد الاقل يسمى اصل المسئلة
ما الضابط في التأصيل

الضابط فيه ان تقول ان الورثة المفروضة اما ان يكونوا كلهم عصبات
او كلهم ذوي فروض او مختلطين فان كان الاول فاصل المسئلة لهم تجعله
من عدد رؤسهم باعتبار الذكر كاثنتين اي براسين كما اذا مات زيد عن
ابنتين وبنت فالبنت لتعصب بالابنتين فيكونوا كلهم عصبه ورؤسهم خمسة
لان الابنتين باربعة رؤوس والبنت برأس فالمجموع خمسة وهي اصل
مسئلتهم وتضع الخمسة التي هي اصل المسئلة في قبة تخط تحتها جدولاً طويلاً
لتضع فيه سهم كل وارث امام اسمه كما تخط من يمين هذا الجدول جدولاً
كذلك للاسماء وتفرق بين اسم الواحد وسهمه وبين الآخر وسهمه بخط

اصل المسئلة

٥	ت
٢	ابن
٢	ابن
١	بنت

عرضي بحيث يصبح الاسم والسهم في مربع هكذا
ويكون لكل واحد من الابنين سهمان من اصل
المسئلة وللبنت سهم واحد منه وان كان الثاني او

الثالث فيانه يتوقف على بيان مقدمة في ذلك فنقول قد سبق ان الفروض
المقدرة شرعاً ستة النصف والربع والثلث والثلثان والثلث والسدس وهي
كسور والكسر على ما سيأتي جزء او اكثر من اجزاء الواحد الصحيح وهي
اي الاجزاء بعدد آحاد ذلك الواحد مثلاً الاربعة فيها من الارباع
بعدها فالجزء الواحد او الجزآن او الثلاثة اجزاء هي كسر منها والخمسة
فيها خمسة اقسام بعدد آحاديها وكل جزء منها خمس اي كسر منها وهكذا
ومصدر الاجزاء الخارجة منه كالاربعة والخمسة في المثالين المذكورين
يسمى مخرجاً واذا كانت الفروض الستة المذكورة كسوراً فمخرج كل كسر
منها سمي كالربع سمي الاربعة فهي مخرجه والثلث سمي الثمانية فهي
مخرج له والثلثان والثلث سميها واحدهما الثلاثة فهي مخرجهما والسدس
سمي الستة فهي مخرجه الا النصف فمخرجه اثنان ابداً وليس هذا المخرج
سمياً له واذا اتحد الثلثان والثلث في المخرج فتكون مخرج هذه الفروض
الستة خمسة الاثنان والاربعة والثمانية والثلاثة والستة ويزاد عليها مخرجان
مركبان تولدا من اختلاط مخرج بمخرج كما سيتضح لك في باب الكسور وهما
اثنا عشر واربعة وعشرون فجملة المخرج سبعة وقد نوعوا المخرج الخمسة
الاولى الى نوعين لمناسبة بين اعدادها فالنوع الاول النصف والربع والثلث
والنوع الثاني الثلثان والثلث والسدس فاذا عرف ذلك نقول اما ان يكون

في المسئلة الفرضية فرض واحد او اكثر فان كان الاول فاصل كل مسئلة
 من مخرج ذلك الفرض وان كان الثاني فاما ان تكون الفروض من نوع
 واحد او من النوعين فان من نوع واحد اعتبر اكبر مخارج الفروض المفروضة
 اصلاً لها وان من نوعين فان كان النصف مع النوع الثاني كله او بعضه
 فاصل المسئلة من ستة ابدأ وان كان الربع كذلك فاصلها من اثني عشر
 ابدأ وان كان الثمن كذلك فاصلها من اربعة وعشرين ابدأ
 ما مثال ذلك اذا كان في المسئلة فرض واحد

مثاله ما لومات عن زوج او بنت او بنت ابن او اخت شقيقة او
 اخت لاب وعن عم فهنا لم يوجد الا فرض واحد وهو النصف للزوج او
 لمن وجدت بدله من المذكورات والباقي بالتعصيب للعم ومخرج النصف
 اثنان فاصل هذه المسئلة من اثنين النصف لذي الفرض ولتقدره الزوج

اصل المسئلة	٢	ت	
او لومات عن زوجة	١	زوج	والباقي وهو النصف الآخر للعم هكذا
اربعة والباقي للشقيق	١	عم	واخ شقيق فللزوجة الربع ومخرجه

اصل المسئلة	٤	ت	
ولو مات عن زوجة	١	زوجه	فاصل المسئلة من اربعة هكذا
والباقي لابن فاصلها من	٣	قيق	وابن فللزوجة الثمن ومخرجه الثمانية

اصل المسئلة	٨	ت	
او لومات عن بنتين وابن عم فلبنتين الثلثان	١	زوجة	ثمانية هكذا
والباقي لابن العم فاصلها من ثلاثة	٧	ابن	ومخرجهما

هكذا
 أيضاً
 لام واخ شقيق فلاخت السدس ومخرجه الستة والباقي للشقيق فاصلها

اصليها	٣	ت
	٢	بنتين
	١	ابن عم
اصل المسئلة	٦	
	١	اخت الام
	٥	فيق

من ستة هكذا

ما مثال ذلك اذا كان في المسئلة فرضان من نوع واحد


مثاله ما لو ماتت عن زوج وبنت وابن اخ لاب فلزوج الربع
 وللبنت النصف والباقي لابن الاخ واذا كان الربع والنصف من نوع واحد
 وهو الاول وكان مخرج الربع وهو اربعة اكبر من مخرج النصف وهو اثنان

٤		اعبر الاكبر ليكون اصلاً للمسئلة فاصلها من اربعة هكذا
١	زوج	
٣	بنت	ولو ماتت عن زوجة وبنت ابن وعم فللزوجة الثمن وللبنت
١	ابن اخ الاب	الابن النصف والباقي للعم والفرضان من نوع واحد ومخرج ابن اخ الاب

٨	ت	
١	زوجة	الثلث وهو ثمانية اكبر من مخرج النصف فكان اصلها من ثمانية هكذا
٤	بنت ابن	ولو ماتت عن بنتين وام وعم فلبنتين الثلثان وللأم السدس
٣	عم	والباقي للعم والفرضان من نوع وهو الثاني ومخرج السدس وهو

١	ت	
٤	بنتين	سته اكبر من مخرج الثلثين وهو ثلاثة فكان اصلها من ستة هكذا
١	ام	
١	عم	

ق
ت
ب



ما مثال ذلك اذا كان فرضان او اكثر من النوعين
مثاله ما لومات عن زوج واخين لام وابن اخ لاب فلزوج النصف
والاخين الثلث والباقي لابن الاخ وفرض النصف من النوع الاول
والثلث من الثاني واذا كان المختلط به من الاول هو النصف فاصلها من

٦	ت	ستة هكذا
٣	زوج	
٢	اخين لام	
١	ابن اخ الاب	

اصل المسئلة
ولو ماتت عن زوج وبنين وعم فلزوج
الرابع والبنين ابن اخ الاب ١ الثلثان وللعم الباقي فقد اختلط الربع من

١٢	ت	النوع الاول بالثلثين من النوع الثاني فاصلها من اثني عشر هكذا ولو ماتت عن زوجة وبنين وام وابن عم فللزوجة الثمن والبنين بنتين الثلثان وللأم السدس والباقي لابن العم فقد اختلط الثمن من الاول بالثلثين والسدس من الثاني فاصلها من اربعة وعشرين
٠٣	زوج	
٠٨	بنين	
٠١	عم	

٢٤	هكذا
٠٣	زوجة
١٦	بنين
٠٤	ام
٠١	ابن عم

ما التصحيح
هو اقل عدد يأتي منه نصيب كل واحد من الورثة صحيحاً
ما الفرق بين التأصيل والتصحيح

الفرق ان التأصيل يعتبر فيه ان تخرج نصباء الفرق صحيحة سواء
انقسمت على آحاد كل فريق صحيحاً ام لا فان انقسمت كذلك تكون
المسئلة صحيحة من اصلها والا احنج الى التصحيح المتكفل باعطاء انصباء الفرق
صحيحة على آحاديها وتوقف معرفة عمل التصحيح على بيان النسب الاربع
بين الاعداد

ما هي النسب الاربع بين الاعداد

هي التماثل والتداخل والتوافق والتباين

ما تماثل

هو ان يكون العددان متساويين لا يزيد احدهما عن الآخر كاربعة
واربعة

ما التداخل

هو ان يكون احد العددين اكبر من الآخر والاصغر يعد الاكبر اي
يفنيه لو طرح منه مرتين او اكثر كالاثنين والستة

ما التوافق

هو ان لا يعد الاصغر منهما الاكبر ولكن يعدها عدد ثالث ومحصلة
انهما يتوافقان في الاشتراك في كسر من الكسور كأن يكون لكل منهما
نصف صحيح او ثلث او ربع كذلك كالاربعة والستة فانهما متوافقان في
ان لكل منهما نصفاً صحيحاً

ما التباين

هو ان لا يعد اصغرها الاكبر ولا يعدها ايضاً عدد ثالث اي لا يشتركان

Faint, illegible text, possibly bleed-through from the reverse side of the page.

في كسر من الكسور كالاربعة والسبعة والواحد مابين لكل الاعداد
كيف عمل التصحيح

هو انه اما ان يكون الكسر على فريق واحد او اكثر ولا يتجاوز
الاربعة فان كان الاول نظرت في النسبة بين عدد رؤوس ذلك
الفريق وبين سهامهم المنكسرة عليهم فاما ان تكون الموافقة او المباينة فقط
فان كانت الموافقة اخذت وفق عدد الرؤوس وضربته في اصل المسئلة
وان كانت المباينة اخذت كل عدد الرؤوس وضربته في اصلها وحاصل
الضرب في صورتين تصح منه المسئلة وان كان الثاني نظرت في النسبة بين
عدد رؤوس اول فريق انكسرت عليهم السهام وبين سهامهم المنكسرة
ففي المباينة تأخذ كل عدد الرؤوس وفي الموافقة تأخذ وفقه وتحفظ ذلك ثم
تنظر كذلك ايضاً في الفريق الثاني ممن انكسرت عليهم سهامهم وهكذا في
الثالث او الرابع ان كان ثم تنظر في النسبة بين ما اجتمع معك من اعداد الرؤوس
المحفوظة مرتباً لها في الرسم بان تبديء بالاقل منها من جهة يمينك ثم بالاكثر
وهكذا فالعدد الاول منها والثاني اما ان تكون النسبة بينهما الماثلة فيكتفي
باحدهما واما المداخلة فيكتفي بالاكثر او الموافقة فيضرب وفق احدهما في جميع
او المباينة فيضرب كل احدهما في كل الآخر وكيف اتفق فما تحصل اخيراً في
الصور الاربعة ينظر في النسبة بينه وبين العدد الثالث بالنسب الاربع المذكورة
وما تحصل ففما بينه وبين العدد الرابع وما تحصل ي ضرب في اصل المسئلة
والحاصل تصح منه المسئلة وكل ما ي ضرب في اصل المسئلة على جميع التقادير يسمى
جزء السهم ي ضرب به نصيب كل من الورثة من اصل المسئلة فيحصل نصيب

كل واحد منهم من التصحيح

ما مثال الموافقة اذا كان الكسر على فريق واحد

مثالها ما لومات زيد عن ست بنات وام وعم فلبنتان الثلثان وللأم
السدس والباقي للعم واصلها من ستة ونصيب البنات وهو اربعة ثلثاها
لا يستقيم عليهن والنسبة بينه وبين عدد رؤسهن وهو ستة الموافقة بالنصف
فيؤخذ وفق عدد الرؤس اي نصفها وهو ثلاثة ويضرب في اصل المسئلة
وهو ستة فيحصل ثمانية عشرو هي التصحيح والثلاثة التي ضربناها في اصلها
هي جزء السهم فلاجل معرفة نصيب كل من التصحيح تضرب به نصيب
كل من اصلها واذا كان للبنات من اصلها اربعة تضربها في ٣ جزء السهم
فيحصل اثنا عشر هي لمن لكل واحدة اثنان واذا كان للام من اصلها واحد
تضربه في جزء السهم فلا يتغير فهي لها ومثلها العم لان ما بقي له للتعصيب

	اصلا			
	١٨	٦		واحد هكذا
التصحيح	٣	١٢	٤	٦ بنت
لكل واحدة				م
				عم

ما مثال المبائة في الكسر على فريق واحد

مثالها ما لومات عن زوجة وثلاث اخوات لاب وابن عم فاصلها من
اثني عشر للزوجة الربع لثلاثة وللأخوات الثلثان ثمانية ويبقى واحد لابن
العم بالتعصيب لكن سهم الأخوات غير مستقيم عليهن والنسبة بين عدد
رؤسهن وهو ثلاثة وبين الثمانية سهمهن المبائة فيضرب كل عدد رؤسهن

في ١٢ اصل المسئلة فيحصل ٣٦ ستة وثلاثون ومنها تصح المسئلة وجزء السهم
ثلاثة وقد كان للزوجة من اصلها ثلاثة نضربها في ٣ جزء السهم فيحصل
تسعة فهي لها من التصحيح وكان للاخوات من اصلها ثمانية نضربها في
جزء السهم فيحصل اربعة وعشرون فهي لمن منه لكل واحدة ثمانية وكان
اصلها التصحيح

لابن العم واحد نضربه في جزء السهم فلا يتغير هكذا

٣٦	١٢	
٠	٠٩	٠٣ زوجة
٨	٢٤	٠٨ ٣ اخت لاب
٠	٠٣	٠١ ابن عم

ما مثال الانكسار على اكثر من فريق

مثاله ما لومات عن زوجين وثلاث جدات وست بنات وخمسة
اعمام فاصلها من اربعة وعشرين للزوجين ثمنها ثلاثة وللجدات سدسها
اربعة وللبنات ثلثها ستة عشر وللاعمام الباقي وهو واحد لكن الثلاثة سهم
الزوجين غير مستقيمة عليهما وبينها وبين عدد رأسيهما وهو اثنان المبائة
فتأخذ الاثني وتحفظها والاربعة سهم الجدات غير مستقيمة عليهن وبينها
وبين الثلاثة عدد رؤسهن المبائة ايضاً فتأخذ الثلاثة عدد رؤسهن
وتحفظها والسته عشر سهم البنات غير مستقيمة عليهن وبينها وبين الستة
عدد رؤسهن الموافقة بالنصف فتأخذ وفق عدد رؤسهن اي نصفه وهو
ثلاثة وتحفظها وكذا الاعمام سهمهم وهو واحد مابين للخمسة عدد رؤسهم
فتأخذ الخمسة فيكون اجتمع معنا من اعداد الرؤس المحفوظة اثنان وثلاثة
وثلاثة وخمسة نضعها هكذا ٥ ٣ ٣ ٢ ونطلب النسبة بين الاثني والثلاثة

فاذا هي المباينة فنضرب احدها في الآخر فيحصل ستة فنطلب النسبة بينها وبين العدد الثالث وهو ثلاثة فاذا هي المداخلة فنكتفي بالاكبر وهو الستة فنطلب النسبة بينها وبين العدد الرابع وهو الخمسة فاذا هي المباينة فنضرب احدها في الآخر فيحصل ثلاثون نضربها في اصل المسئلة وهو اربعة وعشرون فيحصل سبعمائة وعشرون وهي التصحيح والثلاثون المضروبة في الاصل هي جزء السهم واذا كان للزوجين من اصلها ثلاثة نضربها في جزء السهم فيحصل تسعون فهي لها من التصحيح لكل واحدة خمسة واربعون وكان للجدات من اصلها اربعة نضربها في جزء السهم فيحصل مائة وعشرون فهي لمن لكل واحدة اربعون وكان للبنات ستة عشر نضربها في جزء السهم فيحصل اربعمائة وثمانون لكل واحدة ثمانون وكان للاعمام من اصلها واحد نضربه اصلها التصحيح


في جزء السهم فلا يتغير فلكل واحد ستة هكذا

٢٤	٧٢٠	لكل واحد
٣	٠٩٠	زوجة ٢٤
٤	١٢٠	جده ٣
١٦	٤٨٠	بنت ٦
١	٣٠	عم ٥

اسئلة في الباب

اخبرني عن اصول هذه المسائل الآتية وتصحيح ما يحتاج الى التصحيح منها مع وضع ذلك في شباك
 مات زيد عن زوجه وشقيقة واخت لاب وعن عم لايه وعم لجده

نها
ت
ب
ن
ي
م
ن
ب
ر
ه



ت عن ثلاث زوجات وبنتين وثلاثة ابناء واب . ت عن زوج وابنين
 وبنتين . ت عن اختين لام وثلاث اخوات لاب وابن عم . ت عن اربع
 زوجات واتسع بنات واثنى عشرة جدة واخوين شقيقين

اسئلة في مسائل الباب ❖ ❖

ماذا يحتاج اليه لتقسيم التركة بعد معرفة من يرث وميراثه ومن
 لا يرث . ما التأصيل . ما الضابط في التأصيل
 ما مثال ذلك اذا كان في المسئلة فرض واحد . ما مثال ذلك اذا كان
 في المسئلة فرضان من نوع واحد . ما مثال ذلك اذا كان فرضان او اكثر
 من النوعين . ما التصحيح . ما الفرق بين التأصيل والتصحيح . ما هي النسب
 الاربع بين الاعداد . ما التماثل . ما التداخل . ما التوافق . ما التباين . كيف
 عمل التصحيح . ما مثال الموافقة اذا كان الكسر على فريق واحد . ما مثال
 المباينة في الكسر على فريق واحد . ما مثال الانكسار على اكثر من فريق

الباب الخامس

في العول

اذا ضاق اصل المسئلة عن الفروض بان زادت بكميتها عليه
 كيف العمل

تزداد سهام على اصل المسئلة من كسرها كسدسها وثالثها على قدر
 المطلوب وهذا يسمى عولاً ومآله انه يدخل النقص على الفروض بان يزداد
 على اصل المسئلة ما به يفى لاعطاء الفروض لان الاصل هو مخرج لتلك
 الفروض التي هي كسور وكلما كبر المخرج صغر الكسر

كم اصل من اصول المسائل يعول

ثلاثة الستة والاثنا عشر والاربعة والعشرون واما الاربعة الباقية فلا

يدخلها عولة

كم عول لسته

لها اربع عولات فتعول بسدسها الى سبعة وثلثها الى ثمانية وبنصفها

الى تسعة وثلثها الى عشرة

ما المثل

مثاله لو ماتت عن زوج وشقيقة واخت لاب فلزوج النصف والشقيقة

النصف ايضاً وللأخت لاب السدس تكلمة للثلاثين واصل المسئلة من ستة

وهي تضيق عن ان يخرج منها تصفان وسدس والزائد السدس فيزيد على

اصلها وهو واحد فتكون قد عالت بسدسها الى سبعة هكذا

ولو كان في هذه المسئلة اختان لام بدل الاخت لاب

ولها الثلث لعالت بثلثها الى ثمانية ولو كانت معهن ايضاً

الاخت لاب فيكون الزوج النصف وللشقيقة ايضاً النصف وللأخت لاب

السدس وللأختين لام الثلث والمجموع تسعة لعالت بنصفها الى تسعة ولو

زيد على من ذكر الام او الجدة لعالت بثلثها الى عشرة

زيد على من ذكر الام او الجدة لعالت بثلثها الى عشرة

كم عولة للاثني عشر

ثلاث عولات فتعول بنصف سدسها الى ثلاثة عشر وربعها الى خمسة

عشر وربعها وسدسها الى سبعة عشر

ما المثال

مثاله ما لو ماتت عن زوج و بنتين وام فاصلها من اثني عشر للزوج
 الربع ثلاثة ولبنتين الثلثان ثمانية ولام السدس اثنان والمجموع ثلاثة
 عشر بحيث ضاقت الاثنا عشر عن هذه الفروض فتعول بنصف سدسها الى
 ثلاثة عشر ولو كان مع من ذكر اب وله السدس اثنان كما للام ومجموع
 الزائد عن اصلها ثلاثة و الثلثة ربع الاصل فتعول بربعها الى خمسة عشر
 ولو مات عن زوجة وشقيقتين وام واختين لام لعالت الى سبعة عشر اذ
 اصلها من اثني عشر للزوجة الربع ثلاثة وللشقيقتين الثلثان ثمانية ولام
 السدس اثنان وللأختين لام الثلث اربعة والمجموع سبعة عشر
 كم عولة للاربعة والعشرين

عولة واحدة عندنا اذ تعول بثمنها الى سبعة وعشرين

ما المثال

مثاله ما لو ماتت عن زوجة و بنتين وام واب فاصلها من اربعة وعشرين
 للزوجة الثمن ثلاثة ولبنتين الثلثان ستة عشر ولام السدس اربعة وكذا
 للاب السدس اربعة ومجموع هذه السهام سبعة وعشرون واصل المسئلة
 يضيق عن اعطاء هذه الفروض فتعول الى ذلك المجموع

﴿ اسئلة في الباب ﴾

اجبني عن العائل من اصول هذه المسائل الآتية وغير العائل
 مات عن شقيقتين واختين لام وجدة صحیحة . تت عن زوج وثلاث
 بنات وام وجد صحیح . ت عن زوجتين وخمس بنات وثلاث جدات اميات

صحيحات متحاذيات وعن اب . ت عن زوجة وثلاث اخوات شقائق وست
 اخوات لام وجدة هي ام اب اب الاب وجدة هي ام ام الام

— ❦ — اسئلة في مسائل الباب — ❦ —

اذا ضاق اصل المسئلة عن الفروض بان زادت بكميتها عليه كيف
 العمل . كم اصل من اصول المسائل يعول . كم عولة للسته . ما المثال . كم عولة
 ثلاثي عشر . ما المثال . كم عولة للاربعة والعشرين . ما المثال


— ❦ —
 الباب السادس

في الرد

كيف العمل اذا بقيت بقية عن ذوي الفروض ولم يكن عصابة يأخذها
 يرد الباقي على ذوي الفروض ما عدا الزوجين بحسب فروضهم بان
 يصغر اصل المسئلة لانه مخرج للفروض اذ هي كسور والمخرج كلما صغر زادت
 قيمة الكسور وهذا هو الرد فالرد زيادة في السهام تقيص في المخرج عكس
 العول زيادة في المخرج تقيص في السهام

ما المراد بالزيادة في السهام

المراد زيادة قيمتها كما اذا كان السهم سدساً اي واحداً من ستة فاذا
 نقصنا هذا المخرج وهو الستة اي صغرناه بان رددناه الى اربعة مثلاً صار
 السدس ربعاً اي واحداً من اربعة لانه يزداد في اعداد السهام بان كانت
 اربعة فنجعلها خمسة



من الذي يرد عليه
هو كل ذي فرض ما عدا الزوجين
كيف العمل في الرد

العمل فيه ان ننظر في المسئلة اما ان لا يكون فيها احد الزوجين اللذين لا يرد عليهما او يكون فان لم يكن احدهما فاما ان تكون القروس من جنس واحد كثلثين فقط او سدسين فقط او تكون من جنسين فاكثر كثلث و سدس او نصف وثلث فان كانت من جنس واحد رد اصل المسئلة الى مجموع عدد الرؤس لتساويها وان من جنسين او اكثر رد الى مجموع السهام وان كان احد الزوجين فكذلك اما ان يكون جنس واحد او اكثر فان كان جنس واحد رد اصل المسئلة الى اقل مخرج فرض احد الزوجين واعطى فرضه منه والباقي عنه يقسم على عدد رؤس اهل الرد اصحاب ذلك الجنس الواحد فان استقام فيها والا فاضرب وفق عدد الرؤس في كل المخرج الذي ردت اليه المسئلة ان كانت النسبة بين عدد الرؤس وذلك الباقي الموافقة وان تباينا ضربت كل عدد الرؤس في كل ذلك المخرج والحاصل تصح منه المسئلة وان كان جنسان فاكثر فكذلك رد اصل المسئلة الى اقل مخرج لفرض احد الزوجين واعطى فرضه والباقي يقسم على مسئلة ذوي القروض الردية اي على مجموع سهامهم يعني لو قدرنا انهم وحدهم ونظرنا الى اصل مسلتهم واقطعنا منه سهامهم وسكتنا عما يبقى فمجموع سهامهم يسمى مسلتهم الردية وحينئذ اما ان يستقيم ذلك الباقي عليها او لا فان استقام فيها ولا يستقيم الا في صورة واحدة ستأتي وان لم يستقم ضربنا كل مسلتهم

الردية في كل المخرج والحاصل تصح منه المسئلة ولاجل تحصيل سهام كل من التصحيح فنضرب سهم احد الزوجين من مخرج فرضه في المسئلة الردية وسهم كل من المسئلة الردية في الباقي عن احد الزوجين من مخرج فرضه وقد تحتاج المسئلة بعد هذا العمل الى التصحيح فتصحح بالاصول المتقدمة

ما مثال الرد في جنس واحد مع عدم احد الزوجين

مثاله ما لو مات عن بنتين فقط فاصلها من ثلاثة لهما منها ثلثاها اثنان ويبقى واحد نرده عليهما بان نجعل اصل المسئلة من اثنين عدد رأسيهما ولو مات عن اربع بنات نجعلها من اربعة ولو مات عن شقيقتين نجعلها من اثنين وهكذا

ما مثال الرد في جنسين او اكثر مع عدم احد الزوجين

مثاله ما لو مات عن اخت شقيقة و جدة فاصلها من ستة للشقيقة النصف ثلاثة وللجدة السدس واحد والجمع اربعة ويبقى اثنان نرده عليهما بان نجعل اصل المسئلة من مجموع السهام وهو اربعة للشقيقة ثلاثة اربع وللجدة ربع

ما مثال الرد في جنس واحد مع وجود احد الزوجين واستقامة القسمة
مثاله ما لو مات عن زوجة وثلاث اخوات شقائق فاصلها من اثني عشر للزوجة الربع وللثلاث ثمانية ويبقى واحد نرده عليهن بان نرد اصل المسئلة الى اقل عدد يخرج منه نصيب الزوجة واذا كان نصيبها هنا الربع واقل مخرج له الاربعة فنزدها الى اربعة ونعطي الزوجة واحدا منها والباقي وهو ثلاثة منقسم على رؤوس الشقائق لانهن ثلاثة فنذفعه

اصلا بعد الرد
اي الباقي لمن لكل واحدة واحد اي ربع هكذا لكل واحدة

	٤	
٠	١	زوجه
١	٣	قيضه

ما مثال الرد في جنس واحد مع وجود احد الزوجين وعدم استقامة الباقي مع التوافق

مثاله ما لو ماتت عن زوج وست بنات ابن فاصلها من اثني عشر للزوج الربع ثلاثة وبنات الابن الثلثان ثمانية ويبقى واحد نرده عليهن بان نرد المسئلة الى اربعة مخرج فرض الزوج فاذا اخذ الزوج واحدا منها كما هو نصيبه بقي ثلاثة غير مستقيمة على رؤس بنات الابن الست لكن النسبة بين هذا الباقي وبين عدد رؤسهن الموافقة بالثلث اذ لا عبرة بالمداخلة بين الرؤس والسهام فنضرب وفق رؤسهن اي الثلث وهو اثنان في المخرج الذي ردت اليه المسئلة وهو اربعة فيحصل ثمانية ومنها تصح المسئلة اذ كان للزوج واحد من الاربعة التي هي مخرج فرضه ورددنا اليه اصل المسئلة فنضربه في اثنين جزء السهم المضروب في الاربعة فيحصل له اثنان وبنات الابن من الاربعة ثلاثة نضربها في جزء السهم فيحصل ستة فهي لمن لكل

الاصل الردي التصحيح

واحدة منهن واحد هكذا لكل واحدة

	٨	٤	تت
٠	٢		زوج
١	٦	٦	بنت ابن

ما مثال الرد في جنس واحد مع وجود احد الزوجين وعدم استقامة
القسمة مع التباين

مثاله ما لو كانت بنات الابن في المثال المتقدم خمسة فان الثلاثة
التي بقيت لهن بعد نصيب الزوج غير مستقيمة على عدد رؤسهن وبينهما
المباينة فنضرب كل عدد رؤسهن وهو خمسة وهي جزء السهم في اربعة
مخرج فرض الزوج فيحصل عشرون ومنها تصح المسئلة اذ كان للزوج من
الاربعة واحد نضربه في جزء السهم فيحصل له خمسة وكان لبنات الابن
ثلاثة نضربها في جزء السهم فيحصل لهن خمسة عشر لكل واحدة منهن ثلاثة
ما مثال الرد في اكثر من جنس واحد مع وجود احد الزوجين
واستقامة القسمة

مثاله ما لو مات عن زوجة واختين لام وجدة فاصلها من اثني عشر
للزوجة الربع ثلاثة وللاختين لام الثلث اربعة وللجدة السدس اثنان
والمجموع تسعة فيبقى ثلاثة نردها على الاختين والجدة بان نرد المسئلة الى
اربعة فاذا اخذت الزوجة نصيبها وهو واحد بقي ثلاثة تنقسم على مسئلة
الاختين والجدة الردية اذ هي ايضاً ثلاثة فللاختين اثنان يعني ربعين وللجدة
واحد اي ربع والاستقامة في هذا مخصوصة في مثل هذه الصورة وهي ان
يكون الربع والباقي بين اهل الرد اثلاثاً

ما مثال الرد في اكثر من جنس واحد مع وجود احد الزوجين وعدم
استقامة القسمة

مثاله ما لو مات عن اربع زوجات وتسع بنات وست جدات فاصلها

من اربعة وعشرين وترد الى ثمانية مخرج فرض الزوجات فاذا دفعنا
 ثمنها للزوجات بقي سبعة ومسئلة البنات والجدات الردية خمسة وبينها وبين
 السبعة الباقية المباينة فيضرب جميع مسألتهن نغني الخمسة في مخرج فرض
 الزوجات وهو الثمانية فيبلغ اربعين فهي مخرج فروض الفريقين ولتعيين
 نصيب كل فريق نضرب سهام الزوجات في مسئلة اهل الرد فيكون الحاصل
 وهو خمسة نصيبهن من الاربعين ونضرب اربعة سهام البنات من مسألتهن
 الردية في سبعة وهي الباقي من مخرج فرض الزوجات فيكون الحاصل وهو
 ثمانية وعشرون نصيبهن من الاربعين ونضرب واحداً سهم الجدات من
 المسئلة الردية في سبعة فيكون الحاصل وهو سبعة نصيبهن من الاربعين واذ
 كانت الاربعين معتبرة اصلاً للفريقين اي فريق من لا يرد عليه نغني
 احد الزوجين وهو هنا الزوجات وفريق من يرد عليه وهو هنا البنات
 والجدات لم يضر انكسار سهام كل فريق على آحاده اذ هذا وظيفة التصحيح
 ولذلك نصح هذه المسئلة وتقول انا وجدنا الزوجات اربعاً ونصيبهن خمسة
 وبينهما مباينة فناخذ الاربعة عدد رؤسهن ونحفظها ووجدنا البنات تسعاً
 وسهامهن ثمانية وعشرون وبينهما مباينة فناخذ التسعة عدد رؤسهن ونحفظها
 والجدات ستاً وسهامهن سبعة وبينهما مباينة فناخذ الستة عدد رؤسهن
 ثم نطلب النسبة بين اعداد الرؤس المحفوظة فنجد عدد رؤس الزوجات
 الاربع موافقاً لعدد رؤس الجدات الست بالنصف فنضرب نصف الاربعة
 في الستة فيحصل اثنا عشر فنجد هذا الحاصل موافقاً لعدد رؤس البنات
 التسع بالثلث فنضرب ثلث التسعة في اثني عشر فيحصل ستة وثلاثون وهي

جزء السهم نضربه في الاربعين فيبلغ ألفاً واربعمائة واربعين ومنها تصح
المسئلة على آحاد كل فريق فقد كان نصيب الزوجات من الاربعين خمسة
نضربها في جزء السهم فيحصل مائة وثمانون فلكل واحدة منهن خمسة
واربعون وكان للبنات منها ثمانية وعشرون نضربها في جزء السهم فيحصل
الف وثمانية لكل واحدة منهن مائة واثنان وعشرون نصيب الجدات سبعة نضربها
في جزء السهم فيحصل مائتان واثنان وخمسون لكل واحدة منهن اثنان
واربعون بهذه الصورة

الاصل بعد الرد

ت	٤٠	١٤٤٠	بالتصحيح
زوجة ٤	٥	٠١٨٠	٠٤٥ لكل واحدة
بنت ٩	٢٨	١٠٠٨	١١٢
جده ٦	٧	٠٢٥٢	٠٤٢

❖ اسئلة في الباب ❖

اخبرني كيف يجري الرد في المسائل الآتية وهل هي كلها محتاجة الى

الرد ام لا

ماتت عن اربع بنات فقط اتت عن اخت لام وجدت عن بنت ابن
وامت عن اخ لام وامت عن زوجتين واربع اخوات لابنت عن زوج
وست بنات تتزوج وشقيقتين عن ثلاث زوجات وشقيقة وام
ت عن اربع زوجات وثلاث بنات وجدلة هي ام اب وجدلة هي ام ام

• ❖ أسئلة في مسائل الباب ❖ •

كيف العمل اذا بقيت بقية عن ذوي الفروض ولم يكن عصبة يأخذها . ما المراد بالزيادة في السهام . من الذي يرد عليه . كيف العمل في الرد . ما مثال الرد في جنس واحد ولم يكن احد الزوجين . ما مثال الرد في جنسين ولم يكن احد الزوجين . ما مثال الرد في جنس واحد مع وجود احد الزوجين واستقامة القسمة . ما مثال الرد في جنس واحد مع وجود احد الزوجين وعدم استقامة القسمة مع التوافق . ما مثال ذلك مع التباين . ما مثال الرد في اكثر من جنس واحد مع وجود الزوجين واستقامة القسمة ما مثال ذلك مع عدم استقامة القسمة

—————
الباب السابع

في ذوي الارحام

من هم ذوو الارحام

هم لغة الاقارب مطلقاً واصطلاحاً الاقارب الذين ليسوا من العصبات

ولا من اصحاب السهام المقدرة

كم صنف ذوو الارحام

هم اصناف اربعة الاول الذين ينتمون الى الميت وهم اولاد البنات وان

سفلوا واولاد بنات الابن كذلك والثاني الذين ينتمي اليهم الميت وهم الاجداد

والجدات الساقطون والساقطات وان علوا واطولون والثالث الذين ينتمون

الى ابوي الميت وهم اولاد الاخوات مطلقاً وبنات الاخوة كذلك وبنو الاخوة
لام وان سفلوا او سفلن والرابع الذين ينتمون الى جدي الميت او جدتيه وهم
العمات والاعمام لام والاخوال والحالات واولاد كل منهم وتقديمهم نفي
هو لاء الاصناف كالعصابات في تقديم الاقرب فالاقرب ولو انثى فاولادهم
بالميراث جزء الميت فان فقد فاصله فان فقد ففرع الاخوة بتشديد الواو فان
فقد فالعمومة والحوالة فان فقدوا فاولادهم ومن في حكمهم كبنات العم لابوين
اولاب وحاصله ان كل صنف من الاصناف الاربعة يجب ما بعده
فالاول يجب الثاني وهكذا

كيف التوريث في الصنف الاول

التوريث فيهم باعتبارات وذلك انهم اما ان يتفاوتوا في الدرجة او
يتساووا وحينئذ اما ان يكون البعض ولد الوارث دون الآخر او الكل ولد
الوارث او الكل غير ولد الوارث وحينئذ اما ان تتفق الاصول في صفة
الذكورة او الانوثة او يختلفوا وحينئذ اما ان يكون الاختلاف في بطن
واحد او اكثر وكيف اتفق فاما ان تعدد الفروع او لا وكيف اتفق فاما
ان تعدد جهات الفروع او لا فتوريثهم بحسب ما ذكر

كيف الحكم اذا تفاوتوا في الدرجة

الحكم فيهم حينئذ ان يقدم الاقرب ولو انثى كبنت بنت مع ابن بنت
بنت فان هذه البنت لقرىها مقدمة على هذا الابن

كيف الحكم اذا تساوا في الدرجة وكان البعض ولد الوارث دون الآخر
الحكم فيهم حينئذ ولا بد ان تكون اصولهم مختلفة في صفة الذكورة

Faint, illegible handwritten text, possibly bleed-through from the reverse side of the page.

فوقه
رسم
ني
م
ن
ن
ه

و

و

و

و

والانوثة ان يقدم ولد الوارث كبت بنت ابن علي غيره كبت بنت بنت
 كيف الحكم اذا تساوا في الدرجة وكان الكل ولد الوارث
 الحكم فيهم حينئذٍ ولا بد ان تكون اصولهم متفقة في الصفة ذكورة
 وانوثة ان يقسم المال عليهم بالسوية ان كانوا ذكورا فقط او اناثا فقط
 ولذا كرم مثل حظ الاثنيين ان كانوا مختلطين كبت بنت مع بنت بنت اخرى
 وكان بنت ابن مع بنت بنت ابن

كيف الحكم اذا تساوا في الدرجة وكان الكل ولد غير الوارث
 الحكم فيهم حينئذٍ كما لو كان الكل ولد الوارث اذا اتفقت اصولهم في
 الصفة ذكورة وانوثة كبت بنت بنت مع ابن بنت بنت
 كيف الحكم اذا تساوا في الدرجة وكان الكل ولد غير الوارث وصفة
 اصولهم مختلفة

ينظر اما ان يكون الاختلاف في بطن واحد او اكثر فان كان الاول
 كبت ابن بنت و بنت بنت بنت فالتسمة على ذلك البطن الذي اختلف للذكر
 مثل حظ الاثنيين وما اصاب كل اصل اعطى الى فرعه وان كان الثاني
 فالتسمة على اعلا بطن اختلف للذكر مثل حظ الاثنيين ثم يجعل الذكور
 طائفة والاناث طائفة فما اصاب الذكور من ذلك البطن يجمع ويعطى
 لفروعهم بحسب صفتهم ان لم يكن فيما بينهم وبين فروعهم من البطون
 اختلاف في الصفة بان يكون جميع المتوسط بينهم ذكورا فقط او اناثا فقط
 واذا كان فيما بينهما من البطون اختلاف يجمع ما اصاب الذكور ويقسم على
 اعلا الخلاف الواقع في اولادهم ويجعل الذكور هنا طائفة على ما سبق وهكذا

وكذا ما اصاب الاناث يعطى لفروعهن بحسب صفاتهم ان لم يكن فيما
 بينهن وبين فروعهن بطون مختلفة والا فيجمع ما اصاب الاناث ويقسم على
 اعلا الخلاف الذي وقع في اولادهن وهكذا
 ما مثال ذلك

مثاله ما لو مات عن ابن ابن ابن بنت وابن بنت ابن بنت وبنت ابن
 بنت بنت وابن بنت بنت بنت بهذه الصورة

١٨			
—————			
بنت	بنت	بنت	بنت
ابن	ابن	بنت	بنت
٦	٦	٣	٣
ابن	بنت	ابن	بنت
٨	٤	٤	٣
ابن	ابن	بنت	ابن
٨	٣	٤	٣

فالقسمة في البطن الثاني من ستة عدد الرؤس ثم نجعل الذكور طائفة
 وحصتهم اربعة والاناث طائفة وحصتهن اثنان وندفه حصة الذكور الى
 فروعهم في البطن الثالث وهم ابن وبنت كثلاثة ولا تقسم الاربعة على
 ثلاثة وتباينها فنضرب الثلاثة التي هي كل عدد الرؤس وهي جزء السهم في اصل
 المسئلة نعني الستة فتبلغ ثمانية عشر ومنها تصح المسئلة اذ كان للابنين في البطن
 الثاني اربعة نضربها في جزء السهم فيحصل اثنا عشر فللكل واحد منهما
 ستة وللبنتين اثنان نضربهما في جزء السهم فيحصل ستة فللكل واحدة
 ثلاثة ثم نجعل الذكور طائفة وحصتهم اثنا عشر والاناث طائفة وحصتهن

سنة وندفع حصة الذكور الى فروعهم في البطن الثالث فللابن ثمانية وللبنت اربعة وندفع حصة الاناث الى فروعهن في البطن الثالث فللابن اربعة وللبنت اثنان ثم نجعل الذكور طائفة وحصتهم اثنا عشر والاناث طائفة وحصتهن ستة وندفع حصة الذكور الى فروعهم في البطن الرابع فللابن الاول ثمانية وللبنت اربعة وندفع حصة الاناث الى فروعهن فللابن الثاني ثلاثة وللثالث ثلاثة كما رأيت

كيف الحكم لو تعدد فروع الاصول المختلفين

الحكم ان يعتبر عدد الفروع في الاصول مع بقاء وصف الاصول من الذكورة او الاناث وما له ان الحكم فيهم كما سبق غير انه يزداد اعتبار عدد الفروع في الاصول فالبنت التي لها فرعان اثنيان او ذكران او اثني وذكر تعتبر بنتين والابن الذي له ثلاثة فروع كيف اتفق يعتبر ثلاثة ابناء ما مثاله

مثاله ما لومات عن ابني بنت بنت بنت وبنات ابن بنت بنت وبنتي

بنت ابن بنت بهذه الصورة

		٢٨	ميت
بنت	بنت	بنت	بنت
ابن	بنت	بنت	بنت
١٦	٤	٨	
بنت	ابن	بنت	بنت
	٦	٦	
بنتي	بنت	ابني	بنت
١٦	٦	٦	

فاول بطن اختلف هو الثاني فيقسم المال عليه مع اعتبار عدد الفروع
 في الاصول اسباعاً لان البنت الاولى كبتين لانها ذات فرعين والبنت
 الثانية على حالها والابن فيه كابنين لانه ذو فرعين فيكون ببسطه كاربع
 نات فله اربعة اسباع وللبنتين ثلاثة اسباع ثم نجعل الذكور طائفة والاناث
 طائفة اخرى فنعطي اربعة اسباع الابن لبنتي بنته وثلاثة اسباع البنتين
 لولديهما وهما البنت والابن في البطن الثالث سوية بينهما لان البنت كبتين
 لتعدد فرعها فقد ساوت الابن وصارت معه كاربعة رؤوس والثلاثة
 لا تستقيم على الاربعة وتباينها فنضرب الاربعة وهي جزء السهم في السبعة
 اصل المسئلة فيحصل ثمانية وعشرون ومنها تصح المسئلة اذ كان لبنتي بنت
 ابن البنت اربعة نضربها في جزء السهم فيحصل ستة عشر فهي لها ونضرب
 الثلاثة التي للبنتين في البطن الثاني في جزء السهم فيحصل اثنا عشر نفسها
 بين البنت والابن في البطن الثالث سوية بينهما لما تقدم فيكون للبنت ستة
 تدفع لابنيها وللابن ستة تدفع لبنته

كيف الحكم في تعدد جهات الفروع

هو بلا فرق عما سبق وياخذ الفرع نصيبه من كل جهة كأنه فرع


تلك الجهة فقط

ما مثاله

مثاله ما لو مات عن بنتي بنت بنت هما ايضاً بنتا ابن بنت وعن ابن

بنت بنت بهذه الصورة

Faint, illegible handwriting, possibly bleed-through from the reverse side of the page. The text is arranged in several paragraphs, but the characters are too light and blurry to be transcribed accurately.



		مئة
بنت	بنت	بنت
بنت	ابن	بنت
٦	١٦	٦
ابن		بنتي
٦		٢٢

فتعتبر الجهات في الفروع مع اخذ العدد للاصول من الفروع ويقسم على اعلا الخلاف وهو البطن الثاني وفيه ابن كابنين لتعدد فرعه فيصير كاربع بنات وبناتان احدهما كبنتين لتعدد فرعها والمجموع كسبع بنات فالسئلة من سبعة للابن اربعة وللبنات التي في فرعها تعدد سهمان وللأخرى سهم واحد فاذا جعلنا الذكور طائفة والاناث طائفة ودفعنا نصيب الابن الى البنيتين اللتين في البطن الثالث اصاب كل واحدة منهما سهمان واذا دفعنا نصيب الاناث الى من بازائهن في البطن الثالث لم ينقسم عليهم لان نصيبهن ثلاثة اسباع ومن بازائهن ابن وبناتان فالمجموع كاربع بنات وبين الثلاثة والاربعة مباينة فضربنا الاربعة عدد الرؤس وهي جزء السهم في اصل المسئلة وهو سبعة فحصل ثمانية وعشرون ومنها تصح المسئلة اذ كان لابن البنت في البطن الثاني اربعة نضربها في جزء السهم فيحصل ستة عشر فنعطيها للبنيتين في البطن الثالث وكان للبنيتين في البطن الثاني ثلاثة نضربها في جزء السهم فيحصل اثنا عشر فنعطي نصفها وهو ستة لابن بنت البنت والنصف الآخر الى بنتي بنت البنت اللتين هما بنتا ابن البنت فتم لهما اثنان وعشرون

❖ اسئلة في الصنف الاول من اولي الارحام ❖

اجبني عن ميراث كل في هذه المسائل الآتية

مات عن زوجة وبنتي بنت بنت . ت عن بنت بنت وابن بنت
 بنت بنت وبنتي بنت بنت . تت عن زوج وبنتي بنت وبنتي بنت ابن .
 تت عن ثلاث بنات بنت ابن وابني بنت بنت . ت عن ابن بنت ابن وبنتي
 بنت ابن . ت عن بنت ابن ابن بنت وابن بنت وبنتي بنت
 بنت . تت عن بنتي ابن بنت بنت هما ايضاً بنتا بنت ابن بنت وعن ابني
 ابن ابن بنت

اسئلة في مسائل الباب والصنف الاول من اولي الارحام

من هم ذوو الارحام . كم صنف ذوو الارحام . كيف التوريث في
 الصنف الاول . كيف الحكم اذا تفاوتوا في الدرجة . كيف الحكم اذا
 تساوا في الدرجة وكان البعض ولد الوارث دون الآخر . كيف الحكم اذا
 تساوا في الدرجة وكان الكل ولد الوارث . كيف الحكم اذا تساوا في
 الدرجة وكان الكل ولد غير الوارث . كيف الحكم اذا تساوا في الدرجة
 وكان الكل ولد غير الوارث وصفة اصولهم مختلفة . ما مثال ذلك . كيف
 الحكم لو تعدد فروع الاصول المختلفين . ما مثاله . كيف الحكم في تعدد
 جهات الفروع

❖ الصنف الثاني ❖

من اولي الارحام

كيف التوريث في الصنف الثاني

اولو الارحام من الصنف الثاني اما ان تتفاوت درجاتهم او تستوي
واذا استوت فاما ان يختلف حيز قرابتهم او يتحد وحينئذٍ اما ان تتفق صفة
من يدلون به او تختلف فتورثهم على هذه الاعتبارات


كيف الحكم اذا تفاوتت درجاتهم

الحكم ان يقدم الاقرب سواء كان من جهة الاب او من جهة الام
وسواء كان الكل مدلياً بوارث كاب الام مع اب ام الاب او البعض مدلياً
بوارث دون الآخر كاب ام الاب مع اب اب الام

كيف الحكم اذا استوت درجاتهم واتحد حيز قرابتهم مع اتفاق صفة
من يدلون به

الحكم فيهم حينئذٍ ان تعتبر ابدانهم في القسمة للذكر مثل حظ الانثيين
ما مثاله

مثاله ما لو مات عن اب اب ام وام اب ام فيقسم المال اثلاثاً لاب
اب الام الثلثان ولام اب الام الثلث بهذه الصورة



كيف الحكم اذا استوت الدرجة واتحد حيز القرابة لكن اختلفت
صفة من يدلون به

الحكم حينئذ ان يقسم على اول بطن اختلف كما في الصنف الاول
ثم يدفع نصيب كل الى اصله ولا اعتبار فيه لوالد وارث او غيره
ما مثاله

مثاله ما لو مات عن اب ام اب وعن اب ام اب فالاختلاف
في البطن الثاني بين الام والاب فاصل المسئلة من ثلاثة للاب منها ثلثان
تدفعهما للاب الموجود في حيزه في البطن الرابع ويبقى منها واحد للام تدفعه
للاب الموجود في حيزها في البطن الرابع بهذه الصورة

٢	
مئة	
اب	
⏟	
اب	ام
ام	ام
اب	اب
٢	١

كيف الحكم اذا استوت الدرجة واختلف حيز القرابة

اذا اختلف حيز قرابتهم حينئذ بان كان بعضهم من جانب الاب
والبعض من جانب الام اعطي الثلثان لقرابة الاب والثلث لقرابة الام
كأنه مات عن اب وام ثم ما اصاب كل قرابة يقسم بينهم كما لو اتحد حيز
قرابتهم واذا تعددت البطون فالقسمة على اول بطن وقع فيه الاختلاف ولا
اعتبار فيه للادلاء بوارث او غيره
ما مثاله

ل

س

ن

ه

۱

۲

۳

۴

۵

مثالة ما لو مات عن ام واب اب ابام وعن ام واب اب ام اب هكذا



اسئلة في الصنف الثاني من ذوي الارحام

اجبني عن ميراث كل في هذه المسائل الآتية

مات عن اب اب ام اب وعن اب اب ام ام . ت عن ام ام
 اب ام وعن اب ام اب . ت عن اب اب ام اب وعن ام اب ام اب
 ت عن اب وام اب ام وعن اب ام ام

اسئلة في مسائل الصنف الثاني من ذوي الارحام

كيف التوريث في الصنف الثاني . كيف الحكم اذا تفاوتت درجاتهم
 كيف الحكم اذا استوت درجاتهم واتحد حيز قرابتهم لكن اختلفت صفة من
 يدلون به . ما مثاله . كيف الحكم اذا استوت الدرجة واختلف حيز قرابتهم
 ما مثاله

❦ الصنف الثالث ❦

من ذوي الارحام

كيف التوريث في الصنف الثالث

لا يخلو اما ان تفاوت درجاتهم او تستوي وحينئذٍ اما ان يكونوا
كلهم اولاد العصبه مع كون بعضهم اقوى من الآخر او غير اقوى واما ان
يكون بعضهم ولد العصبه وبعضهم ولد ذي الرحم والاصول اما ان تكون
مختلفة او لا والفرع اما ان يكون متعدداً او لا والجهات اما ان تكون متعدده
او لا فتورثهم على هذه الاعبارات

كيف الحكم اذا تفاوتت درجاتهم

الحكم حينئذٍ ان يقدم الاقرب ولو انثى كبت اخت على ابن بنت اخ

كيف الحكم اذا استوت الدرجة مع كونهم اولاد العصبه

الحكم حينئذٍ ان يقدم الاقوى ان كان والا فالقسمة بينهم بالسواء ان

اتحدوا ذكوره او انوثه والا فللذكر مثل حظ الانثيين

ما مثاله

مثاله ما لو ترك بنت ابن اخ لابوين وبنت ابن اخ لاب وبنت ابن

اخ لام فللمال كله لبنت ابن الاخ لابوين لكونها اقوى ولو ترك بنت ابن

اخ لاب مع بنت ابن اخ لاب آخر فللمال بينهما بالسواء لاتحادهما في القوة

وحاصله ان من كان لابوين قدم على من لاب ومن لاب على من لام

كيف الحكم اذا استوت الدرجة مع كون بعضهم ولد العصبه والآخر

ولد ذي الرحم

قدم ولد العصبه على ولد ذي الرحم كبت ابن اخ الابوين او لاب مع

بنت ابن اخ فللمال كله لبنت ابن الاخ لانها ولد العصبه وهو ابن الاخ

كيف الحكم اذا استوت الدرجة واختلفت اصولهم

الحكم ان يقسم على اول بطن اختلف للذكر مثل حظ الاثني عشر
فروع الام فالقسمة بينهم على السواء واختلف الاصول هنا اعم من ان
يكون بالذكورة والانوثة او بالفرضية او بالعصوبة مع الفرضية
ما مثال الاختلاف بالذكورة والانوثة

مثاله ما لومات عن بنت اخ شقيق وابن اخت شقيقة فالقسمة على
الاخ والاخت اثلاثاً للاخ الثلثان ويعطى نصيبه الى بنته وللأخت الثلث
ويعطى نصيبها لابنها وقد يكون الاختلاف في ذلك في الفرع كما لومات
عن بنت بنت اخت لاب وابن ابن اخت لاب وبنت ابن اخت لاب
بهذه الصورة

١٥		
مئة		
—————		
اخت لاب	اخت لاب	اخت لاب
ابن	ابن	بنت
بنت	ابن	بنت
٤	٨	٣

فالقسمة في البطن الثاني وفيه ابان باربع بنات وبنت والمجموع خمسة
للابنين اربعة وللبنات واحد ثم نجعل الذكور طائفة وندفع نصيب الابنين
الى فرعيهما وهما ابن وبنت في البطن الثالث وهما بثلاثة رؤس والاربعة
لا تستقيم عليها وتباينها فنضرب عدد الرؤس وهو ثلاثة وهي جزء السهم
في الخمسة اصل المسئلة فيحصل خمسة عشر ومنها تصح المسئلة اذ كان لفرعي
الابنين اربعة نضربها في جزء السهم فيحصل اثنا عشر للابن ثمانية وللبنات
اربعة وكان لفرع بنت الاخت واحد نضربه في جزء السهم فيحصل لها

ثلاثة كما رأيت

ما مثال الاختلاف بالفرضية

مثاله ما لو ماتت عن ابن اخت لاب وابن اخ لام فالقسمة على
الاخت والاخ والمسئلة من ستة وترد الى اربعة لكون الفرضين نصفاً وسدساً
ومجموعهما اربعة اسداس فللاخت ثلاثة وللأخ واحد ثم يدفع نصيب كل
الى فرعه

ما مثال الاختلاف بالعصوبة والفرضية

مثاله بنت اخ لابوين او لاب مع ابن اخ لام فللاخ لام السدس
واحد وللأخ لابوين الباقي خمسة ثم يدفع نصيب كل الى فرعه
كيف الحكم اذا تعدد الفرع
الحكم حينئذ ان يعتبر عدد الفرع في اصله
ما مثاله

مثاله ما لو ترك ابناً وبناتاً لاخت لابوين ومثلها لاخت لاب ومثلها
لاخت لام بهذه الصورة مية

اخت لام		اخت لاب		اخت لابوين	
ابن	بنت	ابن	بنت	ابن	بنت
٢	١	٢	١	٤	٢

فيقسم المال اثلاثاً ثلثه للاخت لام لانها كاخين لتعدد فرعها وثلثاه
للاخت لابوين لانها كاخين كذلك ولا شيء للاخت لاب لانها معتبرة
ههنا مع شقيقتين واصل المسئلة من ثلاثة واحد للاخت لام ويدفع الى

علی
سأ
کل

ب

فرع
الرو
وهو
الرو
اص
نض
وا
ند

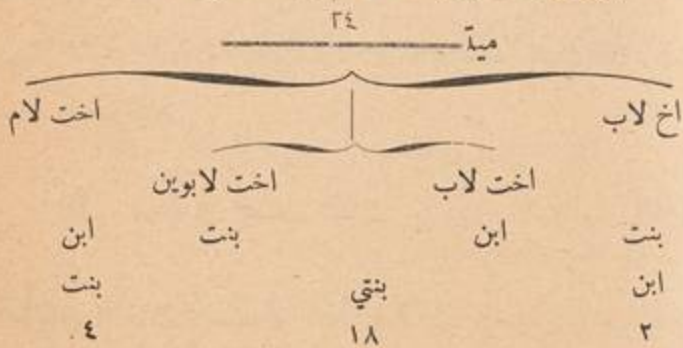
فرعيها وهو غير مستقيم عليهما لانهما ثلاثة رؤس ومباين لما فناخذ عدد
 الرؤس وهو ثلاثة ونحفظه واثنان للاخت لابوين وندفعهما الى فرعيها
 وهو غير مستقيم عليهما لانهما ثلاثة رؤس ايضاً ومباين لما فناخذ عدد
 الرؤس وهو ثلاثة مماثلة للثلاثة المحفوظة فنكتفي باحداها ونضربه في ثلاثة
 اصل المسئلة فيحصل تسعة ومنها تصح المسئلة اذ كان للاخت لام واحد
 نضربه في ثلاثة جزء السهم فيحصل ثلاثة ندفعها لفرعيها للابن اثنان وللبنات
 واحد وكان للاخت لابوين اثنان نضربهما في جزء السهم فيحصل ستة
 ندفعها لفرعيها للابن اربعة وللبنات اثنان كما رأيت

كيف الحكم اذا تعددت الجهات

الحكم ان يعتبر تعدد الجهات في الفروع كما اعتبر تعدد الفروع في الاصول
 ما مثاله

مثاله ما لو ترك ابن بنت اخ لاب وبنتي ابن اخت لاب هما ايضاً بنتاً

بنت اخت لابوين وبنت ابن اخت لام بهذه الصورة



فاصل المسئلة من ستة لوجود السدس فيها للاخت لام السدس واحد
 والثلاثان وهما اربعة للاخت لابوين لانها كاخنين لتعدد فرعيها والباقي وهو

واحد بين الاخ والاخت لآب مناصفة لانها ساوته لتعدد فرعها فهي كآختين
 لآب وهي معه باربعة رؤس ولا يستقيم الواحد على الاربعة ويأينها فنضرب
 الاربعة عدد الرؤس وهي جزء السهم في الستة اصل المسئلة فيحصل اربعة
 وعشرون ومنها تصح المسئلة اذ كان للاخت لآم من اصلها واحد نضربه في
 جزء السهم فيحصل اربعة ندفعها الى بنت ابنها وكان للاختين لآبوين
 اربعة نضربها في جزء السهم فيحصل ستة عشر ندفعها الى بنتي بنتها وكان
 للاخ لآب والاخت لآب واحد نضربه في جزء السهم فيحصل اربعة
 للاخ اثنان وللآخت ايضاً اثنان لانها كآختين كما علمت فنضع نصيبه لابن
 بنته ونصيبها لبنتي ابنها فقدم لهاتين البنيتين ثمانية عشر اثنان من جهة ابينها
 وهو ابن الاخت لآب وستة عشر من جهة امها وهي بنت الاخت لآبوين
 ولم تجعل في القسمة ههنا الذكور طائفة والاناث طائفة كما هو الحكم عند
 الاختلاف في كل بطن لانه انما يجعل فيها ذلك اذا كان الاختلاف في الذكورة
 والانوثة فقط واما اذا كان الاختلاف ايضاً بالفرضية فانه يجعل كل ذي
 فرض طائفة لا اختلاف الحظوظ و يدفع نصيبه الى آخر فروعه والاضاعت
 الحظوظ كما هو ظاهر

﴿ اسئلة في الصنف الثالث من ذوي الارحام ﴾

اجبني عن ميراث كل في المسائل الآتية

مات عن بنت ابن اخ لآبوين وبنت ابن اخ لآب . ت عن بنت اخ
 شقيق وابن وبنت آخت شقيقة . تت عن بنت بنت آخت لآبوين وبنت

بنت اخ لاب . عن بنت اخ لابوين وابن وبنت اخت لابوين وبنت اخ
لابوين وابن وبنت اخت لاب وبنت اخ لام وابن وبنت اخت
لام . ت عن بنت بنت اخ لاب وابني بنت اخت لابوين وثلاث بنات
ابن اخت لام

❖ اسئلة في مسائل الصنف الثالث من ذوي الارحام ❖

كيف التوريث في الصنف الثالث . كيف الحكم اذا تفاوتت درجاتهم
كيف الحكم اذا استوت الدرجة مع كونهم اولاد العصبية . ما مثاله . كيف
الحكم اذا استوت الدرجة مع كون بعضهم ولد العصبية والآخر ولد ذي الرحم
كيف الحكم اذا استوت الدرجة واختلفت الاصول . ما مثال الاختلاف
بالذكورة والانوثة . ما مثال الاختلاف بالفرضية . ما مثال الاختلاف
بالعصبية مع الفرضية . كيف الحكم اذا تعدد الفرع . ما مثاله . كيف الحكم
اذا تعددت الجهات . ما مثاله . انما لم يجعل في القسمة ههنا المذكور طائفة
والاناث طائفة كما هو الحكم عند الاختلاف في كل بطن

❖ الصنف الرابع من ذوي الارحام ❖

كيف التوريث في الصنف الرابع
للصنف الرابع نوعان لكل منها حكم في التوريث خلاف ما للآخر
اما النوع الاول فالاصول الذين هم من جهة الاب وهم العممة الشقيقة والعممة
لاب والعممة لام والعم اخوالاب من الام والذين هم من جهة الام وهم

الحال الشقيق والحال لاب والحال لام والحالة الشقيقة والتي لاب والتي لام
 واما النوع الثاني فاولاد من ذكر وفي حكمهم بنت العم لابوين او لاب واما
 اولاد العم لام فمن جملة اولاد هذا الصنف والنوع الاول لا تفاوت فيه في
 الدرجة وانما التفاوت فيها في اولادهم ومن بعدهم

كيف توريث النوع الاول من هذا الصنف

ينظر اما ان يكون حيز قرابتهم متحدًا كأن يكونوا كلهم من جهة
 ابي الميت او امه واما ان يكون مختلفًا فان كان الاول قدم منهم الاقوى ولو
 انثى اجماعًا اي يقدم من كان لابوين على من لاب او لام ومن كان لاب
 على من لام كعمة شقيقة فانها تقدم على العمه لاب او لام وكالحالة لابوين
 فانها تقدم على الحالة لاب او لام واذا استووا في القوة يقسم على الابدان للذكر
 مثل حظ الانثيين كم وعمه كلاهما لام او خال وخالة كلاهما لابوين او
 لاب او لام وان كان الثاني بان كان حيز قرابتهم مختلفًا بعضهم من جهة
 الاب وبعضهم من جهة الام فلقرابة الاب الثلثان وقرابة الام الثلث
 ما مثاله

مثاله ما لومات عن عمه شقيقة وخالة لاب فثلثا المال للعمه


وثلاثة للخالة

انما لم تقدم العمه ههنا فتعطيها كل المال لانها اقوى

لا يقدم الاقوى في جهة على غيره في جهة اخري وانما يقدم اقوى كل
 جهة فيها كما لو انفردت الجهة وان استوى قسم حظ الجهة على ذويها
 فيعطى للذكر مثل حظ الانثيين فلو مات عن خمس عبات لام وخال وخالة

لام
ما
في

مة
لو
س
ن



لابوين وخالة لام كان للعمات ثلثا المال ولا تعتبر قوة الخال والخالة لابوين
لاختلاف الجهة والثلث الباقي ثلثاه للخال وثلثه للخالة لابوين ولا شيء
للخالة لام لتقدم الخال والخالة لابوين عليها لكونهما اقوى منها قرابة مع
اتحاد الجهة

كيف توريث النوع الثاني من هذا الصنف

توريثهم باعتبارات وذلك اما ان تستوي درجاتهم او يختلف وعلى
الاول اما ان يتحد حينز قرابتهم مع كونهم اولاد العصبه او اولاد ذي الرحم
او مع كون بعضهم ولد العصبه وبعضهم ولد ذي الرحم او يختلف حينز
قرابتهم مع كون بعضهم ولد العصبه وبعضهم ولد ذي الرحم او مع كونهم
اولاد ذي الرحم وبقي هناك استوائهم في الدرجة واختلاف صفة اصولهم
ذكورة وانوثة مع تعدد البطون وكذا بقي ما لو تعدد الفرع او الجهة

كيف الحكم اذا تفاوتوا في الدرجة

الحكم ان يقدم الاقرب على غيره ولو في غير جهته
ما مثاله

مثاله ما لو ترك بنت عمه وابن بنت عمه وبنت بنت خالة فتقدم
بنت العمه لكونها اقرب فتأخذ كل المال ولو ترك بنت خالة وابن بنت خالة
وبنت بنت عمه قدمت بنت الخالة لاقربيتها فتستبد بكل المال ونحوه ان
اولاد العمه اولى من اولاد اولاد العمه واولاد الخالة واولاد الخالة
اولى من اولاد اولاد الخالة واولاد العمه

كيف اتحاد حينز قرابتهم مع كونهم اولاد العصبه او اولاد ذي الرحم

بان يكونوا من جانب ابي الميت او من جانب امه مع كونهم اولاد
العصبة كبنت عم لابوين و بنت عم لاب او اولاد ذي الرحم كالولاد عمات
متفرقات او اولاد اخوال او اولاد خالات كذلك

كيف الحكم اذا استوت الدرجة واتحد حيز القرابة مع كونهم اولاد
العصبة او ذي الرحم

الحكم ان يقدم الاقوى قرابة فمن لابوين اولى ممن لاب ومن لاب
اولى ممن لام وان استتوا قوة يساوى بينهم كبنت عم لابوين و بنت عم
آخر لابوين ايضاً

كيف الحكم اذا استوت الدرجة واتحد حيز القرابة مع كون بعضهم
ولد العصبة و بعضهم ولد ذي الرحم

ينظر حينئذٍ اما ان يستتوا في قوة القرابة او لا فان استتوا قدم ولد
العصبة كبنت عم شقيق مع ابن عمه شقيقة فلكون بنت العم ولد العصبة
تقدم على ابن العمه وكذا اذا كانا لاب وان اختلفوا قوة قدم الاقوى كبنت
عم لاب مع ابن عمه لابوين فان ابن العمه مقدم لكونه اقوى فيترجح بمعنى
في نفسه و بنت العم انما تترجح بمعنى في غيرها وهو كون الاصل عصبة وانما
يترجح هذا اذا لم يكن الترتيح بمعنى في النفس

كيف الحكم اذا اختلف حيز القرابة مع كون البعض ولد العصبة
والبعض الآخر ولد ذي الرحم

اختلف في ذلك كبنت عم لاب وابن خال وما في المتون ان الثلثين
لبنت العم والثلث لابن الخال وفي الفتاوى الحامدية ان المعتبر ما في المتون

لوضعها لنقل المذهب

كيف الحكم اذا اختلف حيز القرابة مع كونهم اولاد ذي الرحم
الحكم ان الثلثين لمن يدلى بقرابة الاب والثلث لمن يدلى بقرابة الام
كبت عمه و بنت خالة

هل تعتبر بينهم قوة القرابة ام لا

لا تعتبر بين الفريقين قوة القرابة فلا يرجح ولد العممة الشقيقة على ولد
الخالة لاب وانما يعتبر في كل جهة قوة قرابتها فلو ترك بنت خالة شقيقة
وبنت خالة لاب مع بنت عممة شقيقة وبنت عممة لاب تقدم بنت الخالة
الشقيقة وبنت العممة الشقيقة فلبنت الخالة الثلث ولبنت العممة الثلثان
كيف الحكم عند استواء درجاتهم واختلاف اصولهم ذكورة وانوثة
مع تعدد البطون

الحكم فيهم حينئذ ان يقسم على اول بطن اختلف كما تقدم
هل يعتبر عدد الفروع في الاصول في هذا الصنف ويعتبر ايضاً فيه
جهات الاصول في الفروع
نعم يعتبر في الاصول عدد الفروع كما يعتبر جهات الاصول في الفروع
كما في الصنف الاول والثالث
ما مثاله

مثاله ما لو مات عن ابني بنت عممة لاب و بنتي ابن عممة لاب هما ايضاً
بنتا بنت عم لاب و بنتي بنت خالة لاب و ابني ابن خالة لاب هما ايضاً ابنا
بنت خال لاب بهذه الصورة

ثم يعطى فريق الام اثنين من الستة ويدفع واحد منهما الى الخال ويجعل
 كطائفة والاخر الى الخالتين وتجعلان كطائفة واذا دفع نصيب الخال وهو
 واحد الى ابني بنته لم يستقم عليهما وبينهما المباينة فيحفظ اثنان عدد رأسيهما
 وفروع الخالتين ابن كابنين وبنت كبتنين والمجموع بالاخصار كثلاثة
 بنين ولا يستقيم الواحد عليهم فناخذ ثلاثة عدد رؤسهم فاجتمع معنا من
 اعداد الرؤس المحفوظة ثلاثة وثلاثة واثنان والنسبة بين الثلاثين المائة
 فنكتفي باحدهما وننسبها الى الاثنين فنجدهما متباينين فنضرب احدهما في
 الاخر فيحصل ستة وهي جزء السهم نضربه في تلك الستة فيحصل ستة وثلاثون
 ومنها تصح المسئلة ثلاثا وهما اربعة وعشرون لفريق الاب وثلاثا وهو اثنا
 عشر لفريق الام وقد كان للعم اثنان نضربهما في جزء السهم فيحصل اثنا
 عشر وحيث لم يقع اختلاف في اسفله ندفع نصيبه هذا الى بنتي بنته وكان
 للعمتين اثنان تقسمهما على البطن الثاني لهما لوقوع الاختلاف فيه وفيه ابن
 كابنين وبنت كبتنين فنضربها بابن واحد فنضرب النصيب المنتقل اليهما
 وهو اثنان في جزء السهم فيحصل اثنا عشر ثلاثا لابن العممة الذي اعتبرناه
 كابنين وذلك ثمانية ندفعها لبنتيه حتى تم لهما عشرون اثنا عشر من جهة العم
 وهذه ثمانية انتهما من جهة العممة وثلاثا وهو اربعة لبنت العممة المحسوبة كابن
 ندفعه الى ابنيها ومجموع هذه الانصبة اربعة وعشرون ثلثا التصحيح واذا
 ضربنا نصيب ابني بنت الخال وهو واحد في جزء السهم كان ستة فهي لهما
 واذا ضربنا نصيب فروع الخالتين وهو واحد ايضا في جزء السهم حصل ستة
 فلابني ابن الحالة اربعة ولبنتي بنت الحالة اثنان فتم لابني ابن الحالة عشرة

اربعة من جهة الحالة وستة من جهة الحال ومجموع هذه الاصباء اثنا عشر
وهي مع الاربعة والعشرين ستة وثلاثون طبق التصحيح كما رايت

❦ اسئلة في الصنف الرابع من ذوي الارحام ❦

اجبني عن ميراث كل في هذه المسائل الآتية

مات عن بنت بنت ابن عمه لابوين وابني بنت بنت خالة لام وبنت
بنت بنت خالة لاب

تت عن زوج وخالة لاب وعمه لام وخال لابوين . تت عن بنت عم
لاب وابن عم لام . تت عن عم لام وعمه لاب وخالة لام . تت عن عم لام
وخال لاب . تت عن عمه لابوين وعمه لاب وابن خالة . تت عن ابن ابن
خالة لابوين وابن ابن بنت خالة لابوين وابن بنت عمه لابوين وبنت ابن
بنت عم لاب

❦ اسئلة في مسائل الصنف الرابع من ذوي الارحام ❦

كيف التوريث في الصنف الرابع . كيف توريث النوع الاول من
هذا الصنف . ما مثاله . لم لم تقدم العمه ههنا فتعطيها كل المال لانها اقوى .
كيف توريث النوع الثاني من هذا الصنف . كيف الحكم اذا تفاوتوا في
الدرجة . ما مثاله . كيف اتحاد حيز قرابتهم مع كونهم اولاد العصبه او ذي
الرحم . كيف الحكم اذا استوت الدرجة واتحد حيز القرابة مع كون بعضهم
ولد العصبه وبعضهم ولد ذي الرحم . كيف الحكم اذا اختلف حيز القرابة

عشر

[Faint, illegible handwritten text, likely bleed-through from the reverse side of the page.]

نت

عم

لام

بن


بن

ن

ه

ه

ن



مع كون بعضهم ولد العصبة والبعض ولد ذي الرحم . كيف الحكم اذا
 اختلف حيز القرابة مع كونهم اولاد ذي الرحم . هل تعتبر فيهم قوة القرابة
 ام لا . كيف الحكم عند استوائهم درجة واختلاف صفة اصولهم ذكورة
 وانوثة مع تعدد البطون . هل يعتبر عدد الفروع في هذا الصنف في الاصول
 ويعتبر جهات الاصول في الفروع ايضاً ام لا . ما مثاله

الباب الثامن

في التخرج

كيف العمل لو صالح احد الورثة على شيء معلوم من التركة
 طرح سهمه من التصحيح وجعل كأنه استوفى نصيبه ثم قسم الباقي من
 التصحيح على الباقي من الورثة
 ما مثاله

مثاله ما لو ماتت عن زوج وام وعم فاصل المسئلة من ستة للزوج النصف
 ثلاثة اسهم وللأم الثلث سهمان والباقي وهو واحد للعم فلو صالح الزوج على
 ما في ذمته من المهر وخرج من بين الورثة طرحنا سهامه من التصحيح وهي
 ثلاثة وقسمنا الباقي بين الام والعم اثلاثاً بقدر سهامهما من التصحيح قبل
 التخرج وحينئذ يكون الباقي من التركة بعد المهر الذي في ذمة الزوج اثلاثاً
 للام سهمان وللعلم سهم

لم لم يجعل الزوج كأنه لم يكن

لا يجوز جعله كذلك لانه قبض بدل نصيبه وايضاً يحصل فرق بين

الصورتين الا ترى انه لو ماتت عن زوج وثلاث اخوات متفرقات فصاحت
الاخت لابوين وخرجت من بين كان الباقي بينهم اخماساً للزوج منها
ثلاثة وللأخت لاب سهم وللأخت لام سهم على ما كان لهم من ثمانية لان
اصل المسئلة من ستة وتقول الى ثمانية فاذا استوفت الأخت لابوين نصيبها
بقي خمسة ولو جعلت كأنها لم تكن لكانت من ستة وتقول بسهم الى سبعة
ولو اعطى للم سهمان وللام سهم لانقلب فرضها من ثلث اصل المال الى
ثلث الباقي وهو خلاف الاجماع

❖ اسئلة في الباب ❖

اجنبي كيف العمل في المسائل الآتية

ماتت عن زوجة واخت لام وشقيقة وابن عم فصاحت الشقيقة
على ما ذمتها من الدين وخرجت من بين بنت عن زوج وام وبنت وبنت
ابن وجد فصالح الزوج على ما في ذمته من المهر وخرج من ابين بنت عن جدة
هي ام ام ام وجددة هي ام اب وشقيقتين واخت لاب واخ لاب فصاحت
الاخت لاب والاخ لاب على دين في ذمتها وخرجت من بين بنت عن
زوجة وبنت ابن وجد صحيح فصاحت الزوجة على دين في ذمتها وخرجت
من ابين

❖ اسئلة في مسائل الباب ❖

كيف العمل لو صالح احد الورثة على شيء معلوم من التركة ما مثاله
لم لم يجعل الزوج كأنه لم يكن

الباب التاسع

في الحمل

كم مدة الحمل

اقل مدته ستة اشهر واكثرها سنتان عندنا

متى يرث الحمل من حيث المدة

اذا كان الحمل من الميت فانما يرث اذا ولدته امه لاقبل من سنتين ولم تكن المرأة اقرت بانقضاء العدة فلولتام السنتين او اكثر او اقرت بانقضاء العدة فلا وان كان من غيره فانما يرث لو ولدته لسته اشهر او اقل والا فلا اذا كانت معتدة ولم تقر بانقضاء العدة او اقر الورثة بوجوده

كيف الحكم اذا مات الولد قبل تمام خروجه

اذا خرج اكثر الولد حياً وعلت حياته باثر كصوت او عطاس او بكاء او تحريك عضو ثم مات فانه يرث لان للاكثر حكم الكل وان خرج اقله حياً ولو ظهر منه شيء من هذه العلامات فانه لا يرث

ما الذي نعتبره في كون اكثره او اقله حياً

العبرة في اكثره صدره ان خرج مستقيماً اي برأسه فان خرج صدره كله وهو حي فقد خرج اكثره حياً وان خرج معكوساً اي برجله فالعبرة سرته فان خرجت السرة وهو حي فقد خرج اكثره حياً فيرث والا فلا

ما الحكم اذا خرج بنفسه ميتاً

الحكم فيه حينئذ انه لا يرث ولا يورث واما اذا خرج ميتاً بجنابة

فيرث ويورث

ما الحكم في توريث الحمل

الحكم ان يوقف للجنين نصيب ابن واحد او بنت واحدة ايهما كان
اكثر واذا كان الحمل يرث في احدى حالتيه فقط فيقدر بتلك الحالة لانه
يعتبر له ما هو الاصلح والافضل

ما مثاله

مثاله ما لو تركت زوجاً واخناً لابوين وحملًا من ابيها فلو قدر الحمل
ذكرًا لم يبق له شيء لكونه اخا عصبه وقد استغرقت الفروض التركة والمسئلة
حينئذٍ من اثنين ولو قدر انثى يكون لها السدس تكملة للثلثين فتكون المسئلة
من ستة وتعول الى سبعة فيقدر انثى اذ ذاك هو الافضل للحمل وعكس ذلك
في عم وزوجة اخ لاب حامل فعلى تقدير ذكوره يكون ابن اخ وهو اقرب
من العم فله الارث وعلى تقدير انوثته يكون بنت اخ وهي من ذوي الارحام
فلا ترث والمال للعم فيقدر ذكرًا اذ هو الافضل

ما الحكم اذا احتمل ان تكون الورثة اخذوا اكثر من حقوقهم

اذا احتمل انهم اخذوا اكثر من حقوقهم على تقدير الحمل اكثر من
واحد اخذ القاضي كفيلاً منهم خوفاً من النقص واما الذين لا تتغير
فروضهم ان كان الحمل واحداً او اكثر كالزوجة فلا يأخذ منهم ذلك
كم حالة للورثة مع الحمل

لهم معه ثلاثة احوال الاولى يرثون فيها معه كيفما قدر لكن لتغير
فروضهم والثانية يرثون معه كيفما قدر ولا تتغير فروضهم والثالثة يرمون

Faint, illegible handwriting, likely bleed-through from the reverse side of the page. The text is arranged in approximately 15 horizontal lines.

فيها في احد تقديره

كيف العمل في الحالة الاولى

يحتاج حينئذ لتصحيح مسائل الحمل والاصل ان تصحح على تقديرين تقدير
ان الحمل ذكر وتقدير انه انثى ثم ننظر في النسبة بين التصحيحين فان توافقا
ضربنا وفق احدهما في جميع الآخر وان تباينا ضربنا كل احدهما في جميع
الآخر فالحاصل تصحيح المسئلة ثم نضرب نصيب كل من له شيء من مسئلة
ذكورته في وفق مسئلة انوثته او في جميعها على تقديري التوافق والتباين
ونضرب نصيب من له شيء من مسئلة انوثته في وفق ذكوره او في جميعها
على تقديري التوافق والتباين ثم نعطي الورثة اقل الحاصلين لان استحقاق
الاقل متيقن والفضل الذي بين الحاصلين موقوف من نصيب ذلك الوارث
فاذا ظهر الحمل فان كان مستحقا لجميع الموقوف فيها ونعمت وان كان مستحقا
لبعض اخذه والباقي يقسم بين الورثة فيعطي لكل وارث ما كان موقوفا من نصيبه
ما مثاله

مثاله ما لو ترك بنتا وابوين وزوجة حاملا فالمسئلة من اربعة وعشرين
على تقدير ان الحمل ذكر فللزوجة ثمنها ثلاثة ولكل من الابوين السدس وهو
اربعة وللبنت مع الحمل الذكر الباقي وهو ثلاثة عشر وعلى تقدير انه انثى
فالمسئلة من اربعة وعشرين ولكنها عائلة الى سبعة وعشرين فللابوين
السدس ثمانية وللزوجة الثمن ثلاثة وللبنت م الحمل الانثى الثلثان ستة
عشرون والتصحيحين توافق بالثلث فنضرب ثلث احدهما في جميع الآخر
فيحصل مائتان وستة عشر فعلى تقدير الذكورة للزوجة سبعة وعشرون من

ضرب ثلاثة في وفق المسئلة الثانية وهو تسعة ولكل واحد من الابوين ستة
 وثلاثون من ضرب اربعة في تسعة واللبنت مع الحمل الذكر مائة وسبعة عشر
 من ضرب ثلاثة عشر في تسعة للبت ثلثها وهو تسعة وثلاثون ويبقى للحمل
 ثلثاها وهو ثمانية وسبعون وعلى تقدير الانوثة للزوجة اربعة وعشرون من
 ضرب ثلاثة في وفق الاولى وهو ثمانية ولكل من الابوين اثنان وثلاثون
 من ضرب اربعة في ثمانية واللبنت مع الحمل الانثى مائة وثمانية وعشرون من
 ضرب ستة عشر في ثمانية للبت نصفها وهو اربعة وستون ويبقى للحمل نصفها
 الآخر واذا كان الامر كذلك يعطى للزوجة اربعة وعشرون ويوقف من
 نصيبها ثلاثة اسهم ويعطى لكل من الابوين اثنان وثلاثون ويوقف من
 نصيب كل واحد منهما اربعة ويعطى للبت تسعة وثلاثون ويوقف من نصيبها
 خمسة وعشرون فجملة الموقوف ستة وثلاثون فان ولدته امه انثى يدفع للبت
 من الموقوف خمسة وعشرون ليكمل لها مثل حصتها والباقي للمولود وان ولدته ذكراً
 يدفع للزوجة ثلاثة وللابوين ثمانية والباقي للحمل وان خرج ميتاً يعطى للبت من
 الموقوف تسعة وستون ليكمل لها النصف وللزوجة ثلاثة تكملة الثمن وللأم
 اربعة تكملة السدس وللأب ثلاثة عشر منها اربعة تكملة السدس والتسعة تعصياً

كيف العمل في الحالة الثانية

يعطى لهم نصيبهم تاماً وما زاد فهو نصيب الحمل كزوجة حبلى وجدة كذا
 ذكروا وفيه ان الحمل ربما ظهر انثى فيبقى للجدة نصيب فيما لو يبقى رداً تأمل

كيف العمل في الحالة الثالثة

توقف فيها التركة الى البيان بوضعه فان ظهر انه مستحق للجميع فيها

ونمت والا فيأخذ حقه منها والباقي يقسم بين الورثة كاخ او عم مع زوجة حامل فانهما يسقطان لو قدر الحمل ذكراً

اسئلة في الباب

اجبني عن الميراث في المسائل الآتية

مات عن زوجة حامل وام واب . ت عن ام حامل وبنت ابن واخت شقيقة . تت عن جدة هي ام اب حامل وابن اخ شقيق . ت عن ام وعن حمل امرأة اخيه لاب وابن عم

اسئلة في مسائل الباب

كم مدة الحمل . متى يرث الحمل من حيث المدة . كيف الحكم اذا مات الولد قبل تمام خروجه . ماذا يعتبر في كون اكثره او اقله حياً . ما الحكم اذا خرج بنفسه ميتاً . ما الحكم في توريث الحمل . ما مثاله . ما الحكم اذا احتمل ان تكون الورثة اخذوا اكثر من حقوقهم . كم حالة للورثة مع الحمل . كيف العمل في الحالة الاولى . ما مثاله . كيف العمل في الحالة الثانية كيف العمل في الحالة الثالثة

الكتاب الثاني

في الحساب وفيه ابواب

ما المراد بالحساب في هذا الفن

المراد به تاصيل المسائل الفرضية وتصحيحها وقد مر ذلك لاعلم الحساب المعروف وان كان لا بد من معرفته لكن تحال على كتبه واذا كنا محتاجين

الى بيان قسمة التراكبات كان لا بد من ايراد بعض من مسائله اولاً لمسيس
 الحاجة الى معرفته ههنا كالكسور بانواعها والبسط والرفع والخط وحل
 الاضلاع والاعمال الاربعة في الكسور وغير ذلك مما سيتضح لزومه

الباب الاول

في الكسور

ما هي الكسور

الكسور جمع كسر وهو عبارة عن بعض اجزاء الشيء حقيقة كائنين من
 ثلاثة او حكماً كثلث فرس مثلاً

كم ينقسم الكسر

ينقسم الى قسمين منطلق واصم

ما هو المنطق وما هو الاصم

المنطق ما يمكن التعبير عنه بغير لفظ الجزئية كائنين من اربعة فانه

يمكن ان يعبر عنهما بقولنا ربعان

والاصم ما لا يمكن التعبير عنه الا بلفظ الجزئية كثلاثة اجزاء من

خمسة عشر جزءاً

كم امهات الكسور

عشرة النصف فالثلث فالربع فالخمس فالسدس فالسبع فالثلثن فالسبع

فالعشر فالجزء اي فيقال جزء من احد عشر جزءاً مثلاً وما سوى هذه يتألف

منها بالتركيب كربع وخمس والتكرير كربعين وخمسين والاضافة كربع خمس


بیس

حل

من

نه

ن



ما معنى قولك ربع وخمس

معنى الربع واحد من اربعة والخمس واحد من خمسة وهكذا بقية الكسور والعدد الاكبر الذي اخذت منه الكسر كالاربعة والخمسة في هذين المثالين يسمى مخرجاً واماماً ومقاماً ومخرج كل كسر عدة ما في الواحد من مماثلته كالربع مخرجه الاربعة لان عدة ما في الواحد من الربع اربعة فهي مخرجه والسدس مخرجه الستة اذ عدة ما في الواحد من السدس ستة فهي مخرجه والنصف مخرجه اثنان لان في الواحد نصفين وهكذا وقد اصطالحوا على وضع الكسر من فوق والمخرج من تحت مفصلاً بينهما بخط عرضي علامة للقسمة اي ان ما فوق الخط منقسم على ما تحته كالثلث فانه يوضع هكذا $\frac{1}{3}$ والسبعين هكذا $\frac{1}{70}$ حتى اذا كان ما فوق هذا الخط وما تحته صفرًا كان علامة على ان ما قبله مقسوم على ما بعده فوضع قسمة ثمانية على اربعة هكذا $8 \div 4$ وستة اثنان على ثلثين هكذا $\frac{7}{3} + \frac{2}{3}$ كما اصطالحوا لوضع علامة الجمع هكذا $+$ بخطين متعارضين فوضع جمع ثلثين الى ثلاثة ارباع هكذا $\frac{1}{3} + \frac{1}{4}$ ولوضع علامة الطرح هكذا $-$ بخط عرضي لاشيء فوقه ولا تحته فطرح سدسين من ثلثين يوضع هكذا $\frac{2}{3} - \frac{1}{3}$ ولوضع علامة الضرب هكذا \times بخطين مستطيلين متلاقين فضرب ثلاثة اخماس في اربعة اثمان يوضع هكذا $\frac{3}{5} \times \frac{4}{8}$ وعلامة ما يتحصل من جمع وطرح وضرب وقسمة خطان متساويان هكذا $=$ كما لو قيل اجمع ربعاً وربعين وضعت الكسرين وفصلت بينهما بعلامة الجمع ثم وضعت علامة ما يتحصل وبعدها المتحصل هكذا $\frac{2}{4} = \frac{1}{4} + \frac{1}{4}$

كم هي انواع الكسور

خمسة مفرد ومضاف ومختلف ومنتسب ومستثنى والمعول عليه منها في
القرائض المنتسب حتى ترد البواقي اليه في الاعمال الكسورية
ما الكسر المفرد

هو ما كان على مخرج واحد كالخمس $\frac{1}{5}$ والسادس $\frac{1}{6}$ وثلاثة ارباع $\frac{3}{4}$
وسنة اثمان $\frac{7}{8}$

ما الكسر المضاف

هو ما كان على مخرجين فاكثر مضافاً اولها الى ثانيهما والثاني الى
الثالث وهكذا نحو ربع سدس $\frac{1}{4} \frac{1}{6}$ ولثي خمس ثن ثلاثة اسباع الستة
اتساع $\frac{2}{3} \frac{1}{6} \frac{1}{8} \frac{1}{12}$ ويقال له ايضاً المبعض وكسر الكسر

ما الكسر المختلف

هو ما تألف من كسور مفردة مع عطف بعضها على بعض بواو
العطف ولذا يسمى ايضاً بالمعطوف كنصف وسبع وتسع هكذا $\frac{1}{2}$ و $\frac{1}{3}$ و $\frac{1}{4}$

ما الكسر المنتسب

هو ما تألف بالعطف من المفرد والمضاف بحيث ينسب فيه كل
معطوف الى جزء المخرج الذي قبله ثم الى جزء الذي قبله حتى تنتهي فيه
الاضافة الى اول مخرج نحو ثمن وثلاثة اخماس الثمن وسدس خمس الثمن
ويرسم هكذا $\frac{1}{8} | \frac{3}{5} | \frac{1}{8}$ وهذا رسمه في غير الجدول الفرضي واما فيه فتخط في
جانب شماله خطوط بقدر المخارج طولية وكذا عرضية بقدر اسماء الورثة
وترسم المخارج في اعلا هذه الخطوط وترسم قبة فوق كل مخرج وثبتت صورة

كل كسرتحت مخزجه في رسم المثال المذكور هكذا $\begin{array}{|c|c|c|} \hline ٦ & ٥ & ٨ \\ \hline ١ & ٢ & ١ \\ \hline \end{array}$ فتقرأ ثمن وثلاثة
 اخماس الثمن وسدس خمس الثمن لا سدس ثلاثة اخماس الثمن اذ لا يضاف
 الى صورة الكسر الذي قبله بل الى جزء واحد من المخرج الذي قبله ولو قيل
 ربع واربعه اخماس الربع ونصف خمس الربع واربعه اسداس نصف خمس
 الربع وثلاثة اسباع سدس نصف خمس الربع رسمت ذلك في الجدول على
 هذه الصورة $\begin{array}{|c|c|c|c|c|} \hline ٧ & ٦ & ٢ & ٥ & ٤ \\ \hline ٢ & ٤ & ١ & ٤ & ١ \\ \hline \end{array}$ ويرسم خارج الجدول عند عمل حسابي هكذا
 $\frac{٢}{٧} \frac{٤}{٦} \frac{١}{٢} \frac{٤}{١} \frac{١}{٤}$ وعند بيان نصيب الوارث من التركة هكذا $\frac{٢}{٧} \frac{٤}{٦} \frac{١}{٢} \frac{٤}{١} \frac{١}{٤}$
 $\frac{٢}{٧} \frac{٤}{٦} \frac{١}{٢} \frac{٤}{١} \frac{١}{٤}$ ربع خمس نصف سدس سبع

ما الكسر المستثنى

هو ما اخرج بعضه باداة استثناء كثلثين الاربعاء ويوضع هكذا $\frac{٢}{٣}$ الا $\frac{١}{٤}$

كم ينقسم المستثنى

ينقسم الى متصل ومقطع

ما المتصل

هو ما كان فيه ما بعد اداة الاستثناء مستثنى مما قبلها ويكون استثناء
 كسر من كسر كخمسين الاربعاء اي الاربع الخمسين ويوسم بوضع صاد على
 اداة الاستثناء هكذا $\frac{٢}{٥}$ الا $\frac{١}{٤}$

ما المنقطع

هو ما كان فيه ما بعد الاداة مستثنى من الواحد الكامل لا مما قبلها
 كسدسين الا خمسا اي الا خمس الواحد الصحيح ويوسم بوضع عين على
 الاداة هكذا $\frac{٢}{٦}$ الا $\frac{١}{٥}$

❦ اسئلة في الباب ❦

ضع لي كسراً مفرداً . مضافاً . مختلفاً . منتسباً . مستثنى متصلاً . كيف
 تقرأ هذه الكسور الآتية وما اسم كل منها $\frac{2}{3}$ و $\frac{4}{6}$ و $\frac{7}{7}$ و $\frac{4}{4}$ و $\frac{1}{4}$ و $\frac{7}{8}$ و $\frac{1}{4}$.
 $\frac{2}{3}$ و $\frac{4}{6}$ و $\frac{7}{7}$ و $\frac{4}{4}$ و $\frac{1}{4}$ و $\frac{7}{8}$ و $\frac{1}{4}$ الا $\frac{1}{4}$ و $\frac{2}{3}$ و $\frac{4}{6}$ و $\frac{7}{7}$ و $\frac{4}{4}$ و $\frac{1}{4}$ و $\frac{7}{8}$ و $\frac{1}{4}$.

❦ اسئلة في مسائل الباب ❦

ما المراد بالحساب في هذا الفن . ما هي الكسور . كم ينقسم الكسر .
 ما هو المنطق وما هو الاصم . كم امهات الكسور . ما معنى قولك
 ربع وخمس مثلاً . كم هي انواع الكسور . ما الكسر المفرد . ما الكسر
 المضاف . ما الكسر المختلف . ما الكسر المنتسب . ما الكسر المستثنى . كم
 ينقسم المستثنى . ما المتصل . ما المنقطع


الباب الثاني

في البسط

ما هو البسط

اذا كان كسر وصحيح فهو ان نحول الصحيح الى جنس ذلك الكسر
 ويسمى تجنيساً ايضاً فيعبر عنهما بلفظ واحد واذا كان كسر فقط ببسطه جعله
 ان يعبر عنه بواحد في اللفظ كما اذا قيل اثنان وربع فبسط ذلك ان نحول
 الاثنين الى ارباع ونضيف الكسر المسمى الى ذلك ونقول تسعة اي تسعة
 ارباع فقد حولنا الصحيح الى ارباع بحيث عبرنا عن الصحيح والكسر المذكور
 بلفظ واحد وهو التسعة وكما اذا قيل ثلثان ونصف الثلث $\frac{2}{3}$ فبسط ذلك

[Faint, illegible handwritten text, likely bleed-through from the reverse side of the page.]



ان نحول الثلثين الى انصاف اثلاث حتى يعبر عنهما بلفظ واحد بان نقول
خمسة اي خمسة انصاف الثلث على ما سيوضح

كيف بسط الكسر المفرد

بسط كل كسر مفرد هو صورة الكسر التي على المخرج فبسط ثلاثة
ارباع $\frac{3}{4}$ ثلاثة وبسط اربعة اخماس $\frac{4}{5}$ اربعة وهكذا

كيف بسط الكسر المضاف

هو ان تضرب صور الكسور المضافة بعضها في بعض وحاصل الضرب
هو بسط ذلك الكسر

ما مثاله

مثاله لو اردنا بسط ثلثي ثلاثة ارباع ستة اسباع الثمن $\frac{2}{3} \times \frac{3}{4} \times \frac{6}{8}$
ضربنا صورة الكسر الاول وهي ٢ في صورة الثاني والحاصل وهو ٦ في صورة
الثالث والحاصل وهو ٣٦ في صورة الرابع ولا يتغير لانها واحد بهذه الصورة
 $36 = 1 \times 36 = 6 \times 6 = 3 \times 2$ وهو البسط المطلوب

كيف بسط الكسر المختلف

هو ان تضرب صورة كل كسر في كل مقام لغيره مفروض في المسئلة ثم
تجمع الحواصل فما كان فهو بسطه
ما مثاله

مثاله لو اردنا بسط خمسين وثلاثة اسباع واربعة اسداس $\frac{5}{10}$ و $\frac{3}{7}$ و $\frac{4}{6}$
ضربنا صورة الاول وهي ٢ في مقام الثاني والحاصل وهو ١٤ في مقام الثالث
فيبلغ اربعة وثمانين هكذا $84 = 6 \times 14 = 7 \times 2$ ثم ضربنا صورة

الثاني وهي ٣ في مقام الاول والحاصل وهو ١٥ في مقام الثالث فيبلغ ٩٠
 هكذا $٩٠ = ٦ \times ١٥ = ٥ \times ٣$ ثم ضربنا صورة الثالث وهي ٤ في مقام
 الاول والحاصل وهو ٢٠ في مقام الثاني فيبلغ ١٤٠ هكذا $٢٠ = ٥ \times ٤$
 $٣١٤ = ١٤٠ + ١٧٤ = ٩٠ + ٨٤$ هكذا هكذا
 وهو البسط المطلوب

كيف بسط الكسر المنتسب

هو ان تضرب صورة الكسر الاول في مقام الثاني وتضم الى الحاصل
 صورة الثاني والمجتمع تضربه في مقام الثالث وتضم اليه صورته والمجتمع في
 مقام الرابع وتضم اليه صورته وهكذا الى آخر الكسور المفروضة فما حصل في
 الآخر فهو البسط المطلوب

ما مثاله

مثاله لو اردنا بسط ثلثين وثلاثة ارباع الثلث واربعه اقل من ربع الثلث
 وسدس خمس ربع الثلث وسبعي سدس خمس ربع الثلث هكذا $\frac{2}{7} | \frac{1}{6} | \frac{4}{5} | \frac{3}{4} | \frac{2}{3}$
 ضربنا صورة الاول وهي ٢ في مقام الثاني وزدنا على الحاصل صورة الثاني
 وضربنا المجتمع وهو ١١ في مقام الثالث وزدنا صورته والمجتمع وهو ٥٩ في
 مقام الرابع وزدنا صورته والمجتمع وهو ٣٤٤ في مقام الخامس وزدنا صورته
 وما اجتمع وهو ٢٤٨٧ فهو البسط المطلوب بهذه الصورة

$$٣٥٥ = ١ + ٣٥٤ = ٦ \times ٥٩ = ٤ + ٥٥ = ٥ \times ١١ = ٣ + ٨ = ٤ \times ٢$$

$$٢٤٨٧ = ٢ + ٢٤٨٥ = ٧ \times$$

كيف بسط الكسر المستثنى المتصل

هو ان تضرب بسط المستثنى منه في مقام او مقامات المستثنى وتحفظ
الحاصل ثم تضربه ايضاً في بسط المستثنى وتطرح اقل الحاصلين من الاكثر
والباقي هو بسط ذلك الكسر
ما مثاله

مثاله لو اردنا بسط اربعة احماس وربيع الخمس الا ثلثا وملاثة ارباع
الثلث من ذلك اي من الاربعة احماس وربيع الخمس هكذا $\frac{1}{4}$ ص $\frac{1}{4}$ ص $\frac{1}{4}$ ص
ضربنا بسط الاول اي المستثنى منه وذلك ١٧ في مقامي الثاني اي المستثنى
وهما ٣ و٤ فيحصل ٢٠٤ ثم ضربنا بسط الاول ايضاً يعني ١٧ في بسط الثاني
وهو ٢ فيحصل ١١٩ ثم طرحنا الاقل من الاكثر فبقي ٨٥ بهذه الصورة
 $3 \times 17 = 51 = 204 - 119$ ثم $119 = 7 \times 17$ ثم $204 = 119 - 85$ وهو
البسط المطلوب

كيف معرفة ما يبق بعد الاستثناء

معرفة هي ان تقسم البسط وهو الخمسة والثمانون في هذا المثال على
المقامات كلها مبتدئاً بالقسمة على العدد الاقل من المقامات ثم على ما فوقه
وهكذا حتى تنتهي المقامات وما خرج بعد القسمة هو الباقي بعد الاستثناء
فهنا المقامات الموجودة اربعة اعداد ٥ و٤ و٣ و٤ واذ كانت الثلاثة هي الاقل
من المقامات عدداً نبتديء بالقسمة عليها فان بقي كسر كان كسراً منها والا
فلا وعلى كل فنقسم الخارج الصحيح على الاربعة فالاربعة فانخسة
بهذه الصورة

$$85 = 3 + 28 \text{ ثم } \frac{1}{4} \text{ ثم } 28 = 4 + 28 = 4 + 7 = 4 \text{ ثم } \frac{7}{4} \text{ ثم}$$

الصحيح وهو واحد $1 = \frac{1}{1}$ فيكون الباقي بعد الاستثناء خمسا وثلاثة

ارباع الخمس وثالث ربع ريع الخمس كسراً متناسباً هكذا $\frac{1}{1} \frac{2}{2} \frac{3}{3} \frac{4}{4} \frac{5}{5}$
 كيف بسط الكسر المستثنى المنقطع

هو ان تضرب بسط الاول اي الذي قبل اداة الاستثناء في مقام او
 مقامات الثاني اي الذي بعدها وبسط الثاني في مقام او مقامات الاول ثم
 تطرح اقل الحاصلين من الاكثر فالباقى هو البسط المطلوب
 ما مثاله

مثاله لو اردنا بسط ثلثين ونصف الثالث الاتسعاً ونصف التسع من
 الواحد الكامل هكذا $\frac{1}{1} \frac{2}{2} \frac{3}{3} \frac{4}{4} \frac{5}{5} \frac{6}{6} \frac{7}{7} \frac{8}{8} \frac{9}{9}$ ضربنا بسط الاول وذلك خمسة في مقامي
 الثاني ٢٥ فيحصل ٩٠ وبسط الثاني وذلك ٣ في مقامي الاول ٢٥
 فيحصل ١٨ ثم طرحنا اقل الحاصلين من الاكثر فيبقى ٧٢ بهذه الصورة
 $9 \times 5 = 45 \times 2 = 90$ ثم $3 \times 3 = 9 \times 2 = 18$ $90 - 18 = 72$ وهو
 البسط المطلوب

كيف بسط الصحيح والكسر

اذا اقترن الكسر بصحيح لا يخلو اما ان يكون الصحيح مقدماً على
 الكسر او مؤخراً عنه او متوسطاً اي بين كسرين فبسط اي من هذه تعني
 كيف بسط ذلك والصحيح مقدم على الكسر
 بسطه بان تضرب الصحيح في مقام الكسر ونضم الى الحاصل بسط
 الكسر وما يكون فهو البسط المطلوب
 ما مثاله في الكسر المفرد

[Faint, illegible handwritten text within a rectangular border]

9

مثاله لو اردنا بسط ثلاثة ورابع $\frac{1}{3}$ ضربنا الصحيح وهو ٣ في المقام وهو ٤ فيحصل ١٢ نضم اليها بسط الكسر وهو واحد فيكون ١٣ بهذه الصورة
 $4 \times 3 = 12 + 1 = 13$ وهو البسط المطلوب

ما مثاله في الكسر المختلف

مثاله لو اردنا بسط اربعة وثلاث وسدسين $4 \frac{1}{3}$ ضربنا الصحيح وهو ٤ في المقامين ٦ و٣ فيحصل ٢٢ نضم اليها بسط الكسر وذلك ١٢ فيكون ٨٤ بهذه الصورة $4 \times 3 = 12 + 3 = 15$ وهذا حاصل ضرب الصحيح في المقامين ثم نبسط الكسر المذكور $6 = 6 \times 1$ و $6 = 3 \times 2$ فجمع الحاصلين $6 + 12 = 18$ نضم ذلك الى الحاصل من ضرب الصحيح في المقامين $12 + 72 = 84$ وهو البسط المطلوب

ما مثاله في الكسر المضاف

مثاله لو اردنا بسط ستة ونصف ثلثي اربعة اسداس $6 \frac{1}{2} \frac{1}{3}$ ضربنا الصحيح وهو ٦ في المقامات وهي ٢ و٣ و٦ فيحصل ٢١٦ ثم ضمنا الى ذلك بسط الكسر وذلك ٨ فكان ٢٢٤ بهذه الصورة $2 \times 6 = 12 + 3 \times 6 = 36 \times 6 = 216$ وهذا حاصل ضرب الصحيح في المقامات ثم بسطنا الكسر المذكور $2 \times 1 = 2$ و $4 \times 2 = 8$ ثم ضمنا المبلغين $8 + 216 = 224$ وهو البسط المطلوب

ما مثاله في الكسر المنتسب

مثاله لو اردنا بسط اربعة وثلثين وثلاثة اثمان الثلث وربعي ثمن اثلث $4 \frac{2}{3} \frac{2}{4} \frac{2}{8}$ ضربنا الصحيح في المقامات بهذه الصورة $4 \times 12 = 3 \times 4 = 12 + 3 = 15$ ثم بسطنا الكسر المذكور $3 \times 16 = 48$ و $8 \times 2 = 16$ هذه الصورة $16 + 32 = 48$

$= 19 \times 4 = 76 + 2 = 78$ ثم نضيف هذا الى الحاصل الاول $78 + 384 = 462$ وهو البسط المطلوب

ما مثاله في الكسر المستثنى المتصل

مثاله لو اردنا بسط ستة ورابع وثلثي الربع الاخمساً وسدسي الخمس من ذلك $6 \frac{2}{3} \frac{1}{4}$ الى $\frac{2}{3} \frac{1}{4}$ ضربنا الصحيح في المقامات بهذه الصورة $6 \times 4 = 24 = 3 \times 72 = 5 \times 360 = 6 \times 2160$ وهذا حاصل ضرب الصحيح في المقامات ثم بسطنا الكسر بان ضربنا بسط المستثنى منه في مقامي المستثنى هكذا $5 \times 5 = 25 = 6 \times 150$ ثم ضربناه ايضاً في بسط المستثنى هكذا $5 \times 8 = 40$ ثم طرحنا اقل الحاصلين $40 - 150 = 110$ فضم ذلك الى الحاصل من ضرب الصحيح في المقامات بهذه الصورة $2160 + 110 = 2270$ وهو البسط المطلوب

ما مثاله في الكسر المستثنى المنقطع

مثاله لو اردنا بسط اربعة وثلث ونصف الثمن الا ثلثا ورابع الثلث من الواحد الكامل $4 \frac{1}{3} \frac{1}{4}$ الى $\frac{1}{3} \frac{1}{4}$ ضربنا الصحيح في المقامات $4 \times 32 = 128 = 3 \times 64 = 4 \times 192 = 768$ وهذا حاصل ضرب الصحيح فيها ثم بسطنا هذا الكسر بان ضربنا بسط الاول وذلك في 3 وفي 4 مقامي الثاني $3 \times 3 = 9 = 4 \times 36$ ثم بسط الثاني وذلك في 5 وفي 8 مقامي الاول $5 \times 8 = 40 = 2 \times 80 = 8 \times 44$ وهذا بسط الكسر نضمه الى الحاصل من ضرب الصحيح في المقامات $768 + 44 = 812$ وهذا بسط الصحيح والكسر وهو المطلوب

كيف بسط ذلك والصحيح مؤخر عن الكسر
بسطة ان تضرب الصحيح في بسط الكسر فقط بدون ضرب في
المقامات فما يحصل فهو البسط المطلوب
ما مثاله

مثاله لو اردنا بسط سبع الاربعة $\frac{1}{4}$ ضربنا الاربعة في الواحد بسط
السبع فتحصل الاربعة بعينها وهي البسط المطلوب اذ في الاربعة ثمانية وعشرون
سبعاً ولا شك ان سبع هذا المبلغ هو الاربعة
كيف بسط ذلك والصحيح متوسط بين كسرين

اذا توسط الصحيح بين كسرين كنصف ستة وثلاث $\frac{1}{3}$ $\frac{1}{6}$ احتمال ذلك
معيين الاول ان يكون المقصود اخذ الكسر الاول من الصحيح والكسر
المؤخر معاً فيكون الاول مضافاً الى كل من الصحيح والكسر الاخير والمعنى
الثاني ان يكون الكسر الاول مضافاً الى الصحيح فقط اي المقصود اخذه منه
فقط والكسر الثاني انما هو معطوف عليه اي تلى الاول اما على المعنى الاول
فبسطة ان يبسط الصحيح مع ما بعده اي مع الكسر الثاني كما لو كان الصحيح
مقدماً على الكسر ثم المجتمع يضرب في بسط الكسر الاول فما يحصل فهو
البسط المطلوب واما على المعنى الثاني فبسطة ان يضرب الصحيح في بسط
الكسر الاول والحاصل في مقامات الكسر الثاني والحاصل تحفظه ثم تضرب
بسط الثاني في مقامات الاول ثم تجمع ما يحصل الى الحاصل المحفوظ فما
يكون فهو البسط المطلوب

ما مثاله بسطه على المعنى الاول

مثاله لو اردنا بسط المثال المذكور وهو نصف ستة وثلاث مراداً به ان
النصف مأخوذ من الستة مع الثلث بسطنا الصحيح وهو ٦ مع الكسر بعده
وهو $\frac{1}{6}$ فيحصل تسعة عشر $6 \times 3 = 18 + 1 = 19$ ثم تضرب هذا المبلغ
في بسط الكسر الاول واذا كان واحداً فلا يتغير فتكون التسعة عشر هي
البسط المطلوب

ما مثال بسطه على المعنى الثاني

مثاله لو اردنا بسط المثال المذكور $\frac{1}{6} \frac{1}{6}$ مراداً به ان النصف مأخوذ
من الستة فقط وان هذا النصف المأخوذ من الستة معطوف عليه ثلث ايضاً
ضربنا الصحيح وهو ٦ في بسط الكسر الاول واذا كان واحداً فلا يتغير
الستة تم ضربنا هذا الحاصل وهو ٦ في مقام الكسر الثاني وهو ٣ فحصل ١٨
فحفظناها ثم ضربنا بسط الكسر الثاني وهو واحد في ٢ مقام الاول فلم يتغير
ثم جمعنا الاثني الى الثمانية عشر المحفوظة فكان المجموع عشرين وهو
البسط المطلوب

اسئلة في الباب

ابسط لي هذه الكسور الآتية

$$\frac{1}{2} \frac{1}{3} \frac{1}{4} \frac{1}{5} \frac{1}{6} \frac{1}{7} \frac{1}{8} \frac{1}{9} \frac{1}{10} \frac{1}{11} \frac{1}{12} \frac{1}{13} \frac{1}{14} \frac{1}{15} \frac{1}{16} \frac{1}{17} \frac{1}{18} \frac{1}{19} \frac{1}{20} \frac{1}{21} \frac{1}{22} \frac{1}{23} \frac{1}{24} \frac{1}{25} \frac{1}{26} \frac{1}{27} \frac{1}{28} \frac{1}{29} \frac{1}{30}$$


(اسئلة في مسائل الباب)

ما هو البسط . ما بسط الكسر المفرد . كيف بسط الكسر المضاف .
ما مثاله . كيف بسط الكسر المختلف . ما مثاله . كيف بسط الكسر

Faint, illegible handwritten text, possibly bleed-through from the reverse side of the page.

ان
بده
بلغ
هي

ذ
ا



المنتسب . ما مثاله . كيف بسط الكسر المستثنى المتصل . ما مثاله . كيف
 معرفة ما يبقى بعد الإستثناء . كيف بسط الكسر المستثنى المنقطع . ما مثاله
 كيف بسط الصحيح والكسر . كيف بسط ذلك والصحيح مقدم على الكسر
 ما مثاله في الكسر المفرد . ما مثاله في الكسر المختلف . ما مثاله في الكسر
 المتصاف . ما مثاله في الكسر المنتسب . ما مثاله في الكسر المستثنى المتصل .
 ما مثاله في الكسر المستثنى المنقطع . كيف بسط ذلك والصحيح مؤخر عن
 الكسر . ما مثاله . كيف بسط ذلك والصحيح متوسط بين كسرين . ما مثال
 بسطه على المعنى الاول . ما مثال بسطه على المعنى الثاني

الباب الثالث

في حل الاضلاع وفيه مقدمة في بيان العاد الاكبر والاعداد الاوائل

ما هو العاد

هو العدد الذي يعد عدداً آخر اي يقسمه صحيحاً ويفتية بالقسمة من
 دون باق كالاربعة للثمانية فانها عاد لها لانها تقسمها صحيحاً وتفنيا بدون
 باق وكالسته للاثني عشر والثلاثة او الاثني لسته وهكذا ومتي قيل هذا
 العدد لا يعد ذلك العدد معناه انه لا يقسمه صحيحاً بدون باق

ما العاد الاكبر

هو اكبر عدد يعد غيره

كيف العمل في تحصيل العاد الاكبر

اذا فرض عددان وارادت العاد الاكبر لهما الذي يقسمان عليه من

دون باقى فالعمل فيه ان تقسم العدد الاكبر منهما على الاصغر ثم الاصغر على
الباقى وهكذا لا تزال تقسم فالقسوم عليه الاخير هو العاد الاكبر المطلوب
وان بقى شيء لا ينقسم يعلم ان هذين العددين المفروضين ليس لهما
عاد اكبر

ما مثاله

مثاله ان يقال ما هو العاد الاكبر لهذين العددين وهما ٣٢٣ و ٤٢٥
فنجري العمل كما ذكرنا بهذه الصورة

$$\begin{array}{r}
 425(1) \\
 323 \\
 \hline
 102(3) \\
 306 \\
 \hline
 17(6) \\
 102 \\
 \hline
 102 \\
 \hline
 \dots
 \end{array}$$

فيكون العاد الاكبر لها المقسوم عليه الاخير وهو ١٧ اى انه يفنيهما
بدون باقى وهذا ينفعك كثيراً في معرفة الوفاق بين العددين المتوافقين
مثلاً الستة والاربعة نريد ان نعرف ان النسبة بينهما التوافق ام لا فنطلب
العاد الاكبر لهما فان وجد ننظر فيه في انه مخرج لاي كسر من الكسور فما
يكون نعرف انها متوافقان في ذلك الكسور وان لم يوجد لا تكون النسبة
بينهما التوافق بل التباين فاذا قسمنا الستة على الاربعة يخرج واحد ويبقى
اثنان تقسم عليهما المقسوم عليه وهو الاربعة فلا يبقى شيء ويكون المقسوم

عليه الاخير وهو الاثنان هو العاد الاكبر للستة والاربعة فننظر فيهما اي في
 الاثنيين الذين كانا عادا اكبر فيجدهما مخرجاً للنصف فنعرف حينئذ ان
 النسبة بين الستة والاربعة التوافق بالنصف بخلاف السبعة والاربعة مثلاً
 فانهما متباينان حيث لا عاد اكبر لهما يعدهما اذ لو قسمنا ٧ على ٤ تبقى بقية لا
 تنقسم اي صحيحاً

ما الاعداد الاوائل

جمع عدد اول وهو كل عدد لا يعده غير الواحد اي انه لا ينقسم
 على عدد آخر غير الواحد ومن المعلوم انه يقسم على ذاته ويقابله المركب
 وهو ما كان بخلافه والاعداد الاوائل غير منحصرة فالعشرة الاولى منها هي
 ٢ ٣ ٥ ٧ ١١ ١٣ ١٧ ١٩ ٢٣ فليجد المتعلم العشرة التالية

ما حل الاضلاع

هو تقسيم عدد الى اعداد مضروبا بها يبلغ العدد الذي حلته اليها
 كيف العمل في ذلك


العمل ان ننظر الى منزلة آحاد العدد الذي تريد حله الى اضلاع فان
 كان الرقم الذي فيها زوجاً او صفرأ فذلك العدد يقسم على ٢ وان كان
 خمسة فعلى ٥ وان كان فرداً غير الخمسة فتمتحنه بالقسمة على ٣ فان قسم عليها
 صحيحاً كانت هي العدد الذي يحل اليه والا فتمتحنه بالقسمة على ٧ فاذا لم
 ينقسم عليها صحيحاً فهو عدد اصم او يمكن حله الى ضلعين اصمين فاقسمه
 بالتتابع على الاعداد الصم الاوائل مبتدئاً من اولها وهو ١١ ومتى صح قسمه
 فهو مركب وضلعاه المقسوم عليه والخارج ومتى انتهيت الى عدد منها مربعه

روض

شك

منا

ب



(اسئلة في مسائل الباب)

ما العاد . ما العاد الاكبر . كيف العمل في تحصيل العاد الاكبر . ما
مثاله . ما الاعداد الاوائل . ما حل الاضلاع . كيف العمل في ذلك . ما
مثال ذلك

الباب الرابع
في الخط والاختزال

ما الخط

هو تحويل الكسر الى ايسط ما يمكن التعبير به عنه ويقال له ايضاً
الاختزال وهو رد الكثير الى القليل
كيف العمل في ذلك

لا يخلو الكسر اما ان يكون مفرداً او غير مفرد فان كان مفرداً ننظر
في النسبة بين مخرجه وبسطه فاما ان تكون المبينة او الموافقة او المداخلة ولا
تكون الماثلة والا كان عدداً صحيحاً فان كانت المبينة فالخط غير ممكن
نخمس $\frac{1}{5}$ وثلاثة اسباع $\frac{3}{7}$ وان كانت الموافقة رددنا كل واحد من ابسط
والمقام الى وقفه كست اتساع $\frac{7}{21}$ فان النسبة بينهما الموافقة بالثالث فرددنا الستة
الى اثنتا وهو اثنان والتسعة الى ثلثها وهو ثلاثة فانظم الكسر هكذا $\frac{2}{3}$ فيكون
خط واختزال الستة اتساع ثلثين وان كانت المداخلة رددنا بسط الكسر
الى واحد دائماً وقسمنا المقام على ما فرض من صورة الكسر قبل الرد الى
الواحد وخارج القسمة مقام للموحد كسدسين $\frac{2}{3}$ فان النسبة بينهما المداخلة
فرددنا الاثنين الى واحد وقسمنا الستة على الاثنين فخرج ثلاثة وضعناها

مقاماً للواحد هكذا $\frac{1}{3}$ فيكون اختزال السدسين ثلثا وإذا كان الكسر غير مفرد بان كان مضافاً او منسباً او مختلفاً مثلاً فاختراله ان تحل البسط الى اضلاعه الاوائل ثم تضرب المقامات بعضها في بعض فيحصل مقام مشترك للكسور المفروضة تحمله الى الاضلاع المتركة منها من مثل الاضلاع التي انحل اليها البسط على معنى ان البسط اذا انحل الى النصف مثلاً ثم الى الثالث ثم الى الربع فالمقام المشترك تحمله الى مثل ذلك ثم تأخذ آخر ضلع من اضلاع المقام فيكون الجواب المطلوب كما لو اردنا ان نختزل اربعة اسداس وثالث السدس ورباعي ثلث السدس $\frac{2}{3} \frac{1}{2} \frac{1}{3} \frac{1}{4}$ نحل بسط ذلك وهو اربعة وخمسون الى اربعة اضلاع وهي النصف والثالث والثلث والثلث فالاضلاع ٣ و٣ و٣ و٣ لان مسطح ذلك (اي الحاصل من ضرب بعضها في بعض) يكون اربعة وخمسين بهذه الصورة

$$\begin{array}{r} 2)54 \\ \hline 3,27 \\ \hline 3)9 \\ \hline 3 \end{array}$$

ثم تأخذ آخر ضلع وهو ثلاثة ونحفظه ثم نحل المقام المشترك (وهو الحاصل من ضرب المقامات بعضها في بعض) وهو اثنان وسبعون الى مثل تلك الاضلاع هكذا

$$\begin{array}{r} 2)72 \\ \hline 3,36 \\ \hline 3)12 \\ \hline 4 \end{array}$$

ثم نأخذ آخر ضلع منها وهو اربعة نضع عليها الثلاثة المأخوذة اولاً
 المحفوظة فينظم الكسر هكذا $\frac{2}{3}$ فيكون اختزالنا ما ذكر من الكسر المنتسب الى
 ثلاثة ارباع وبرهانه ان البسط وهو ٥٤ هو ثلاثة ارباع المخرج المشترك
 وهو ٧٢ اثنان وسبعون

هل لذلك من وجه آخر

نعم لنا وجه آخر في اختزال غير المفرد من الكسور وذلك بعد ان
 نحوله الى كسر مفرد بان تبسطه وتضع البسط على المقام المشترك تطالب العاد
 الاكبر لكل من البسط والمقام فنقسمهما عليه ثم ما خرج تطالب له العاد
 الاكبر فنقسمه عليه الى ان تنتهي الى ابسط ما يعبر به عن ذلك المختزل
 ما مثاله

مثاله ما اردنا اختزال ربعين واربعة اثمان الربع $\frac{2}{3}$ فبسط ذلك
 عشرون والمخرج المشترك اثنان وثلاثون فيصير $\frac{2}{3}$ والعاد الاكبر لكل من
 البسط والمخرج اربعة لاننا اذا قسمنا الاكبر من هذين العددين على الاصغر
 ثم المقسوم عليه على الباقي ثم المقسوم عليه الآخر على الباقي يكون آخر مقسوم
 عليه اربعة هكذا

٢٠)٣٢(١

٢٠

١٤)٢٠(١

١٢

٨)١٢(١

٨

العاد الاكبر

٤)٨(٢

٨


واذ كان العاد الاكبر لعددي ٢٠ و ٣٢ هو الاربعة تقسمهما عليها
هكذا $\frac{2}{32} = 4 + \frac{1}{8}$ وهو الاختزال المطلوب

اسئلة في الباب

اختزل لي الكسور الآتية $\frac{1}{8} \cdot \frac{1}{7} \cdot \frac{1}{6} \cdot \frac{1}{5} \cdot \frac{1}{4} \cdot \frac{1}{3} \cdot \frac{1}{2} \cdot \frac{1}{1}$
 $\frac{1}{1} \cdot \frac{1}{2} \cdot \frac{1}{3} \cdot \frac{1}{4} \cdot \frac{1}{5} \cdot \frac{1}{6} \cdot \frac{1}{7} \cdot \frac{1}{8}$

(اسئلة في مسائل الباب)

ما الخط . كيف العمل في ذلك . هل لذلك من وجه آخر . ما مثاله



الباب الخامس

في الرفع والصرف وتحويل الكسور المركبة

ما الرفع

هو تحويل الكسر الغير حقيقي الى صحيح فقط او الى صحيح وكسر حقيقي

كيف العمل فيه

العمل فيه ان تقسم صورة الكسر على مخزجه فالخارج صحيح والباقي ان

كان فهو كسر من ذلك المخرج

ما مثاله

كما اذا قيل ما مرفوع ثلاثة عشر ربعا $\frac{13}{4}$ فتقسم الثلاثة عشر صورة

الكسر على المخرج وهو الاربعة فيخرج ثلاثة عدد صحيح وربع هكذا

$$\frac{13}{4} = 3 + \frac{1}{4}$$

ما الصرف

عالم

١٣

شاه

عق

ن

ة

ا

هو تحويل الكسر من مخرج الى مخرج آخر مفروض
كيف العمل فيه

العمل فيه ان تضرب صورة الكسر المصروف في المخرج المفروض الذي
تريد الصرف اليه وتقسم الحاصل على مخرجه وتجعل الخارج صورة المخرج
المصروف اليه وان بقي بقية كانت كسراً من مخرج المصروف منسوباً الى
المخرج المصروف اليه
ما مثاله

مثاله ان يقال اصرف ستة اثمان $\frac{7}{8}$ الى ارباع فتضرب الستة في اربعة
مخرج الربع المصروف اليه فيحصل اربعة وعشرون تقسمها على الثمانية مخرج
المصروف فيخرج ثلاثة تضعها على الاربعة مخرج المصروف اليه هكذا $6 \times 4 = 24 =$
وهو الجواب $\frac{24}{8} = 3 = 8 + 24 =$

كيف تحويل الكسور المضافة الى كسور بسيطة

هو ان تضرب الصور بعضها في بعض فما كان فهو صورة جديدة ثم
تضرب الخارج فما كان فهو مخرج جديد فتضع الصورة الجديدة عليه ثم تحط
وتختزل فما كان فهو المطلوب

مثاله ان نحول نصف ثلثي خمسة سداس $\frac{1}{2} \times \frac{2}{3} \times \frac{5}{6}$ الى كسر بسيط وهذه
صورة العمل

$$\text{صورة جديدة} \quad 10 = 5 \times 2 \times 1$$

$$\text{مخرج جديد} \quad 36 = 6 \times 3 \times 2$$

فيكون الجواب $\frac{10}{36}$ ثم نحط ذلك بهذه الصورة $\frac{1}{36} + 2 = \frac{2}{18}$ وهذا
الجواب بعد الحط

كيف تحويل الكسور المختلفة الى صورة جديدة ومخرج مشترك
هو ان تضرب صورة كل واحد منها في مخرج غيره فما كان فهو
الصورة الجديدة ثم الخارج بعضها في بعض فما كان فهو المخرج المشترك تضع
ذاته الصورة الجديدة فيكون ذلك هو الجواب
ما مثاله

مثاله ان نحول نصفاً وثلاثة اسباع واربعة اخماس و $\frac{1}{7}$ و $\frac{2}{7}$ و $\frac{4}{7}$ الى كسر
بسيط وهذه صورة العمل

صورة $\frac{1}{7}$	$35 = 5 \times 7 \times 1$
صورة $\frac{2}{7}$	$30 = 5 \times 2 \times 3$
صورة $\frac{4}{7}$	$56 = 7 \times 2 \times 4$
المخرج المشترك	$70 = 5 \times 7 \times 2$

فيكون الجواب $\frac{10}{70}$ و $\frac{20}{70}$ و $\frac{30}{70}$ ثم نخط ذلك واذ كان المخرج
مشتركا غير مختلف نجمع الصور ونقسمها على المخرج فالخارج هو الجواب بهذه
الصورة $35 + 30 + 56 = 121 = 70 + 51$ واحد صحيح وواحد
وخمسون جزءا من سبعين جزءا وهو الجواب بعد الخط وهكذا الخط في كل
كسور متعددة اتحدت مخارجها

كيف تحويل الكسور المنتسبة الى كسور بسيطة

تحويلها ان تبسطها فالبسط هو صورة جديدة ثم تضرب المخرج بعضها
في بعض فما كان فهو مخرج جديد تضع عليه الصورة الجديدة ثم تخط
ان امكن
ما مثاله

مثاله ان نحول اربعة احماس وثلاثة اسباع الخمس واربعة اثمان سبع
 الخمس $\frac{4}{8} \times \frac{4}{10} = \frac{16}{80}$ الى كسر بسيط فنبسط ذلك بهذه الصورة $4 \times 7 = 28 +$
 $3 = 8 \times 31 = 248 + 4 = 252$ فهذا البسط هو الصورة الجديدة ثم
 نحصل الخارج المشترك بهذه الصورة $5 \times 7 \times 8 = 280$ الخارج الجديد نضع
 عليه الصورة الجديدة $\frac{252}{280}$ ثم نحط ذلك بان نطلب العاد الاكبر للصورة
 والخارج فنقسم الاكبر على الاصغر بهذه الصورة

$$\begin{array}{r} 252 \cdot 280 \cdot (1) \\ \hline 252 \\ \hline 280 \cdot 252 \cdot (9) \\ \hline 252 \\ \hline \dots \end{array}$$

العاد الاكبر

فيكون العاد الاكبر لها هو ثمانية وعشرون فنقسمهما عليها بهذه الصورة

$$\frac{252}{280} \div 28 = \frac{9}{10}$$

وهو الجواب بعد الحط

كيف تحويل الكسور المستتناة الى كسر بسيط

تحويلها ان نبسط الكسر المستثنى فالبسطة صورة جديدة ثم نضرب

الخارج فما يحصل فهو الخارج الجديد ثم نحط فما يكون فهو الجواب

ما مثاله

مثاله ان نحول ثلثين وربع الثلث الاحمسين ونصف الخمس $\frac{1}{2} \times \frac{1}{3}$ الى

$$\frac{1}{2} \times \frac{1}{3} = \frac{1}{6}$$

الى كسر بسيط فنبسط ذلك $2 \times 4 = 8 + 1 = 9 \times 5 = 45$ ثم

وهذا بسط الكسر المذكور كله وهذه الصورة

الجديدة ثم نضرب الخارج بعضها في بعض $3 \times 4 \times 5 = 60$ و 5 .

المخرج الجديد فنضع عليه الصورة الجديدة هكذا $\frac{٤٥}{١٢٠}$ ثم نخط ذلك بان
نطلب العاد الاكبر لهذين العددين بهذه الصورة

$$٤٥)١٢٠(٢$$

٠٩٠

$$٣٠(٤٥(١$$

٣٠

$$\text{العاد الاكبر} \quad ١٥)٣٠(٢$$

٣٠

٠٠

فيكون العاد الاكبر خمسة عشر تقسم عليه كلا من الصورة والمخرج
الجديدين بهذا الصورة $\frac{٤٥}{١٢٠} = ١٥ = \frac{٣}{٨}$ وهو الجواب بعد الحط واذا علمت ما

تقدم لا يخفى عليك تحويل الكسر المستثنى المنقطع

اذا فرض كسر كيف نعرف ما فوقه من الكسور

طريق معرفته ان تسقط صورته من مخرجه ثم تنسبها الى الباقي

فيحصل المطلوب

ما مثاله

مثاله لو قيل كم فوق الربع $\frac{١}{٤}$ لكان الجواب ثلثا $\frac{١}{٣}$ اذ باسقاط الصورة

وهي واحد من مخرجها وهو اربعة يبقى ثلاثة تنسب اليها الواحد فيكون ثلثا

وهو الجواب

اذا فرض كسر كيف نعرف ما تحته من الكسور

طريق معرفته بعكس الاول اي ان تزيد على المخرج الصورة ثم تنسبها

الى المجتمع فيحصل المطلوب

يات

تاج

ما

تاج

تاج

تاج

تاج

ما مثاله

مثاله لو قيل كم تحت النصف $\frac{1}{2}$ لكان الجواب $\frac{1}{3}$ اذ لو زدنا صورة النصف وشي واحد على المخرج وهو اثنان لكان ثلاثة فنسب اليها الواحد فيكون ثلثا وهو المطلوب

❖ اسئلة في الباب ❖

ما هو مرفوع الكسور الآتية $\frac{7}{4} * \frac{7}{3} * \frac{14}{7} * \frac{12}{4} * \frac{24}{8} * \frac{48}{6} * \frac{72}{4} * \frac{12}{7}$
 اصرف لي الكسور الآتية الى اسداس والى اتساع والى اخماس والى اثلاث
 والى ارباع مع ملاحظة ان ما مائل ذلك مما ذكر في الكسور الآتية المراد
 صرفه الى غير مماثله

$\frac{7}{4} * \frac{7}{3} * \frac{14}{7} * \frac{12}{4} * \frac{24}{8} * \frac{48}{6} * \frac{72}{4} * \frac{12}{7}$
 او $\frac{1}{4}$ او $\frac{1}{3}$ من الكسور . كم تحت $\frac{1}{2}$ او $\frac{1}{3}$ او $\frac{1}{4}$ او $\frac{1}{5}$ من الكسور

(اسئلة في مسائل الباب)

ما الرفع . كيف العمل فيه . ما مثاله . ما الصنف . كيف العمل فيه
 ما مثاله . كيف تحويل الكسور المضافة الى كسور بسيطة . ما مثاله . كيف
 تحويل الكسور المختلفة الى صور جديدة ومخرج مشترك . ما مثاله . كيف
 تحويل الكسور المنتسبة الى كسور بسيطة . ما مثاله . كيف تحويل الكسور
 المستتناة الى كسر بسيط . ما مثاله . اذا فرض كسر كيف نعرف ما فوقه
 من الكسور . ما مثاله . اذا فرض كسر كيف نعرف ما تحته من الكسور .
 ما مثاله

الباب السادس

في الاعمال الاربعة في الكسور

ما هي الاعمال الاربعة

هي الجمع والطرح والضرب والقسمة

كيف جمع الكسور

هو ان تضرب بسط كل واحد مما فرض من الكسور في مخرج او
مخارج الآخر وتجمع الحواصل وتقسّم المجموع على المقامات بعد وضعها مرتبة
اي تبتدىء في الوضع من جهة يمينك بالاكبر ثم الاصغر منه وتبتدىء في
القسمة بالاصغر من جهة يسارك وبعده الاكبر منه وهكذا وما يخرج بالقسمة
ان كان صحيحاً قسمته على ما بعده وان بقي كسر اثبت الكسر تحت المقام
وقسمت الصحيح فقط فيحصل من ذلك كسر متناسب

ما مثاله

مثاله ما لو اردنا جمع ثلاثة ارباع وثلث الربع الى خمسين ونصف
الخمس $\frac{11}{20} + \frac{1}{25}$ فنضرب بسط الاول وهو عشرة في ٥ و ٢ مقامي الثاني
 $10 \times 5 \times 2 = 100$ فيحصل مائة ثم بسط الثاني وهو خمسة في ٤ و ٣
مقامي الاول $5 \times 4 \times 3 = 60$ فيحصل ستون ثم نجمع الحاصلين
 $100 + 60 = 160$ فيكون مائة وستون ثم نقسم هذا المجموع على المقامات
مرتبة هكذا ٥ ٤ ٣ و نبتدىء بالقسمة على الاقل من هذه المقامات بهذه
الصورة $160 \div 2 = 80$ واذ لم يحصل كسر قسمنا الصحيح وهو $80 \div 3 =$
 $26 \frac{2}{3}$ فخرج ستة وعشرون وثلثان فنثبت الكسر ونقسم الصحيح وهو

او

تبتة

في

تمة

ام

ب

ب

ب

ب

ب


ب

ب

ب

ب

ب




$26 = 4 + 6 = \frac{1}{2}$ فخرج ستة صحيح وبقي اثنان من اربعة فنثبت الكسر ونقسم
 الصحيح وهو $6 = 5 + 1 = \frac{1}{2}$ فخرج واحد صحيح وواحد كسر من الخمسة فاجتمع
 معنا واحد صحيح وخمس وربعاً الخمس وثلاثا ربع الخمس فانظمت هذه
 الكسور كسراً منتسباً هكذا $1 \frac{1}{2} \frac{1}{4} \frac{1}{4}$ وهو الجواب ويمكن اختزال هذا
 الكسر بان نسطه فيحصل عشرون ثم نضرب المقامات لاجل تحصيل المخرج
 المشترك فيحصل ستون فنضع ذلك هكذا $\frac{1}{2}$ واذا كانت النسبة بين العشريين
 والستين التداخل نرد العشريين الى واحد ونقسم الستين على العشريين فيخرج
 ثلاثة نضع عليها الواحد ونأتي بالواحد الصحيح فينتظم الكسر هكذا $1 \frac{1}{3}$
 فيكون مجموع ثلاثة ارباع وثلاث ارباع مع خمسين ونصف الخمس يساوي
 واحداً صحيحاً وثلاثاً ولدى اختبار ذلك يرى ان هذا العمل صحيح وذلك
 لو حصل المخرج المشترك للكسرين اللذين اريد جمعها ما يكون مائة وعشرين
 نأخذ منه الكسرين اي نأخذ ثلاثة ارباعه وثلاث ربه وذلك مائة اذ ربه
 ثلاثون فثلاثة ارباعه تسعون وثلاث ربه عشرة والمجموع مائة ونأخذ خمسيه
 ونصف خمسه وذلك ستون اذ خمسه اربعة وعشرون فخمسه ثمانية واربعون
 ونصف خمسه اثنا عشر والمجموع ستون وحينئذ فيجمع ما اخذنا منه من
 قيمة الكسرين المجموعين مائة وستون تقسمها عليه اي المخرج المشترك الذي
 اخذ منه ذلك وهو مائة وعشرون فيخرج واحد صحيح يبق اربعون لاتقسم
 عليه فنسبها اليه فراها ثلثه فيكون المجموع المأخوذ منه واحداً وثلاثاً طبق
 الجواب وايضاً لو اخذنا الكسر الاول وهو $1 \frac{1}{4}$ بان نسطه ونحصل المخرج
 المشترك له فيكون $\frac{1}{12}$ فنطالب النسبة بينهما فاذا هي الموافقة بالنصف فنرد

العشرة الى نصفها وكذا الاثنا عشر فيكون $\frac{2}{3}$ ولا شك ان الخمسة اسداس هي
 نصف وثلث ثم اختزلنا الكسر الثاني وهو $\frac{1}{2}$ بان نبسطه ونحصل المخرج المشترك
 له فيكون $\frac{3}{6}$ فنطلب النسبة بينهما فاذا هي التداخل فنرد الصورة وهي الخمسة
 الى واحد ثم تقسم المخرج وهو العشرة على الصورة قبل ردها الى الواحد فيخرج
 اثنان فيكون هكذا $\frac{1}{2}$ اي نصفاً ومعنا هناك نصف وثلث فالجمع واحد
 صحيح وثلث طبق الجواب فتنبه واذا اردت جمع ما كان من صحيح وكسر
 فاجمع كلاً من الصحاح والكسور على حدة ثم تضم ما كان من هذه الى ما
 كان من تلك كما اذا اريد جمع $\frac{3}{4}$ الى $\frac{1}{8}$ نجتمع اولاً الصحاح
 $3+1=4$ ثم $\frac{7}{8} = \frac{3}{8} + \frac{1}{8}$ ثم نختزل ذلك فيكون $\frac{7}{8}$ فيكون الجواب $\frac{7}{8}$
 وقس على ذلك

كيف طرح الكسور

هوان تضرب بسط كل من المطروح والمطروح منه في مخرج الآخر
 ثم تطرح الاقل من الحاصلين من اكثرهما ثم تقسم الباقي على مقامات
 المطروح والمطروح منه بعد وضعها مرتبة كما علمت في الجمع فيحصل الجواب
 ما مثاله

مثاله لو قيل اطرح سدساً ونصف السدس من ثلاثة اثمان ونصف
 الثمن $\frac{1}{2} - \frac{1}{6} - \frac{1}{8}$ فاضرب بسط الاول المطروح وهو ثلاثة في مقامي
 المطروح منه وهما ٨ و ٢ هكذا $2 \times 8 \times 3 = 48$ فيحصل ثمانية واربعون
 ثم تضرب بسط الثاني المطروح منه وذلك سبعة في ٦ و ٢ مقامي المطروح
 هكذا $2 \times 6 \times 7 = 84$ فيحصل اربعة وثمانون ثم اطرح اقل الحاصلين



وهو ٤٨ من أكثرها وهو ٨٤ يبقى ٣٦ تقسمها على المقامات الموجودة مرتبة
 هكذا ٢٢٦٨ بهذه الصورة $٣٦ \div ٢ = ١٨ = ٢ \div ٩ = ٦ = ١ \div ٣٦$ ثم
 $\frac{١}{٨} = ٨ \div ١$ فينتظم الكسر هكذا $\frac{١}{٨} | \frac{٢}{١٦} | \frac{٣}{٢٤} | \frac{٤}{٣٢} | \frac{٥}{٤٠} | \frac{٦}{٤٨} | \frac{٧}{٥٦} | \frac{٨}{٦٤}$ لكن الثلاثة اسداس تختزل الى
 نصف فيختصر الجواب بقولنا ثمن ونصف ثمن $\frac{١}{٨} | \frac{١}{٨}$ اي هذا هو الباقي بعد الطرح
 كيف ضرب الكسور

هو ان تضرب بسط واحد من المضروب او المضروب فيه في بسط
 الآخر وحاصل الضرب تقسمه على المقامات مرتبة فما خرج يكون الجواب
 ما مثاله

مثاله لو قيل اضرب ثلاثة اخماس وثلث الخمس في خمسة اسباع وثلث
 السبع $\frac{١}{٣} \times \frac{٣}{٥} \times \frac{١}{٧}$ فاضرب بسط الاول وهو عشرة في بسط الثاني وهو
 ستة عشر فيحصل مائة وستون $١٠ \times ١٦ = ١٦٠$ تقسمها على المقامات
 بمقتضى ما مر فيكون الجواب $\frac{١}{٣} | \frac{٢}{٣} | \frac{٢}{٥} | \frac{٢}{٧}$
 كم نوع قسمة الكسور

نوعان الاول قسمة كثير على قليل والثاني العكس وتسمى حينئذ تسمية
 عند المغاربة ونسبة عند العجم

كيف قسمة الكثير على القليل في الكسور

هي ان تضرب بسط كل من المقسوم والمقسوم عليه في مخرج الآخر
 وتقسيم حاصل المقسوم على حاصل المقسوم عليه بعد حله الى اضلاعه
 المتركة منها وما يخرج فهو الجواب وهذا اذا كان الكسر في كل من الجانبين
 المقسوم والمقسوم عليه وهو يصدق باربع صور وان كان في جانب واحد

فالعمل فيه ان تضرب الصحيح المنفرد في مقام الكسر الواقع مقسوماً عليه
سواء كان هذا الكسر مقروناً بصحيح او مجرداً وكذا اذا كان الصحيح هو
المقسوم عليه تضربه في مقام الكسر الواقع مقسوماً سواء قرن بصحيح ام لا
وهذا ايضاً يصدق باربع صور

ما هي الصورة الاولى في الكسر في الجانبين

هي قسمة كسر على كسر كما لو قيل اقسام اربعة اخماس وثلاث الخمس
على سبعين ونصف السبع $\frac{1}{5} \div \frac{2}{7} = \frac{1}{5} \times \frac{7}{2} = \frac{7}{10}$ فتضرب بسط المقسوم وذلك ثلاثة
عشر في مقامي المقسوم عليه بهذه الصورة $13 \times 7 = 91 = 2 \times 45.5 = 182$ وهذا
حاصل المقسوم ثم تضرب بسط المقسوم عليه وذلك خمسة في مقام المقسوم
بهذه الصورة $5 \times 5 = 25 = 3 \times 7.5 = 75$ وهذا حاصل المقسوم عليه تحله
الى اضلاعه وتقسم عليها حاصل المقسوم واذا كان المقسوم عليه خمسة
وسبعين فاضلاعه ٥ و ٥ و ٣ تقسم عليها حاصل المقسوم كما مر غير مرة
فيخرج $2 \frac{2}{5} \div \frac{2}{5} = 2$ اي الخارج من قسمة $\frac{1}{5} \div \frac{2}{5}$ على $\frac{1}{5}$ اثنان عدد صحيح وخمسان
وثلاثا خمس الخمس وهو الجواب

ما هي الصورة الثانية في الكسر في الجانبين

هي قسمة صحيح وكسر على كسر كما لو قيل اقسام ثلاثة وثلاثاً على خمسة
اسباع $3 \frac{1}{5} \div \frac{2}{5} = 3 \frac{1}{5} \times \frac{5}{2} = 3 \frac{1}{2} = 3.5$ فتضرب بسط الاول وذلك عشرة في مقام الثاني فيحصل
سبعون ثم بسط الثاني وذلك خمسة في مقام الاول فيحصل خمسة عشر ثم
اقسم حاصل المقسوم وهو ٧٠ على حاصل المقسوم عليه وهو ١٥ بعد حله
الى ضاعيه وهما ٥ و ٣ على ما عرفت فيخرج $4 \frac{2}{5}$ وهو الجواب وكثيراً ما

عليه
هو
م لا

س

ثقة

ذا

وم

له

ة

ة

ن

11

يكون الخارج في باب الكسور أكثر من المقسوم بخلاف ما في الصراح لان
القسمة على الكسر تضعيف وعلى الصحيح تبعيض
ما ايضاح ذلك

ايضاحه ان نقول ان ٤ مثلاً توجد في ١٢ ثلاث مرات والواحد
يوجد في ١٢ اثني عشرة مرة فيجب ان يوجد النصف في ١٢ أكثر من الواحد
الصحيح برتين اي ٢٤ مرة

ما هي الصورة الثالثة في الكسر في الجانبين

هي قسمة كسر وصحيح على كسر وصحيح كما لو قيل اقسام اربعة واربعة
اسباع على اثنين وثلاث ٤ $\frac{4}{3} \div \frac{2}{3}$ فتضرب بسط الاول في مقام الثاني
فيحصل ٩٦ ثم بسط الثاني في مقام الاول فيحصل ٤٩ تحالفا الى ضلعها
٧ و ٢ ونقسم عليهما الحاصل الاول وهو ٩٦ فيخرج $1 \frac{7}{7}$ وهو الجواب

ما هي الصورة الرابعة في الكسر في الجانبين

هي قسمة كسر على صحيح وكسر كما لو قيل اقسام ثلاثة ارباع على
اثنين وثلاث $\frac{3}{4} \div \frac{2}{3}$ واذا يكون فيها المقسوم عليه أكثر من المقسوم دائماً
نكون من باب التسمية اي قسمة القليل على الكثير وكيف اتفق فالعمل
واحد تضرب بسط المقسوم وذلك ٣ في مقام المقسوم عليه وهو ٣ فيحصل
٩ وهي حاصل المقسوم ثم تضرب بسط المقسوم عليه وذلك سبعة في مقام
المقسوم عليه وهو اربعة فيحصل ٢٨ وهي حاصل المقسوم عليه فتحله الى
ضلعيه ٧ و ٤ ثم نقسم عليهما التسعة حاصل المقسوم فيخرج $\frac{1}{7} \frac{2}{4}$ اي سبعان
وربع السبع وذلك يساوي ثلثاً وتسع الثلث لانا لو اخذنا من المخرج المشترك

وهو ثمانية وعشرون سبعة ورابع سبعة يكون تسعة والتسعة من ٢٨ ثلث
وأسع الثلث

ما هي الصورة الاولى في الكسر في جانب واحد

هي قسمة صحيح على كسر كما لو قيل اقسام خمسة على ثلاثة اسباع وثلث
السبع $5 \div \frac{2}{7}$ فنضرب الخمسة في المقامين فيحصل ١٠٥ ثم تبسط
المقسوم عليه فيحصل عشرة فتحلها الى ضلعيها ٥ و ٢ ثم نقسم ١٠٥ حاصل
المقسوم عليهما فيخرج عشرة عدد صحيح وخمسان ونصف الخمس $\frac{10}{3}$
فيختزل هذا الكسر فيكون الجواب $\frac{10}{3}$

ما هي الصورة الثانية في الكسر في جانب واحد

هي قسمة كسر على صحيح كما لو قيل اقسام ثلاثة اسباع على اثنين $2 \div \frac{3}{7}$
فنضرب الصحيح في السبعة وتحل الحاصل الى ضلعيه ٧ و ٢ ثم نقسم البسط
على ذلك فيخرج $\frac{14}{3}$ وهو الجواب وهذه ايضا من باب التسمية

ما هي الصورة الثالثة في الكسر في جانب واحد

هي قسمة كسر وصحيح على صحيح كما لو قيل اقسام ثلاثة وثلثا على اثنين
 $2 \div \frac{3}{2}$ فنضرب الصحيح المنفرد في مقام الكسر وتحل الحاصل الى ضلعيه
٣ و ٢ ونقسم عليهما بسط المقسوم وذلك عشرة فيخرج الجواب $\frac{4}{3}$

ما هي الصورة الرابعة في الكسر في جانب واحد

هي قسمة صحيح على كسر وصحيح والعمل فيها كما في الثالثة ذيرانه
يقسم فيها حاصل ضرب الصحيح المقسوم في مقام الكسر على بسط المقسوم
عليه بعد حله الى اضلاعه وهي ظاهرة

ثلث

وثلث

بسط

اصل

$\frac{112}{21}$

٢٠


سط

ون

يه

٤

٣



كيف قسمة القليل على الكثير في الكسور مما يسمونه بالتسمية
 قسمة ذلك بمتضى ما نقرر في قسمة الكثير على القليل بلا فرق فلو
 قيل اقسام سبعين ونصف السبع على اربعة اقسام وثلث الخمس $\frac{1}{3} \div \frac{2}{5} = \frac{5}{6}$
 فتضرب بسط الاول في مقامى الثاني فيحصل ٧٥ ثم بسط الثاني في مقامى
 الاول فيحصل ١٨٢ ثم تقسم الحاصل الاول على الحاصل الثاني بعد حله الى
 اضلاعه ١٣ و ٧ و ٢ فيخرج $\frac{5}{6} \div \frac{2}{5} = \frac{25}{12}$ وهو الجواب ومتى قيل اقسام عدداً قليلاً
 على اكثر منه تضع القليل على الكثير ليكون كسراً منه كما لو قيل اقسام ٤
 على ٨ يكون الجواب $\frac{1}{2}$ وبرهانه اننا لو حولنا الاربعة الى اثمان لكانت اثنان
 وثلاثين ثمناً فاذا قسمنا هذا المبلغ على ثمانية يكون للواحد اربعة اثمان

كيف العمل اذا تساوى المقسوم والمقسوم عليه في المقام
 العمل فيه ما مر ولك ان تقسم بسط الاول على بسط الثاني كما لو
 قيل اقسام ستة اسباع على ثلاثة اسباع $\frac{6}{7} \div \frac{3}{7} = 2$ فتقسم الستة على الثلاثة
 والخارج تضعه على المخرج المذكور فيكون الجواب $\frac{6}{7}$ ولو عكس السؤال لكان
 الجواب $\frac{2}{3}$

كيف العمل اذا تساوى في البسط
 العمل ان تقسم مقام المقسوم عليه على مقام المقسوم كما لو قيل اقسام
 ستة اسباع على ستة اعشار $\frac{6}{7} \div \frac{6}{10} = \frac{5}{7}$ فتقسم العشرة على السبعة فيخرج $\frac{10}{7}$
 ولو عكس السؤال لكان الجواب $\frac{7}{10}$

❖ اسئلة في الباب ❖

في الجمع

$$\frac{1}{7} + \frac{2}{7} + \frac{3}{7} + \frac{4}{7} + \frac{5}{7} + \frac{6}{7} = \frac{21}{7} = 3$$

$$\frac{1}{7} + \frac{2}{7} + \frac{3}{7} + \frac{4}{7} + \frac{5}{7} + \frac{6}{7} = \frac{21}{7} = 3$$

(في الطرح)

$$\frac{2}{7} - \frac{1}{7} = \frac{1}{7}$$

$$\frac{3}{7} - \frac{2}{7} = \frac{1}{7}$$

$$\frac{4}{7} - \frac{3}{7} = \frac{1}{7}$$

$$\frac{5}{7} - \frac{4}{7} = \frac{1}{7}$$

$$\frac{6}{7} - \frac{5}{7} = \frac{1}{7}$$

في الضرب

$$\frac{1}{7} \times \frac{2}{7} = \frac{2}{49}$$

$$\frac{2}{7} \times \frac{3}{7} = \frac{6}{49}$$

$$\frac{3}{7} \times \frac{4}{7} = \frac{12}{49}$$

$$\frac{4}{7} \times \frac{5}{7} = \frac{20}{49}$$

$$\frac{5}{7} \times \frac{6}{7} = \frac{30}{49}$$

في القسمة

$$\frac{1}{7} \div \frac{2}{7} = \frac{7}{14} = \frac{1}{2}$$

$$\frac{2}{7} \div \frac{3}{7} = \frac{7}{3}$$

$$\frac{3}{7} \div \frac{4}{7} = \frac{7}{4}$$

$$\frac{4}{7} \div \frac{5}{7} = \frac{7}{5}$$


$$\frac{5}{7} \div \frac{6}{7} = \frac{7}{6}$$

❖ اسئلة في مسائل الباب ❖

ما الاعمال الاربعة . كيف جمع الكسور . ما مثاله . كيف طرح الكسور .
ما مثاله . كيف ضرب الكسور . ما مثاله . كم نوع قسمة الكسور . كيف قسمة

27
24

—
—



الكثير على القليل في الكسور. ما هي الصورة الاولى في الكسر في الجانبين .
 ما هي الصورة الثانية في ذلك . ما ايضا ذلك . ما هي الصورة الثالثة في ذلك
 ما هي الصورة الرابعة في ذلك . ما هي الصورة الاولى في الكسر في جانب
 واحد . ما هي الصورة الثانية في ذلك . ما هي الصورة الثالثة في ذلك . ما هي
 الصورة الرابعة في ذلك . كيف قسمة القليل على الكثير في الكسور مما يسمونه
 بالتسمية . كيف العمل اذا تساوى المقسوم والمقسوم عليه في المقام . كيف
 العمل اذا تساوى بسط كل منهما

—○○○○—

الباب السابع

في الاربعة المتناسبة

ما الاربعة المتناسبة

هي عبارة عن اربعة اعداد نسبة اولها الى ثانيها كنسبة ثالثها الى رابعها
 وبالعكس اي نسبة رابعها الى ثالثها كنسبة ثانيها الى اولها وكذا نسبة اولها
 الى ثالثها كنسبة ثانيها الى رابعها وتسمى بالنسبة المنفصلة البسيطة وهي المرادة
 ههنا واما المتصلة والمنفصلة المركبة فيطلبان من غير هذا العمل
 كيف طريقة كتابتها

طريقتهما ان ترقم الاعداد في سطر واحد متواليه واضعاً تقطين احدهما
 فوق الاخرى بين اولها وثانيها ومثل ذلك بين ثالثها ورابعها واربع نقط
 ميزاناً بين ثانيها وثالثها

ما مثاله

مثالها ان نقول نسبة اربعة الى ستة كنسبة ثمانية الى اثني عشر
فتقرأؤها هكذا وترسمها بهذه الصورة ٤ : ٦ :: ٨ : ١٢ والاصل في هذا
المثال كسران هما $\frac{4}{6}$ و $\frac{8}{12}$ وحيث كانا متساويين يلزم مساواة الصورتين اذا
حولناهما الى مخرج مشترك اي ان $4 \times 6 = 12 \times 8$ وهو ضرب الاول
في الرابع والثاني في الثالث فينتج انه في الاربعة المتناسبة يكون مسطح
الطرفين وهما الاول والرابع مساوياً لمسطح الوسطين وهما الثاني والثالث فاذا
ضرب احد الطرفين في الآخر وقسم الحاصل على احد الوسطين يكون
الخارج عين الوسط الآخر واذا ضرب احد الوسطين في الآخر وقسم
الحاصل على احد الطرفين يكون الخارج عين الطرف الآخر فيلزم من ذلك
انه متى جهل احد هذه الاعداد استخراج من الثلاثة الاخر فالاربعة
المتناسبة من اهم القواعد الموضوعة لاستخراج المجهولات

كيف العمل اذا جهل احد الطرفين

هو ان نقسم الحاصل من ضرب احد الوسطين في الآخر على

الطرف المعلوم

ما مثاله


مثاله لو جهل ٤ من المثال المذكور نضع البقية ونرسم موضع المجهول

مياً هكذا

م : ٦ :: ٨ : ١٢ فتقرأؤها قائلاً نسبة المجهول الى الستة كنسبة

الثمانية الى الاثني عشر ثم تضرب الوسطين ٦ و ٨ ونقسم الحاصل على الطرف

سر
هنا
اذا
ل
ط
ذا
ن
م
ب
ن



المعلوم وهو ١٢ بهذه الصورة

$$م : ٦ :: ٨ : ١٢$$

$$\frac{٨}{١٢}$$

وهي الجواب ٤ (٤٨) ١٢

$$\frac{٤٨}{١٢}$$

$$\frac{٤٨}{١٢}$$

ولو جهل ١٢ عملت هكذا ايضاً ٤ : ٦ :: ٨ : م

$$\frac{٦}{٤٨}$$

$$\frac{٤٨}{٦}$$

وهي الجواب ١٢

كيف العمل اذا جهل احد الواسطين

ان نقسم الحاصل من ضرب احد الطرفين في الآخر على الوسط المعلوم

ما مثاله

مثاله لو جهل من المثال المذكور ٦ عملت هكذا ٤ : ٦ :: ٨ : ١٢

$$\frac{٤}{١٢}$$

$$\frac{٤٨}{٨}$$

وهي الجواب ٦

او جهل ٨ لكان العمل هكذا ايضاً ٤ : ٦ :: م : ١٢

$$\frac{٤}{١٢}$$

$$\frac{٤٨}{٦}$$

وهي الجواب ٨

ما فائدة ذلك للقرضى

فائدته انه متى عرف نصيب الوارث من اصل المسئلة او تصحيحها

وعرف كم المتروك امكن استحصال نصيبه من المتروك بلا عناء ونصيبه منه

أبداً هو الوسط الثاني المجهول فلو كان الاصل ستة ونصيبه منه الثلث مثلاً
وهو اثنان والمتروك اربعة وعشرون قيراطاً عرفنا نصيبه بالقاعدة المذكورة
بهذه الصورة

$$\frac{\text{ط}}{٢٤} :: \text{م} : ٦$$

٢

$$٦ \overline{) ٤٨}$$

٨ وهي الجواب

نخرج له ثمانية قرار يط بسهولة على ماسياً تي في قسمة التركات ان شاء الله تعالى
كيف العمل لو فرض في المسئلة كسور وطلب منك عدد مجهول
منها بواسطة جمع او طرح او غيرهما

العمل حيث ان تحصل مخرج الكسور المفروضة ثم تصرف فيه بحسب
السؤال فيكون عدد ثان والثالث هو المجهول والرابع ما اعطاه السائل في
كلامه بقوله صار كذا او المجهول هو الرابع والثالث ما اعطاه السائل ثم
تجرى القاعدة السابقة فتعرف الجواب

ما مثاله

مثاله لو قيل مالٌ جمع ثلثه الى ربهه فكان ١٠ كم هو فتنظر في مخرج
الثلث والربع فاذا هو ١٢ فتأخذ الثلث ٤ والربع ٣ والمجموع سبعة فتنسبه
الى المخرج ثم تنسب العشرة في كلام السائل الى المجهول وهذه صورته


$$١٢ : ٧ :: ١٠ : \text{م}$$

١٠

$$٧ \overline{) ١٢٠}$$

١٧ $\frac{١}{٧}$ وهي الجواب

30
31



وبيانه اننا لو بسطنا هذا الجواب لكان ١٢٠ فناخذ ثلثه وهو ٤٠
 وربعه وهو ٣٠ والمجموع ٧٠ فنرفعه بان تقسمه على مخرج الكسر وهو سبعة
 هكذا $٧٠ \div ٧ = ١٠$ كما قال السائل

❖ اسئلة في الباب ❖

اخبرني عن المجهول في هذه الاعداد

٣ : ٩ :: ٨ : م . م : ٧ :: ١٤ : م . م : ١٢ :: م : ١٦ :: ٦ : ٢٤ . اثنان

اصل مسئلتها ١٢ ونصيبها منه ٨ والمتروك ٢٧٢٤ غرشاً فكح نصيبها
 من ذلك . مالٌ زيد عليه مثله وخمسة فكان عشرة كم هو . مالٌ ذهب
 ثلثه وربعه فبقي عشرة كم هو

(اسئلة في مسائل الباب)

ما الاربعة المتناسبة . كيف طريقة كتابتها . ما مثالها . كيف العمل
 اذا جهل احد الطرفين . ما مثاله . كيف العمل اذا جهل احد الواسطين .
 ما مثاله . ما فائدة ذلك للفرضي . لو فرض في المسئلة كسور وطلب منك
 عدد مجهول منها بواسطة جمع او طرح او غيرها كيف العمل . ما مثاله

الباب الثامن

في قسمة التركات

ما المقصود من علم الفرائض


المقصود منه قسمة التركات وهي الثمرة المقصودة بالذات وهي مبينة
على الاعداد الاربعة المتناسبة لان نسبة ما لكل وارث من تصحيح المسئلة
اليه كنسبة ماله من التركة اليها

كيف تقسم التركة

ينظر اما ان تكون التركة كلها صحيحة او كلها كسوراً او فيها صحيح وكسر
كيف تقسمها اذا كانت كلها صحيحة

تقسمها ان تنظر اولاً في النسبة بينها وبين تصحيح المسئلة فاما ان
تكون التمام ولا تحتاج الى عمل حينئذ اذ يكون للوارث بمقدار ماله من
التصحيح واما ان تكون التداخل او التوافق او التباين فان كانت التداخل
او التوافق تردها الى وقفها اذ يعتبر في التداخل هنا التوافق لانه كما كان
تداخل كان توافق بلا عكس وتأخذ وفق التصحيح فان لم ينحل الى اضلاع
كان يكون من الاعداد الاوائل رسمته بنفسه ضلعاً ضمن قبة بعد جدول
التركة عن يسارك راسماً له جدولاً ملاصقاً لجدول التركة وان كان ينحل
الى اضلاع حلته اليها ووضعها ضمن قبة بعددها مرتباً لما في الوضع بان
ترسم الاكبر فما بعده من جهة يمينك حتى يكون الاصغر من جهة يسارك
ورسمت لكل ضلع جدولاً لصيقاً للاخر ثم تضرب سهم كل وارث من

[The page contains extremely faint, illegible text, likely bleed-through from the reverse side of the page. The text is too light to transcribe accurately.]



التصحيح في وفق التركة والحاصل تقسمه على الاضلاع مبتدئاً في القسمة
 بالضلع الاصغر من جهة يسارك ثم على الذي فوقه فان لم ينقسم الحاصل على
 ذلك الضلع اثبتته تحته ليكون كسراً منه وان اقسام فلما ان ينقسم بلا كسر
 فتثبت صفراً تحت الضلع المقسوم عليه واما بكسر فتثبت الكسر تحته والتصحيح
 تقسمه على الذي فوقه حسبما عرفت ثم على الذي فوقه كذلك ايضاً الى ان
 تنتهي الاضلاع فما يبقى اخيراً فهو عدد صحيح ترسمه في جدول التركة اي
 الملاصق لجدول سهام الورثة الملاصق لجدول اسمائهم والتركة ان كانت
 من النقود رسمت المفروض منها وان من العقار رسمت المسمى منها من كمية
 القراريط واذا لم يسم لها كمية كان يقال بستان دار مثلاً فهي من اربعة
 وعشرين قيراطاً وان كانت النسبة بين التركة والتصحيح المبينة اخذت كل
 التصحيح فان انحلت الى اضلاع رسمت اضلاعه كما عرفت والا رسمته بنفسه
 واجريت باقي العمل

ما مثال قسمة التركة في صورة المداخلة ووفق التصحيح غير منحل
 الى اضلاع والتركة من النقود

مثالها ما لومات عن زوجة واخت شقيقة واخت لاب واختين لام
 وترك خمسة واربعين قرشاً فاصل المسئلة من اثني عشر وتقول بربعها الى
 خمسة عشروينها وبين التركة مداخلة فنعتبر التوافق بينهما وذلك بالثلث
 وثلث ١٥ التي هي اصل المسئلة العائل خمسة وهي لا تحل الى اضلاع فنرسمها
 بنفسها واذا كان وفق التركة خمسة عشر نضرب فيها سهم الزوجة من ذلك
 الاصل وهو ثلاثة فيحصل خمسة واربعون تقسمها على الضلع الموجود وهو

خمسة فيخرج تسعة فهي قروش لها وقد كان للشقيقة من اصلها ٦ نضربها في
 التركة فيحصل تسعون تقسمها على الضلع الموجود فيخرج ثمانية عشر فهي قروش
 لها وكان للاخت للاب من اصلها ٢ نضربها في وفق التركة فيحصل ثلاثون
 تقسمها على الضلع ٥ فيخرج ٦ فهي قروش لها وكان للاختين لام من اصلها
 نضربها في وفق التركة فيحصل ٦٠ تقسمها على الضلع فيخرج ١٢ فهي
 قروش لها وهذه صورة شبك ذلك

٠	٤٥	١٥	ت
٠	٠٩	٠٣	زوجة
٠	١٨	٠٦	قيقه
٠	٠٦	٠٢	اخت لاب
٠	٠٦	٠٢	اخت لام
٠	٠٦	٠٢	اخت لام

ما مثال ذلك اذا كان الوفق ينحل الى

اضلاع وتركة من العقود

مثاله لو مات عن زوجة وبتين وعم

وكان المتروك ستة وتسعين قرشاً فاصلها من

اربعة وعشرين للزوجة الثمن ثلاثة وللبنتين الثلثان ستة عشر ولعم الباقي
 بالتعصيب وذلك خمسة والنسبة بين اصل المسئلة وهو ٢٤ وبين المتروك
 وهو ٩٦ المداخلة ويعتبر التوافق وذلك بالثك فناخذ ثلث التصحيح
 وذلك ثمانية وهي مركبة من ضلعين ٤ و ٢ لانها مسطوحتان فتحلها اليهما
 ونضع كل واحد في قبة ثم نضرب سهم كل وارث في وفق التركة وهو ٣٢
 ثم تقسم الحاصل على الضلعين كما علمت واذا كان للزوجة من اصلها ثلاثة
 نضربها في وفق التركة فيحصل ٩٦ تقسمها على الضلع الاول وهو ٢ فيخرج
 ٤٨ بلا كسر فنضع تحت هذا الضلع صفراً ونقسم ٤٨ على الضلع الثاني وهو
 ٤ فيخرج ١٢ بلا كسر فنضع تحت هذا الضلع صفراً ونضع ١٢ في جدول

في

س

نون

ياء

شي

ح

ا

ب

ت

ث

ج

د

ذ

ر

ز

س

ش

ص

ض

ط


ظ

ع

ف

ق

ك



التركة وهي قروش لها وكان للبنين من اصلها ١٦ نضربها في وفق التركة
 فيحصل ٥١٢ تقسمها على اول ضلع فيخرج ٢٥٦ بلا كسر فنضع تحته صفراً
 ونقسم ٢٥٦ على الضلع فيخرج ٦٤ هي قروش بلا كسر فنضع تحته صفراً
 وندفع ذلك لها لكل واحدة ٣٢ ونضع ذلك في جدول التركة وكان للعم
 من اصلها ٥ نضربها في وفق التركة فيحصل ١٦٠ تقسمها على اول ضلع
 فيخرج ٨٠ بلا كسر فنضع تحته صفراً ونقسم ٨٠ على الثاني فيحصل ٢٠
 بلا كسر فنضع تحته صفراً وندفع ذلك له وهذه صورة شبك ذلك

٢٢ وفق التركة غرش

٢	٤	٩٦	٤	
٠	٠	١٢	٣	زوجة
٠	٠	٣٢	٨	بنت
٠	٠	٣٢	٨	بنت
٠	٠	٢٠	٥	عم

ما مثال قسمة التركة في صورة الموافقة بلا مناخلة والتركة اربعة قراريط
 مثالها لو ماتت عن بنت وبنت ابن وجد صحيح والمتروك كما في
 السؤال اربعة قراريط فاصلها من ستة للبنت النصف ثلاثة ولبنت
 الابن السدس واحد والباقي وهو اثنان للجد فرضاً وتعصياً وبين المتروك
 وهو ٤ وبين اصل المسئلة وهو ٦ الموافقة بالنصف فاخذنا وفق الاصل وهو
 ثلاثة ووضعناه في قبة ثم ضربنا نصيب كل في وفق المتروك وقسمنا الحاصل
 على الضلع الموجود كما ترى

٣ وفوق التركة

	ط	ثلث	٣	ط	٦	ت
للبنات قيراطان	٢	٠	٠	٢	٣	بنات
للبنات الابن ثلثا القيراط	٠	٢	٢	٠	١	بنات ابن
للجد قيراط وثلث القيراط	١	١	١	١	٢	جد صحيح
	٤	٠				

اذا جمعنا ما تحت الثلاثة التي هي مخرج الثلث يكون ثلاثة اثلاث
وذلك واحد صحيح نضمه الى ما تحت القيراط يكون المجموع اربعة قيراط
وذلك هو المتروك

ما مثال قسمة التركة في صورة المباينة

مثالها ما لو مات عن زوجة واختين شقيقتين وابن عم وكان المتروك
تسعة وعشرين قرشاً مثلاً فاصلها من اثني عشر للزوجة الربع ثلاثة وللشقيقتين
الثلاثان ثمانية والباقي وهو واحد لابن العم والنسبة بين المتروك وبين اصلها
المباينة فاخذنا كل اصلها وحللناه الى ضلعين ٤ و ٣ ثم اجرينا باقي العمل
وهذا شبك ذلك

	ثلث ربع	غرش	٣	٤	٢٩	١٢	ت
للزوجة سبعة قروش وربع	٧	١	٠	٠	١	٠٧	زوجة
للشقيقة تسعة قروش وربع القرش وثلثا ربع القرش	٩	٢	٢	٢	٢	٠٩	شقيقة
				٢	٢	٠٩	شقيقة
للشقيقة الثانية مثلاً	٩	٢	٢	٢	٢	٠٩	شقيقة
لابن العم قرشان وربع وثلثا الربع	٢	١	٢	٢	١	٠٢	ابن عم
	٢٩	٠	٠				

ش

ط

ك

ن

هـ

و

21
4
5
6
7
8
9
10
11
12
13
14
15
16
17
18
19
20
21
22
23
24
25
26
27
28
29
30
31
32
33
34
35
36
37
38
39
40
41
42
43
44
45
46
47
48
49
50
51
52
53
54
55
56
57
58
59
60
61
62
63
64
65
66
67
68
69
70
71
72
73
74
75
76
77
78
79
80
81
82
83
84
85
86
87
88
89
90
91
92
93
94
95
96
97
98
99
100

واذا اردت بيان الكسور من القرش قلت للزوجة سبعة قروش وربع
القرش وذلك عشر بارات والشقيقة الاولى تسعة قروش وربعاً انقرش وذلك
عشرون بارة وثلاثا ربع القرش واذا كان ربع القرش عشر بارات فثلاثة ثلاث
بارات وثلاث البارة فيكون ثلثا ربع القرش ستة بارات وثلاثا البارة والشقيقة
الثانية مثلها ولا ين العم قرشان وربع القرش وذلك عشر بارات وثلاثا ربع
القرش وذلك ستة بارات وثلاثا البارة فاذا اردت معرفة صحة ذلك تضعه
بحسب وضع الكسور الدارحة ثم تجمع ذلك فان كان مطابقاً للمتروك كان
العمل صواباً والا فهو خطأ وهذه صورة ذلك

ثلاث باره غرش

للزوجة سبعة قروش وعشر بارات	٧	١٠	٠
للسقيقة الاولى تسعة قروش وستة وعشرون بارة وثلاثا البارة	٩	٢٦	٠
للسقيقة الثانية مثلها	٩	٢٦	٠
لاين العم قرشان وستة عشر بارة وثلاثا البارة	٢	١٦	٠
		٢٩	٠

كيف تقسيم التركة اذا كانت كلها كسوراً

تقسيمها حينئذ ان تبسط الكسر المفروض بالقواعد المارة فالبسط تسميه
تركة كأنها صحيحة ثم تضع مقام الكسر او مقاماته ضمن قبة بدون تغيير في
ترتيبها بل تضعها حسبما ذكرت لك وبعد ذلك تنظر في النسبة بين البسط
والتصحيح بمقتضى ما مر من التداخل والتوافق والتباين فاذا اخذت وفق
التصحيح او كله على تقدير الموافقة او المباينة نظرت فيه فاما ان ينحل انى

اضلاع فترسمها بعد ما رسمته من مقامات الكسور مرتباً لها حسبها تقدم اي
تبتدي في الوضع بالا كبر فالذي بعده من جهة يمينك والى يسار المقامات
المرسومة ثم تضرب سهم كل وارث من التصحيح في كل البسط على تقدير
المباينة او في وفقه على تقدير الموافقة وحاصل الضرب في صورتين تقسمه
على الاضلاع وبعد تمام العمل تجمع ما تحت كل ضلع والمجموع اما ان لا ينقسم
على ذاك الضلع او ينقسم لكن تبقى بقية فتضع ذلك تحته ثم تنتقل بالصحيح
وتضيفه الى كسور الضلع الذي فوقه وهكذا ثم تقابل ما يجتمع بعد آخر العمل
مع ما فرض من الكسور في التركة فان كان طبقه فالعمل صحيح والا فخطا
ما مثال ذلك

مثاله ما لومات عن بنتين وام واب وكان المتروك ربعي القيراط
واربعة اخماس ربع القيراط وثلاثة اثمان خمس ربه وستة اساع ثمن خمس ربه
فاصلها من ستة للبنتين الثلثان اربعة واللام السدس واحد والاب
مثل ذلك وبسط الزركة $10 \cdot 41 = 6 + 10 \cdot 35 = 9 \times 115 = 3 + 112$
وهو البسط المطلوب فتظن
في النسبة بينه وبين اصل المسئلة وهو 6 فاذا هي الموافقة بالثلث وثلث البسط
 $3 \cdot 47$ وهو وفقه وثلث التصحيح 2 وذلك وفقه فترسم اولاً مقامات الكسر
المذكور على ترتيبها المذكور ثم بعدها ترسم الاثنتين وفق التصحيح في قبة ثم
تضرب سهم كل وارث من التصحيح في وفق البسط وتقسم الحاصل على
الضلع الاول وهو الاثنان فان بقي كسر رسمته تحته والا رسمت صفراً وكيف
اتفق تقسم الصحيح الباقي على ما فوقه وهكذا كل ضلع حتى ينتهي العمل

م اي

ت

د

س

ه

ز

ح

ط

ق

ك

ل

م

ن

ي

ر

ز

ح

ط

ق

ك

ل

م

ن

ي

شم
فرد

[Faint, illegible handwritten text, likely bleed-through from the reverse side of the page.]

واحد وهو كسر منه فوضعت الواحد تحته وقسمت الصحيح ١٧٢ على الضلع
 الثاني فخرج ١٩ وبقي اثنان هما كسر منه فوضعتها تحته وقسمت الصحيح ١٩
 على الضلع الثالث فخرج ٣ وبقي ثلاثة هي كسر منه فوضعتها تحته وقسمت
 الصحيح ٣ على الضلع الرابع فلم ينقسما عليه فبقيا كسراً منه فوضعتها تحته
 ولللاب مثل ما للام ثم جمعت الكسور المبنعة لاختر صحة العمل فنظرت الى
 ما في جدول الضلع الاول من الكسور فاذا فيه اثنان قسمتهما عليه فخرج
 واحد صحيح لان معنى قولنا اثنان هنا نصفان والنصفان واحد صحيح اي تسع
 لانهما نصفان للتسع الذي مخرجه التسعة التي هي الضلع الثاني ثم ضمت
 هذا لواحد الى ما في جدول الضلع الثاني من الاتساع اي اتساع الثمن
 فاجتمع ١٥ تسعاً فقسمتها على التسعة فخرج واحد اي ثمن وبقي ستة اتساع
 فوضعتها كسراً تحت جدولها ليعلم انها كسر منه وضمت الواحد الى ما في
 جدول الثالث فاجتمع ١٩ ثمنا فقسمتها عليه فخرج اثنان وانكسر اربعة فوضعتها
 تحته كذلك ايضاً وقسمت الاثني عشر على الضلع الخامس حيث لم يكن في
 جدولها كسور فلم ينقسما عليه فبقيا كسراً منه فوضعتها تحت جدولها كذلك
 ايضاً فكان مجموع الكسور المرسومة تحت الجداول ربيعاً واربعه الخماس
 الربع وثلاثة اثمان خمس الربع وستة اتساع ثمن خمس الربع فقابلت ذلك بما
 ذكر في الزرعة من الكسور فوجدته مطابقاً له فعملت ان العمل صحيح
 ويكون انصباء الورثة المذكورين ما يأتي طبق ما في الشباك

ضلع

۱۹

ت

محلہ

الی

ج

مع

ت

ن

ع

ب

ا

ن

م

ع

ب

ا

ن

م

ع

ب


ا


نصف تسع ثمن خمس ربع ط

للبنيت الاولى اربعة اخماس ربع القيراط وستة اثمان خمس ربعه وخمسة اتساع ثمن خمس ربعه	}	٠	٠	٤	٦	٥	٠
		٠	٠	٤	٦	٥	٠
لللام خمسا ربع القيراط وثلاثة اثمان خمس	}	٠	٠	٢	٣	٢	١
ربع القيراط وتسعا ثمن خمس ربعه ونصف		٠	٠	٢	٣	٢	١
تسع ثمن خمس ربعه		٠	٠	٢	٣	٢	١
لللاب كذلك		٠	٠	٢	٣	٢	١
		٠	٢	٤	٣	٦	٠

كيف تقسيم التركة اذا اشتملت على صحيح وكسر
تقسيمها ان تبسط الصحيح مع الكسرايے تحوله الى جنس الكسر
المفروض مع بسط الكسر ثم تجري باقي العمل الذي عرفته
ما مثال ذلك

مثاله لو مات عن ابن و بنت وترك ثلاثة قرايط ونصف $\frac{1}{4}$ فتبسط
الصحيح وهو ثلاثة مع الكسر بان تضرب ٣ في مخرج الكسر ٢ فيحصل ٦ ثم
تضم الى ذلك بسط الكسر وهو واحد فيجمع ٧ انصاف تعتبرها هي التركة
وتجري باقي العمل كما هو مبين في هذا الشباك






النسبة بينه وبين ٣ فاذا هي التباين فنضرب احدهما في الآخر فيحصل ستة
وهي جزء السهم نضربه في ٢٤ اصل المسئلة فيحصل ١٤٤ ومنها تصح المسئلة
اذ كان للزوجتين من اصلها ٣ نضربها في جزء السهم فيحصل ١٨ فهي لهما
لكل واحدة ٩ وكان للبنات الثلاث ١٦ نضربها في جزء السهم فيحصل
٩٦ فهي لمن لكل واحدة ٣٢ وكان للجدتين ٤ نضربها في جزء السهم فيحصل
٢٤ فهي لهما لكل واحدة ١٢ وكان لابني العم واحد نضربه في جزء السهم
فيحصل ٦ فهي لهما لكل واحد ٣ ثم نبسط الكسربان نضرب الصحيح وهو ١٤
في المقام الاول وهو ٤ فيحصل ٥٦ نضم اليها صورته ونضرب المجمع وهو
٥٩ في المقام الثاني وهو خمسة فيحصل ٢٩٥ نضم اليها صورته ونضرب
المجمع وهو ٢٩٧ في المقام الثالث وهو ستة فيحصل ١٧٨٢ نضم اليها
صورته ونضرب المجمع وهو ١٧٨٦ في المقام الرابع وهو ثمانية فيحصل ١٤٢٨٨
نضم اليها صورته فيجمع ١٤٢٩١ وهذا هو البسط فنضع اولاً مقامات
الكسر ثم نطلب النسبة بين البسط وبين تصحيح المسئلة فنراها المبائة فناخذ
كامل التصحيح ونحمله الى اضلاعه وهي ٢ و ٣ و ٤ و ٦ لان هذه الاعداد
بضرب بعضها في بعض يحصل التصحيح بعينه ونرسم هذه الاضلاع بعد
المقامات التي رسمناها مرتبة بان نرسم من جهة اليمين ٦ ثم ٤ ثم ٣ ثم ٢ ثم
نضرب سهم الزوجة الاولى حنيفه وهو ٩ في البسط ١٤٢٩١ فيحصل
١٢٨٦١٩ فنقسم ذلك ٢ الضلع الاول فيخرج ٦٤٣٠٩ ويبقى واحد كسراً
نضعه تحت هذا الضلع ليكون كسراً منه ثم نقسم الخارج على ٣ الضلع
الثاني فيخرج ٢١٤٣٦ ويبقى واحد كسراً نضعه تحت هذا الضلع ثم نقسم

الصحيح على الضلع الثالث فيخرج ٥٣٥٩ بلا كسر فنضع صفراً تحته ونقسم
 الخارج على ٦ الضلع الرابع فيخرج ٨٩٣ ويبقى واحد كسراً نضعه تحته
 ونقسم الخارج على ٨ الضلع الخامس فيخرج ١١١ ويبقى خمسة كسراً نضعها
 تحته ونقسم الخارج على ٦ الضلع السادس فيخرج ١٨ ويبقى ٣ كسراً نضعه
 تحته ونقسم الخارج على ٥ الضلع السابع فيخرج ٣ ويبقى ثلاثة كسراً نضعه
 تحته ونقسم الخارج على ٤ الضلع الثامن فلا ينقسم عليه فيبقى كسراً منه
 نضعه تحته ومثل ذلك للزوجة الثانية منيفه ثم نضرب ٣٢ سهم البنت الاولى
 فاطمه في البسط فيحصل ٤٥٧٣١٢ فنقسم ذلك على الضلع الاول فيخرج
 ٢٢٨٦٥٦ بلا كسر فنضع تحته صفراً ونقسم الخارج على الضلع الثاني فيخرج
 ٧٦٢١٨ ويبقى ٢ كسراً نضعه تحته ونقسم الخارج على الضلع الثالث فيخرج
 ١٩٠٥٤ ويبقى ٢ كسراً نضعه تحته ونقسم الخارج على الضلع الرابع فيخرج
 ٣١٧٥ ويبقى ٤ كسراً نضعه تحته ونقسم الخارج على الضلع الخامس فيخرج
 ٣٩٦ ويبقى ٧ كسراً نضعه تحته ونقسم الخارج على الضلع السادس فيخرج
 ٦٦ بلا كسر فنضع تحته صفراً ونقسم الخارج على الضلع السابع فيخرج ١٢
 ويبقى واحد كسراً نضعه تحته ونقسم الخارج على الضلع الثامن فيخرج ٣
 عدداً صحيحاً ويبقى واحد كسراً نضعه تحته ومثل ذلك للبنت الثانية خديجة
 ولثلاثة عاثة ثم نضرب ١٢ سهم الجدة الاولى سالمة في البسط فيحصل
 ٧١٤٩٢ وغب قسمة ذلك على الاضلاع بالكيفية التي عرفتها خرج لها واحد
 صحيح واربعة كسر من الضلع السابع وكذا اربعة من السادس وستة من
 الخامس وخمسة من الرابع واثنان من الثالث ومثل ذلك للجدة الثانية سليمة

Handwritten text from the adjacent page, including the letters 'A', 'C', and 'E'.



ثم ضرب ٣ سهم ابن العم الاول سعيد في البسط فيحصل ٤٢٨٢٢ وغب
 قسمة ذلك على الاضلاع كما عرفت خرج له واحد كسر من الضلع الثامن
 ومثله من السابع ومثله من السادس ومثله من الخامس واربعة من الرابع
 وواحد من الثالث ومثله من الثاني ومثله من الاول ومثل ذلك لابن العم
 الثاني مسعود ويجمع ما في الجداول من الكسور والصحاح يكون المجموع
 مثل ما سمي في التركة منهما وهذا آية صحة العمل وهذه صورة شبك ذلك

التركة ط $\frac{2/4/2/2}{8/7/10/4}$ البسط ١٤٢٩١									
٦ جزء السهم تصحيح ط ١٤٢٦١									
مقامات الكسر اصلاع التصحيح									
٢	٣	٤	٦	٨	٦	٥	٤	١٤٤	اصل المسئلة
١	١	٠	١	٥	٣	٣	٣	٠	٩
١	١	٠	١	٥	٣	٣	٣	٠	٩
٠	٢	٢	٤	٧	٠	١	١	٣	٣٢
٠	٨	٢	٤	٧	٠	١	١	٣	٣٢
٠	٢	٢	٤	٧	٠	١	١	٢	٣٢
٠	٠	٢	٥	٦	٤	٤	٠	١	١٢
٠	٠	٢	٥	٦	٤	٤	٠	١	١٦
١	١	١	٤	١	١	١	١	٠	٠٣
١	١	١	٤	١	١	١	١	٠	٠٣
٠	٠	٠	٣	٤	٢	٣	١٤		



❖ اسئلة في الباب ❖

قسم لي هذه التركات في المسائل الآتية

مات عن بنت وبنت ابن ابن وابن ابن ابن وقد ترك ١٦٨٤٦
 قرشاً . ت عن زوجين وبنتين وام واخت شقيقة وترك بستاناً . ت عن
 زوج وام واب وترك ثمانية قراريط حصة شائعة في دار وثلاثة قراريط
 الاربع القيراط حصة شائعة في قرية ونصف خمس ربع عشر القيراط حصة
 شائعة في دكان . ت عن ثلاث زوجات وثلاث بنات وثلاث جدات
 وترك ثلاث بارات . ت عن اختين لابوين واختين لاب واختين لام
 وجدتين صحيحتين وترك ثلاثة اتساع ثمن خمس ربع عشر القيراط . ت
 عن بنتين وبنت ابن ابن ابن وابن ابن وابن وترك ربعي القيراط وثلاث
 ربع القيراط الا خمسين وربع الخمس من ذلك . ت عن ام واخ لاب
 وابن اخ شقيق وترك اثنين وعشرين قيراطاً وثلاثة اثمان القيراط وثلاث
 ثمن القيراط وستة اتساع ثلث ثمن القيراط

❖ اسئلة في مسائل الباب ❖

ما المقصود من علم الفرائض . كيف تقسم التركة . كيف تقسيمها
 اذا كانت كلها صحيحة . ما مثال قسمة التركة في صورة المداخلة ووفق
 التصحيح غير منحل الى اضلاع والتركة من النقود . ما مثال ذلك اذا كان
 الوفق ينحل الى اضلاع والتركة من النقود . ما مثال قسمة التركة في

صورة الموافقة بدون مداخلة والتركة اربعة قرار يبط . ما مثال قسمة التركة في صورة المبانيه . كيف تقسيمها اذا كانت كلها كسوراً . ما مثال ذلك . اريد ان توضح لي كيف قسمت وكيف جمعت وكيف قابلت . كيف تقسيمها اذا اشتملت على صحيح وكسر . ما مثال ذلك . هات لي مثلاً آخر مع كون الكسر منتسباً وتفصيل العمل في ذلك لتتذكر القواعد المارة

الباب التاسع

في القسمة على الغرماء

كيف القسمة على الغرماء

ان الباقي من التركة بعد التجهيز اذا وفي بالديون فيها ونعمت والا فان كان الغريم واحداً فلا حاجة للعمل واذا تعدد الغرماء واتحدوا اولوية فالطريق الى معرفة نصيب كل غريم من ذلك الباقي من التركة ان كل دين لغريم بمنزلة سهام وارث من تصحيح المسئلة ويجعل مجموع الديون بمنزلة التصحيح ويعمل حينئذ في تعيين ما يخص كل دين من التركة العمل الذي مر لتعيين نصيب الوارث منها

ما مثاله

مثاله لومات زيد وترك تسعة قروش مثلاً وكان ابكر عشرة قروش ولخالد خمسة قروش وجمعنا الدينين كان المجموع خمسة عشر فهي بمنزلة التصحيح وبين التسعة والخمسة عشر موافقة بالثلث فاذا ضربنا دين بكر في ثلث التسعة الذي هو وفقها وهو ثلاثة حصل ثلاثون فاذا قسمناها على وفق التصحيح

[The page contains extremely faint, illegible handwriting, likely bleed-through from the reverse side of the paper. The text is too light to transcribe accurately.]

[The text on this page is extremely faint and illegible. It appears to be a handwritten document or letter, possibly in Arabic or Persian script, but the characters are too light to transcribe accurately.]

وهو خمسة خرج ستة ففي نصيبه من التسعة قروش المتروكة واذا ضربنا دين خالد في الثلاثة وفقى التركة حصل خمسة عشر فاذا قسمناها على الخمسة وفق التصحيح خرج ثلاثة ففي نصيبه من ذلك كما في هذا الشباك

التصحيح الذي هو مجموع الديون

١٥	غرش	٥	وفق التصحيح
١٠	لبكر	٦	
٥	خالد	٣	

٦	غرش	فيكون
٢	لبكر	
١	خالد	

ولو فرضنا ان التركة في هذه الصورة ثلاثة عشر قرشاً كان بين التصحيح والتركة مباينه فنضرب السهام في كل التركة ثم نقسم الحاصل على كل التصحيح بعد حله الى ضلعيه ٥ و ٣ بهذه الصورة

١٥	غرش	٥	٣	فيكون
١٠	لبكر	٣	١	ثلث خمس غرش
٥	خالد	١	٢	

واذ كان القرش اربعين بارة وخمس ذلك ثمانية بارات وثلث هذا الخمس بارتان وثلثا البارة وقد كان لبكر مع الثمانية قروش ثلاثة اخماس القرش وهي تساوي اربعة وعشرين بارة وله ايضاً ثلث الخمس وذلك بارتان وثلثا البارة فيكون له ثمانية قروش وستة وعشرون بارة وثلثا البارة وكان لخالد مع الاربعة قروش خمس القرش وذلك ثمانية بارات وثلثا خمسه وذلك خمس بارات وثلثا البارة فيكون له اربعة قروش وثلاثة عشر بارة وثلث البارة بهذه الصورة

ثلث بارة غرش	فيبقى لبكر في ذمة الميت قرش وثلاثة عشر بارة وثلثا البارة
» ٢٦ ٨ لبكر	و يبقى لخالد ستة وعشرون بارة وثلثا البارة هكذا
» ١٣ ٤ لخالد	ثلث بارة غرش
» ١٣ ٠ ٠	ثلث بارة غرش
» ٨ ٢٦ ٠ ٠	لبكر دين ١٠ ٠ ٠ ٠
» ٨ ٢٦ ٠ ٠	بيده من التركة
» ١٣ ٠ ٠	بيده من التركة ٤ ١٣
» ١٣ ٠ ٠	يبقى له ٠ ٢٦
» ١٣ ٠ ٠	يبقى له ٠ ٢٦

- ١٠ - الباب العاشر -

في المناسخت

ما المناسخة

هي ان ينتقل نصيب بعض الورثة بموته قبل القسمة الى من يرث منه ومدارها على المغايرة بين الورثة قسمة سواء تغايروا ذاتاً ام لا ما توضيح ذلك

توضيحه ان للورثة ثلاث حالات الاولى ما اذا كان ورثة الميت الثاني بقية ورثة الميت الاول ولم يقع في القسمة تغيير فانه يقسم المال قسمة واحدة اذ لا فائدة في تكرارها كما اذا ترك خمسة اخوة اشقاء ثم مات احدهم عن الباقيين ولا وارث له سواهم فانه يقسم مجموع التركة بين باقيهم الثانية ما اذا كان ورثة الميت الثاني هم بقية ورثة الاول او بعضهم لكن وقعت المغايرة في القسمة بين الباقيين كما اذا ترك ابناً من امرأة وثلاث بنات من اخرى ثم ماتت احدى البنات عن المذكورين فينثذ ينقلب الابن في ميراثه من هذه البنت اخأ لاب والبتان اختين شقيقتين وقد كانت قسمتهم من

Faint, illegible handwriting, likely bleed-through from the reverse side of the page. The text is arranged in approximately 20 horizontal lines.

Fragment of text from the adjacent page on the right, including a small number '2' at the top and a larger number '8' further down.

Faint, illegible text, likely bleed-through from the reverse side of the page. The text is arranged in several paragraphs and appears to be written in a historical or classical script, possibly Arabic or Persian. The ink is very light and the overall quality is poor, making the content unreadable.


الاول للذكر مثل حظ الاثنتين فصارت بينهم من الثاني للشقيقتين الثلثان
 والباقي وهو الثلث للاخ للاب فقد تغيرت القسمة ولم تغير الذوات فيحتاج
 في هذه الحالة الى العمل الآتي الثالثة ما اذا كان ورثة الثاني غير ورثة
 الاول او بعض ورثة الاول وغيرهم ويلزم منه المغايرة في القسمة كما لو مات
 عن ابنين وبنتين ثم مات احد الابنين عن زوجة وابن فيحتاج في هذه
 الحالة ايضاً الى العمل الآتي فقد تبين ان مدار عمل المناسخة على المغايرة قسمة
 ما هي كيفية العمل في المناسخات

هي ان تصحح اولاً مسألة الميت الاول وتعرف نصيب الثاني منها ثم
 تصحح لميت الثاني ايضاً مسألة اخرى وتنظر في نصيبه من الاول وفي تصحيح
 مسألة ورثته فان كان نصيبه منقسماً عليه وذلك يكون بسبب المائة
 والمداخلة فتصحح المسئلتان من التصحيح الاول وان كان غير منقسم فالنسبة
 بينهما حينئذ اما الموافقة فتضرب وفق التصحيح الثاني في التصحيح الاول
 فيحصل ما تصح منه المسئلتان ويسمى الجامعة ويكون ذلك الوفق هو جزء
 السهم للتصحيح الاول تضعه فوقه كما ان وفق نصيب الميت الثاني من الاول
 يكون هو جزء السهم للتصحيح الثاني اي تصحيح مسألة ورثة الميت الثاني
 واما المبانية فتضرب كل التصحيح الثاني في كل الاول فيحصل به ايضاً الجامعة
 ويكون التصحيح الثاني المضروب كله في الاول هو جزء السهم له اي للاول
 كما انه حينئذ يكون كل نصيب الثاني من الاول هو جزء السهم للتصحيح
 الثاني وطريق تحصيل سهام الموجودين من الورثة من الجامعة التي اصبحت
 تصحيحاً للمسئلتين ان تضرب سهام ورثة الاول من تصحيح مسئلته في

جزء السهم لها وسهام ورثة الثاني من تصحيح مسئلته في جزء السهم لها
ومن كان له نصيب من التصحيحين جمعت سهامه بعد الضرب وان مات
ثالث من الورثة قبل القسمة فاعتبر الجامعة التي حصلت لها للاولين مسئله اولى
وصحح للميت الثالث مسئله واعتبرها ثانية فكان الميت الاول والثاني صاراميتاً
واحداً واستخرج جامعة لها اي للجامعة الاولى التي اعترتها مسئله اولى ولمسئلة
الميت الثالث حسبما عرفت وكذا الحال لو مات رابع تكون الجامعة الثانية
مسئلة اولى ومسئلة الميت الرابع مسئله ثانية واستخرجت لها جامعة ثالثة حسبما
عرفت وهلم جرا
ما مثال ذلك

مثاله لو ماتت زينب عن زوج وبنت من غيره وعن ام فاصلها من
اثني عشروهي ردية ترد الى اربعة مخرج من لا يرد عليه وهو الزوج وله منها
واحد والباقي وهو ثلاثة لا يستقيم على اربعة مجموع سهام البنت والام الذي
يسمى مسئله ردية لها المقتطع من الستة اصل مسئلتها بقطع النظر عن الزوج
حسبما عرفته في باب الرد بل بينهما مباينة فنضرب مجموع سهامها الذي هو
بمنزلة الرأس في ذلك المخرج نعني الاربعة مخرج فرض الزوج الذي رددنا
الاثنى عشر اليه فيحصل ستة عشر فلزوج منها اربعة وللبنت تسعة وللأم
ثلاثة ثم مات الزوج قبل القسمة عن زوجة وابوين ولكون البنت من زوج
آخر لم تعد في ورثته فمسئلته من اربعة للزوجة واحد وللأم ثلث الباقي وهو
واحد وللأب الباقي وهو اثنان ونصيب الزوج من الاول اربعة وهي منقسمة
على ورثته المذكورين بسبب مماثلتها للاربعة التي هي تصحيح مسئله ورثته


لها
ت
لى
بنا
ة
ة
كا



فالمسئلة الاولى هي الجامعة للمستلئين وجزء السهم لكل منهما واحد ثم ماتت
 البنت عن ابنين وبنت وجدة هي ام زينب فنصيبها من التصحيح الاول
 تسعة ومسئلتها من ستة وبينهما موافقة بالثلث فنضرب وفق مسئلتها وهو
 اثنان في التصحيح الاول الذي صار جامعة وهو ستة عشر فيحصل اثنان
 وثلاثون وهي الجامعة للسائل الثلاث ويكون الاثنان المضروبان في ذلك
 جزء السهم للتصحيح الموضوع جامعة كما ان وفق نصيبها اي ثلثه وهو ثلاثة
 جزء السهم لمسئلتها وقد كان لام الميت الاول الذي هو زينب ثلاثة من ستة
 عشر نضربها في اثنين وفق التصحيح الثاني تبلغ ستة فهي لها وكان للزوج منها
 اربعة نضربها في ذلك وفق فيحصل ثمانية تقسمها على ورثته فلزوجته منها
 سهمان ولامه سهمان هما ثلث الباقي ولايه اربعة اسهم وكان لكل واحد
 من ابني البنت التي هي الميت الثالث سهمان من مسئلتها وهي الستة فاذا
 ضربناهما في وفق نصيبها من التصحيح الاول نعني ثلاثة حصل ستة فنصيب
 كل واحد منهما ستة وكان لبنتها من مسئلتها سهم واحد فاذا ضربناه في
 وفق نصيبها كان ثلاثة فهي لها وكان لجدتها من مسئلتها ايضاً واحد نضربه
 في ثلاثة فيحصل لها ثلاثة ولها باعتبار كونها ام زينب ستة من اثنين
 وثلاثين فيكون لها حينئذ تسعة ثم ماتت الجدة قبل القسمة ايضاً عن زوج
 واخوين واذا كان لها تسعة وتصحيح مسئلتها اربعة وبينهما مباينة نضرب
 حينئذ اربعة في الاثنين والثلاثين فيحصل مائة وثمانية وعشرون وهي
 الجامعة للسائل اربعة وتكون هذه اربعة المضروبة للاثنين والثلاثين
 جزء السهم كما ان نصيبها وهو التسعة يكون جزء السهم لمسئلتها فمن كان له

نصيب من الاثني والثلاثين يضرب في جزء السهم وهو الاربعة ومن كان
 له نصيب من الاربعة في جزء السهم وهو التسعة وقد كان لامرأة من مات
 ثانياً وهو زوج الميت الاول سهمان من الاثني والثلاثين فاذا ضربناهما في
 جزء السهم اي الاربعة حصل لها ثمانية وكان لايه منها اربعة فاذا ضربناها
 في جزء السهم حصل له ستة عشر وكان لامه سهمان فاذا ضربناهما في جزء
 السهم حصل لها ثمانية وكان لكل واحد من ابني من مات ثالثاً وهي بنت
 الميت الاول ستة من الاثني والثلاثين فاذا ضربناها في جزء السهم حصل
 له اربعة وعشرون وكان لزوج من مات رابعاً وهو الجدة من الاربعة التي هي
 مسئلتها سهمان فاذا ضربناهما في جزء السهم لها وهو تسعة حصل ثمانية
 عشر فهي له وكان لكل واحد من اخويها من مسئلتها سهم فاذا ضربناه في
 جزء السهم حصل تسعة بعينه فلكل منهما تسعة وهذه صورة شبك ذلك

ن
ب
ا
م




ت	١٦								
زوج	٤								
بنت من زوج آخر	٩			٠.٩	ت				
ام	٣			٠.٣	جدة	١	٩	ت	
زوجة ١	١	٠.١				٢			٠.٠٨
ام ١	١	٠.١				٢			٠.٠٨
اب ٢	٢	٠.٢				٤			١٦
بنت ١			١	٣					١٢
ابن ٢			٢	٦					٢٤
ابن ٢			٢	٦					٢٤
زوج ٢	٢								١٨
قيق ١	١								٠.٩
قيق ١	١								٠.٩

كيف تقسيم التركة في المناسخات

تقسيمها في المناسخات سواء كانت عقاراً او دراهم بانقواعد المارة بان
تنظر في النسبة بين التركة والجامعة الاخيرة فان كانت الموافقة اخذت وفق
الجامعة او المبينة اخذت كلها وكيف اتفق ان كان ما اخذته نجل الى
اضلاع حلتته الى ذلك والا رسمته بعينه ثم تضرب نصيب كل وارث من

الجامعة في وفق التركة او في كلها على تقديري الموافقة والمباينة وحاصل
الضرب تقسمه على الاضلاع الموجودة ومعلوم ان هذا اذا كانت التركة
صحيحة والا بسطت الصحيح مع الكسرا والكسر فقط اذا كانت من محض
الكسور ولك وجه آخر في تقسيمها يسمى التقريط وهو يجري ايضاً في قسمة
التركات في غير المناسجات الا اننا اخترنا هناك اي في باب قسمة التركات
الوجه الاول لانه اشهر وكيفية التقريط ان تقسم الجامعة على ما فرض من
التركة وخارج القسمة هو قيراط للمسئلة ولو كانت التركة دراهم وهذا الخارج
تحله الى اضلاع ان امكن والا رسمته بعينه ثم تقسم نصيب كل وارث من
الجامعة عليه او على اضلاعه فما يخرج فهو نصيب ذلك الوارث
هات لي مثالا لما ذكرت


مثاله ما اذا مات زيد عن ابيه سعيد وامه حليلة وبنته فاطمة وسلي
وزوجته سعاد ثم مات الاب عن زوجته ام زيد حليلة وعن بنتي ابنة
فاطمة وسلي واخ شقيق هو سليم ثم ماتت زوجته حليلة عن بنتي ابنتها
فاطمة وسلي وعن امها زينب وعمها مصطفى ثم ماتت احدى بنتي الابن فاطمة
عن اختها الشقيقة سلى وامها سعاد وعن زوج هو مسعود وكان الميت الاول
قد ترك داراً فاصل مسئلة الاول من اربعة وعشرين وتعول الى سبعة
وعشرين للاب السدس اربعة ولللام السدس ايضاً اربعة وللبنتين الثلثان
سته عشر وللزوجة الثمن ثلاثة ومسئلة الميت الثاني من اربعة وعشرين بلا
عول للزوجة الثمن ثلاثة ولبنتي الابن الثلثان ستة عشر وللأخ الشقيق
الباقى بالتعصيب وهو خمسة وبين نصيب الميت الثاني من الاول وهو اربعة



Faint, illegible handwriting, possibly bleed-through from the reverse side of the page.

وبين مسئلته وهي اربعة وعشرون موافقة بالربع فنضع ربع نصيبه وهو
 واحد فوق اصل مسئلته ويكون جزء السهم لها ونضع وفق اصل مسئلته
 وذلك ستة فوق اصل المسئلة الاولى ويكون جزء السهم لها ثم نضرب هذا
 الوفق نعني الستة في المسئلة الاولى العائلة نعني السبعة والعشرين فيحصل مائة
 واثنان وستون وهي الجامعة الاولى ثم نضرب نصيب كل في جزء سهم اصل
 مسئلة ميته ومن له نصيب في الميتين اخذه من الجهتين وجمع ما تحصل له
 منهما ووضع المجموع تحت الجامعة واذ كان للام حليمة من المسئلة الاولى
 اربعة نضربها في ٦ جزء السهم لها فيحصل ٢٤ وكان لها ايضاً من زوجها
 معيد الميت الثاني ٣ نضربها في الواحد جزء سهم مسئلته فيحصل ٣ ونضمها
 الى ٢٤ الحاصلة لها من الاول فيكون لها ٢٧ وكان لكل واحدة من البنين
 من المسئلة الاولى ٨ نضربها في ٦ جزء السهم لها فيحصل ٤٨ وكذا لكل
 واحدة منهما من مسئلة الثاني نعني جدتها وقد صارت ابنتي ابن ٨ نضربها
 في الواحد جزء السهم لها فيحصل ٨ ونضمها الى ما تحصل من الاول وهو ٤٨
 فيكون لكل واحدة منهما ٥٦ وكان لزوجة الميت الاول من مسئلته ٣
 نضربها في جزء السهم لها فيحصل ١٨ وليس لها غيرها وكان للاخ الشقيق
 للميت الثاني من مسئلته ٥ نضربها في جزء سهمها فيحصل ٥ بعينها وبمجموع
 ما وجد من السهام يساوي الجامعة وذلك آية الصواب والمسئلة الثالثة اصلها
 من ستة لبنتي الابن الثلثان ٤ وللأم السدس واحد ولعم الباقي وهو واحد ايضاً
 وبين نصيب الميت الثالث نعني حليمة زوجة الميت الثاني وهو ٢٧ وبين اصل
 مسئلتها وهو ٦ الموافقة بالثلث فاخذنا وفق مسئلتها وهو ٢ وضرناه في الجامعة

وهو جزء السهم لها وضعناه فوقها وكان حاصل الضرب ٣٢٤ وهي الجامعة
الثانية وجزء السهم لاصل مسئلتها ثلث نصيبها وهو ٩ وضعناه فوقه ثم ضربنا
انصاء بنتي الابن من الجامعة الاولى في ٢ جزء سهمها وضربنا انصاءها
من المسئلة الثالثة في ٩ جزء سهمها وجمعنا الحواصل فكان لكل واحدة منهما
١٣٠ هي لها من الجامعة الثانية ثم ضربنا نصيب زوجة الميت الاول وهي سعاد
من الجامعة الاولى في ٢ جزء سهمها فكان الحاصل ٣٦ هي نصيبها من الجامعة
الثانية ثم ضربنا نصيب سليم شقيق الميت الثاني في ٢ جزء سهم الجامعة
الاولى فكان ١٠ هي حظه من الجامعة الثانية ثم ضربنا نصيب ام الميت الثالث
في ٩ جزء سهم مسئلته فكان الحاصل ٩ بعينها فهي لها من الجامعة الثانية
وكذا عم الميت الثالث ضربنا نصيبه من مسئلته في جزء سهمها فكان ٩
بعينها فهي له من الجامعة الثانية والمسئلة الرابعة اصلها من ٦ وتعول الى
ثمانية للاخت الشقيقة النصف ثلاثة وللأم الثلث ٢ وللزوج النصف ٣
وبين نصيب الميت الرابع وهو ١٣٠ وبين اصل مسئلته العائل وهو ٨
موافقة بالنصف فوضعنا وفق نصيبه وهو ٦٥ فوق مسئلته ويكون هو
جزء السهم لها ووضعنا وفق مسئلته اي نصفها وهو اربعة فوق الجامعة
الثانية ويكون هو جزء السهم لها وضربنا هذه الاربعة بهذه الجامعة فكان
١٢٩٦ وهي الجامعة الاخيرة ثم ضربنا نصيب بنت الابن من الجامعة
الثانية في ٤ جزء السهم لها وضربنا نصيبها من المسئلة الرابعة حيث انقلبت
فيها اخنا شقيقة في ٦٥ جزء سهمها وضممنا الحاصلين فكان المجموع
٧١٥ هي لها من الجامعة الثالثة وهي الاخيرة وضربنا نصيب سعاد زوجة الميت




الاول من الجامعة الثانية في ٤ جزء سهمها و ضربنا نصيبها من المسئلة الرابعة
 في ٦٥ جزء سهمها حيث انقلبت فيها اما لان الميت الرابع بنتها ثم ضمنا
 الحاصلين فكان المجموع ٢٧٤ هي لها من الجامعة الاخيرة ثم ضربنا نصيب سليم
 اخي الميت الثاني من الجامعة الثانية في ٤ جزء سهمها فكان الحاصل ٤٠
 وهي له من الجامعة الاخيرة ثم ضربنا نصيب زينب ام الميت الثالث من الجامعة
 الثانية في ٤ جزء سهمها فكان ٣٦ هي لها من الجامعة الاخيرة ثم ضربنا نصيب
 مصطفى عم الميت الثالث من الجامعة الثانية في ٤ جزء سهمها فكان ٣٦ وهي
 له من الجامعة الاخيرة ثم ضربنا نصيب مسعود زوج الميت الرابع من مسئلته
 في جزء سهمها وهو ٦٥ فكان ١٩٥ هي له من الجامعة الاخيرة وحينئذ لك في
 تقسيم التركة وهي ٢٤ قيراطاً وجهان الاول التقسيم باعتبار النسبة بين التركة
 ٢٤ وبين الجامعة الاخيرة وبالنظر في ذلك ترى انها الموافقة بالثلث فثلث
 ٢٤ هو ٨ وثلث الجامعة ٤٣٢ وهو ينحل الى اربعة اضلاع ٩ و ٦ و ٤ و ٢ ثم
 تضرب نصيب كل من الجامعة الاخيرة في ٨ وفق التركة وتقسم الحاصل على
 الاضلاع واذا كان للبنات الموجودة التي هي سلمى بنت الميت الاول و بنت ابن
 الميت الثاني و بنت ابن الميت الثالث وشقيقة الرابع ٧١٥ تضربها في ٨ وفق
 التركة فيحصل ٥٧٢٠ تقسم ذلك على الضلع الاول وهو ٢ فيخرج ٢٨٦٠ بلا
 كسر فتضع صفراً تحته وتقسم الخارج على الضلع الثاني وهو ٤ فيخرج ٧١٥
 بلا كسر فتضع صفراً تحته وتقسم الخارج على الضلع الثالث وهو ٦ فيخرج ١١٩
 ويبقى واحد كسراً تضعه تحته وتقسم الخارج على الضلع الرابع وهو ٩ فيخرج
 ١٣ ويبقى اثنان كسراً تضعهما تحته فيكون لها ثلاثة عشر قيراطاً وتسعا

القيراط وسدس تسع القيراط وكان لزوجة الميت الاول التي هي سعاد ام الميت
 الرابع ٢٧٤ تضربها في ٨ وفق التركة فيحصل ٢١٩٢ فتقسم ذلك على الضلع
 الاول فيخرج ١٠٩٦ بلا كسرفتضع تحته صفرًا ونقسم الخارج على الضلع
 الثاني وهو ٤. فيخرج ٢٧٤ بلا كسرفتضع تحته صفرًا ونقسم الخارج على
 الضلع الثالث فيخرج ٤٥ ويبقى اربعة كسرًا تضعها تحته ونقسم الخارج على
 الضلع الرابع فيخرج ٥ بلا كسرفتضع تحته صفرًا ويكون لها خمسة قراريط
 واربعة اسداس تسع القيراط وكان لسليم شقيق الميت الثاني ٤٠ تضربها
 في ٨ وفق التركة فيحصل ٣٢٠ فتقسم ذلك على الضلع الاول فيخرج ١٦٠
 بلا كسرفتضع تحته صفرًا ونقسم الخارج على الضلع الثاني فيخرج ٤٠ بلا
 كسرفتضع تحته صفرًا ونقسم الخارج على الضلع الثالث فيخرج ٦ ويبقى
 اربعة كسرًا تضعها تحته ونقسم الخارج على الضلع الرابع فلا ينقسم فيبقى
 كسرًا منه تضعه تحته فيكون له ستة اساع القيراط واربعة اسداس تسع
 القيراط وكان لزنب ام الميت الثالث ٣٦ تضربها في وفق التركة فيحصل
 ٢٨٨ تقسم ذلك على الضلع الاول فيخرج ١٤٤ بلا كسرفتضع تحته صفرًا
 ونقسم الخارج على الضلع الثاني فيخرج ٣٦ بلا كسرفتضع تحته صفرًا ونقسم
 الخارج على الضلع الثالث فيخرج ٦ بلا كسرفتضع تحته صفرًا ونقسم الخارج
 على الضلع الرابع فلا ينقسم فيبقى كسرًا منه فيكون لها ستة اساع القيراط
 ومثل ذلك لمصطفى عم الميت الثالث وكان لمسعود زوج الميت الرابع ١٩٥
 تضربها في وفق التركة فيحصل ١٥٦٠ تقسم ذلك على الضلع الاول فيخرج
 ٧٨٠ بلا كسرفتضع تحته صفرًا ونقسم الخارج على الضلع الثاني فيخرج ١٩٥

او الاضلاع بالوجه الاول على هذه الصورة

اضلاع وفق الجامعة						فيكون
٢	٤	٦	٩	٢٤	١٢٩٦	سدس تسع ط
٠	٠	١	٢	١٣	٠٧١٥	اسمى ثلاثة عشر قيراطاً وتسعا القيراط وسدس تسع القيراط
٠	٠	٤	٠	٠٥	٠٢٧٤	لسعا خمسة قواريط واربعة اسداس تسع القيراط
٠	٠	٤	٦	٠٠	٠٠٤٠	لسليم ستة اساع القيراط واربعة اسداس تسع القيراط
٠	٠	٠	٦	٠٠	٠٠٣٦	لزيب ستة اساع القيراط
٠	٠	٠	٦	٠٠	٠٠٣٦	لمصطفى ستة اساع القيراط
٠	٠	٣	٥	٠٣	٠١٩٥	لمسعود ثلاثة قواريط وخمسة اساع القيراط وثلاثة اسداس تسع القيراط
						٢٤ ٠ ٠

وهذا الذي ذكرناه في تقريط المسئلة من تقسيم الجامعة على ٢٤ مخرج القيراط وتحليل الخارج الى اضلاع ان امكن ذلك وتقسيم الانصبا على هذا الخارج فيما اذا كان الخارج صحيحاً وان كان فيه كسر نسبت هذا الكسر الى التركة فان كان ثلثاً ضربنا الجامعة في مخرجه وهو ثلاثة والحاصل قسمناه على المقسوم عليه فيخرج صحيحاً وان ربعاً ضربناها في مخرجه وهو اربعة وقسمنا الحاصل على المقسوم عليه فيخرج صحيحاً وهكذا كما اذا ماتت هند عن زوجها جميل وبناتها مريم وامها لطيفة ثم مات الزوج جميل عن زوجة هي سعدى واب هو درويش وام هي مية ثم ماتت البنت مريم عن جدتها لطيفة وابنين سعد وسعيد وبنت هي دعد ثم ماتت الجدة عن




زوج وهو عثمان واخوين لابوين هما رشيد وعارف وكان المتروك عن هند
بستاناً بهذه الصورة

الصحيح بعد الرد	١	١	١	١	١	١	١	١	١	١
نت	١٦	٤	١٦	٦	٣٢	٤	١٢٨	٢٤	٨	٢
جميل زوج	٤	ت								
مريم بنت من زوج اخر	٩	٩	ت							
لطيفة ام	٣	٣	جدة	١	٩	ت				
سعدى زوجة	١	١		٢				٠	٠	٠
درويش اب	٢	٢		٤				٠	٠	٠
ميه ام	١	١		٢				٠	٠	٠
سعد ابن	٦	٢		٦	٢			٠	٠	٠
سعيد ابن	٦	٢		٦	٢			٠	٠	٠
دعد بنت	٣	١		٣	١			٠	٠	٠
عثمان زوج	٢	٠		٢	٠			٠	٠	٠
رشيد فيق	١	٠		١	٠			٠	٠	٠
عارف فيق	١	٠		١	٠			٠	٠	٠

فاذا قسمنا الجامعة الاخيرة وهي ١٢٨ على ٢٤ مخرج القيراط خرج
٥ عدد صحيح وبقي ٨ كسراً فننسب الثمانية الى المقسوم عليه وهو ٢٤ فنجدها
ثلاثاً فنضرب مخرجه وهو ثلاثة في ١٢٨ الجامعة الاخيرة فيحصل ٣٨٤
تقسماً على ٢٤ اصل القيراط فيخرج ١٦ بلا كسر فنحلها الى ضلعها ٨ و ٢

ثم نجري باقي العمل لكن يلزم حينئذٍ قبل القسمة ان تضرب نصيب كل وارث من الجامعة في مخرج الثلث وهو الثلاثة المضروبة في الجامعة ثم نقسم حاصل الضرب على الاضلاع كما علمت غير مرة
 كيف نعرف ما لكل وارث من كل مسألة على حدتها ليستخرج ما يخصه من كل مورث

ذلك ان تضرب ما له من المسئلة الاولى او غيرها حسبما انت طالبه في جزء سهمها والحاصل في جزء سهم الجامعة التي تليها والحاصل في جزء سهم الجامعة التي بعدها وهكذا الى آخر الجوامع فحاصل الضربات كلها هو ما يخصه من تلك المسئلة وامتحان صحة ذلك ان تجمع المفصل فان ساوى مجموع ما له من الجامعة الاخيرة فقد صح والا فلا مثلاً مات زيد عن خمسة ابناء هم محمد واحمد وخالد وبكر وعمر وعن بنتين هما حنيفة وصديقة ثم مات محمد عن اخوته واخته ثم خالد عن الموجودين وعن زوجة هي منيفة ثم ماتت حنيفة عن اخوتها احمد وبكر وعمر واختها صديقة وعن زوج هو سليم والمتروك عن الاول دار وشبا كما بهذه الصورة




Faint, illegible handwritten text, possibly bleed-through from the reverse side of the page.

ط سبع ثمن خمس				خمس ثمن سبع ط			
				ما خص احمد من ابيه	٤	٠	٠
				ما خصه من اخيه محمد	٠	٥	٤
				ما خصه من اخيه خالد	٠	٦	٢
٠	٦	٠	٦	ما خصه من اخته حنيفة	٠	٢	٦
					٦	٠	٦
٠	٦	٠	٦	ومثل ذلك ما خص بكرًا من ذكر	٠	٠	٠
٠	٦	٠	٦	ومثل ذلك ما خص عمر من ذكر	٠	٠	٠
				ما خص صديقه من ابيها	٢	٠	٠
				من اخيها احمد	٠	٢	٦
				من اخيها خالد	٠	٣	١
٠	٣	٠	٣	من اختها حنيفة	٠	١	٣
					٣	٠	٣
١	٣	١	١	ما خص منيفة زوجة خالد منه	٠	٠	٠
٤	٧	٢	١	ما خص سليم زوج حنيفة منها	٠	٠	٠
٠	٠	٠	٣٤				

اسئلة في الباب

اقسم لنا هذه التركات في المناسخت الآتية

مات عن ابيه محمد وامه اسماء وبنته دمية وبنت ابنه سعاد وابن ابنه
برهان الدين ثم مات الاب عن زوجته اسماء وبنت ابنه دمية وبنت ابن
ابنه سعاد وابن ابنه برهان الدين وجدته هي ام امه اسمها زينب ثم
ماتت بنت الميت الاول دمية عن زوج وجدتها زينب ام ام اب ابيها





ثم ماتت سعاد بنت ابن الميت الاول عن الجدة زينب وعن ابنتي هما
 ابراهيم و خليل وكان المتروك عن الاول اثني عشر قيراطاً ونصف القيراط .
 ثم ماتت عن زوج هو مصطفى واخين لابوين هما مريم وفيهمه ثم مات الزوج
 مصطفى عن زوجة هي لبني وبنت هي لمياء ثم ماتت مريم عن زوج هو احمد
 واختها فيهمه وكان المتروك ثلاثة قراريط وثلاث ربيع ثمن القيراط . ثم ماتت عن
 ام واب وبنت ثم ماتت الام عن زوجها ابني الميت الاول وبنت بنتها ثم
 ماتت الاب عن زوجة وابن وبنتين ثم مات الابن زوجة واخيه وبنت
 وكان المتروك ثمانية عشر قيراطاً وثلاث القيراط وثلاثة اشباع ثلث القيراط
 وربع تسع ثلث القيراط

❖ اسئلة في مسائل الباب ❖

ما المناسخة . ما توضيح ذلك . ما هي كيفية العمل في المناسخات . ما
 مثال ذلك . كيف تقسيم التركة في المناسخات . هات لي مثلاً لما ذكرت
 كيف نعرف ما لكل وارث من كل مسألة على حدتها ليستخرج ما يخصه
 من كل وارث

❖ تنبيه ❖


قد عدل اليوم في سندات الطابو عن كسور القيراط كقولك ربعاً
 القيراط وسدساً ربه بالتعبير عن ذلك بالاسم كما يقال في الكسر الاصم
 ثلاثة عشر جزءاً من اربعة وعشرين جزءاً مثلاً فاذا كان الكسر المفروض

مفرداً فسمّ كمية صورته اسهماً من كمية مخزجه فتقول اربعة اسهم من تسعة
 اسهم من القيراط بدل ان تقول اربعة اتساع القيراط $\frac{4}{9}$ مثلاً واذا كان
 مركباً فابسطه بالقواعد المارة واطلب له المخزج المشترك (وهو الحاصل من
 ضرب المخارج بعضها في بعض) ثم سمّ كمية البسط اسهماً من كمية ذلك
 المخزج المشترك ففي المثال المتقدم $\frac{2}{3} \times \frac{2}{4} = \frac{4}{12}$ تبسط الكسر فيحصل $\frac{1}{3}$ ثم تأتي بالمخزج
 المشترك وذلك ٢٤ فتقول اربعة عشر سهماً من اربعة وعشرين سهماً بدل
 ان تقول ربعاً القيراط وسدساً ربعه فاحفظ

الخاتمة

في بيان ما ورد في قانون الاراضي الهايوفي من قاعدة الانتقال
 في الاراضي الاميرية والموقوفة

بما ان الانتقال في الاراضي الاميرية والموقوفة بالمعنى الآتي هو على
 غير ما مر من الاحكام الميراثية بالنظر لكون مثل هذه الاراضي منوطاً بسيدنا
 ومولانا الخليفة الاعظم امير المؤمنين نصره الله تعالى لان رقبته عائدة لبيت المال
 فله التخصيص فيها لمن شاء بما شاء حسبما يراه من المصلحة والتوريث اي الانتقال
 فيها بمقتضى ما تعلق به ارادته السنية شرعي وجب علينا تيمناً للمقصود ان
 نختم هذا الكتاب باصول الانتقالات وما يلحقها وما تستتبعه من الفوائد
 التي يندر الوقوف عليها في هذا الباب الواردة اي تلك الاصول في قانون
 توسيع الانتقال الذي صار علاوة على قانون الاراضي مستمدين في ايضاحات





ذلك من شرح هذا القانون المذكور للعلامة عاطف بك رئيس مجلس ادارة
 الاوقاف الهايوني ومعلم مجلة الاحكام العدلية وقانون الاراضي في المكتب
 الشاهاني الذي صار قبوله بعد التدقيق في الفتوى خانه العالية وفي هذه
 الخاتمة مقدمة وبابان وحيث اطلقنا لفظ المادة ينصرف الى احدي مواد
 قانون الاراضي وتوسيع الانتقال كما اذا اطلقنا لفظ الشرح ينصرف الى هذا
 الشرح المذكور

❖ المقدمة ❖

كم اقسام الاراضي التي في ممالك الدولة العلية وما هي
 هي خمسة الاراضي المملوكة والاراضي المتروكة والاراضي الموات
 والاراضي الاميرية والاراضي الموقوفة كما في المادة الاولى
 ما هي الاراضي المملوكة وكم انواعها
 هي المتصرف بها على وجه الملكية بسائر انواع تصرف الملك وانواعها
 اربعة الاول العرصات التي هي ضمن القرى والقصبات والاراضي التي هي
 في جوانبها المتبعة نعمة للسكنى وهي لم تتجاوز نصف دونم اي ثمانمائة ذراع
 والثاني الاراضي التي افرزت من الاراضي الاميرية وبناء على اللساغ
 الشرعي ملكت تملكاً صحيحاً على ان يتصرف فيها بانواع وجوه الملكية
 والثالث الاراضي العشرية وهي التي اقيت في ايدي اصحابها الذين اسلموا
 بالطوع والرضا قبل الفتح او التي وزعت وملكتم الى الغائبين حين الفتح
 والرابع الاراضي الخراجية وهي التي اقيت في ايدي المحليين الاصليين
 غير المسلمين واقروا عليها حين الفتح او التي تركها اصحابها غير المسلمين

وحجى، بخلافهم غير مسلمين ووزعت عليهم اما العشرية فيؤخذ من حاصلاتها
العشر والخراجية يؤخذ منها اما الخراج الموظف او خراج المقاسمة كما في المادة (٢)

ما هو الخراج الموظف

هو المقدار المعين من النقود بوجه المقطوعية على الاراضي الخراجية
كما في المادة (٢) ايضاً

ما هو خراج المقاسمة

هو ما تعين اخذه من حاصلات الاراضي على حسب تحمل المحل من
العشر الى النصف ولا يؤخذ من ارض خراج مقاسمة وموظف ولا يتبدل
احدهما بالآخر كما في المادة (٢) ايضاً

ما حكم الاراضي المملوكة

حكمها بسائر انواعها ان رقبته او ملكيتها عائدة لصاحبها وما لهما يتصرف
فيها كيف يشاء وتوارث عنه بمقتضى الشرع الشريف وتجري فيها احكام
الملك من وقف وهبة وبيع ورهن وشفعة لكنها اذا مات صاحبها بلا وارث ولا
ذي حق شرعي تعود الى بيت المال فتكتسب حينئذ حكم الاراضي الاميرية
كما في المادة (٢) ايضاً

ما هي الاراضي المتروكة

هي ما تركت لانتفاع عموم الناس كالطريق العام او خصصت لعموم
اهالي قرية او قسبة كالمعنى كما في المادة (٥)

ما الاراضي الموات

هي ما لم تكن بتصرف شخص ولم تخصص للاهالي وكانت في اقصى

[Faint, illegible handwriting, likely bleed-through from the reverse side of the page.]

العمران بعيدة نحو نصف ساعة بحيث لا يسمع منها صيحة جهير الصوت كما
في المادة (٦)

ما الاراضي الاميرية

هي التي رقبتهما عائدة لبيت المال كالمزارع والمروج والاحراش وامثالها
وتفوض الى الغير و يتصرف بها باذن مامور الطابور المفوض اليه هذا الخصوص
من طرف السلطنة السنية و يعطى بيد المتصرفين بها سند الطابور المتوج
اعلاه بالطغرة الهايونية كما في المادة (٣)

ما الاراضي الموقوفة

هي على قسمين الاول الاراضي التي كانت مملوكة بملك صحيح ووقفت
على مقتضى الشرع الشريف فرقبتهما عائدة الى الوقف وجميع حقوق التصرف
بها راجعة الى جانب الوقف ولا تدخل في المعاملات القانونية بل يرعى فيها
شرط الواقف على ما هو مذکور في الكتب الفقهية والثاني الاراضي المفزة
من الاراضي الاميرية ووقفها حضرات السلاطين العظام او وقفها اخرون
بالذات بالاذن السلطاني ووقفية مثل هذا القسم عبارة عن تخصيص منافعها
الاميرية كاعشارها ورسوماتها الى جهة من الجهات من طرف السلطنة السنية
وبما ان رقبة مثل هذه الاراضي الموقوفة هي عائدة الى بيت المال كالاراضي
الاميرية الصرفة فانه يجري بحقها المعاملات القانونية من الانتقال وغيره
كما في المادة (٤) وحيث اطلقت الاراضي الموقوفة ههنا اريد بها هذا
القسم الثاني

ما حكم الاراضي الاميرية والموقوفة

حكمها انها لا تجري فيها احكام الاملاك كالوقف والرهن والبيع والهبة
والشفعة ولا تكون بوفاة المتصرف مورثة لورثته ولا يقضي منها دينه ولا تنفذ
منها وصيته ولكن تيسيراً للمصلحة الناس حصلت المساعدة القانونية بوضع
مقابلات لما ذكر فالبيع قوبل بالفراغ مع البدل والهبة بالفراغ مجاناً والرهن
بالفراغ بالوفا والشفعة بحق الطلب للشريك والخليط والارث بالانتقال
العادي والوقف في الاراضي الاميرية خاصة بالارصاد كما في الشرح

ما الطابو

هو لفظ تركي معناه الطاعة والانقياد وفي اصطلاح القانون هو المعجلة
التي تؤخذ في مقابلة حق التصرف اي ما يؤخذ من الدراهم معجلاً للجانب
الميري من نفوض اليه الاراضي بمقابلة حق التصرف كالزرع والغرس والبناء

ما هو طابو المثل

هو ما يقدره اهل الخبرة والوقوف بلا غرض

ما هو حق الطابو

هو حق النفوض بالاراضي الاميرية والموقوفة بطابو المثل


ما هو صاحب حق الطابو


هو المالك لحق ان نفوض اليه الاراضي الاميرية والموقوفة بطابو المثل
وبالجملية هو الذي له حق انتقال تلك الاراضي اليه بطابو المثل ممن عينهم

القانون بعد اصحاب الانتقال

ما هو حق الانتقال

هو حق انتقال تلك الاراضي لمن عينهم القانون من ورثة المتوفى





— ❖ — الباب الاول ❖ —

لمن تعطى الاراضي الاميرية والموقوفة اذا مات المتصرف بها
ان الاراضي المذكورة اذا مات المتصرف بها تنتقل الى اصحاب حق
الانتقال من ورثته واذا لم يكن واحد منهم فلاصحاب حق الطابو واذا
لم يكن واحد منهم او كان ولكن امتنع عن اخذها بطابو المثل تصير تلك
الاراضي محلولة صرفاً وتطرح للمزايدة وتفوض من طرف المأمور المعين بهذا
الخصوص من طرف الدولة العلية لمن تلزمه بالمزايدة والفرق بين الارض
التي هي مستحق الطابو والارض المحلولة ان الاولى تعطى لمن يستحقها من
اصحاب حق الطابو بطابو المثل ولا تقبل عليه زيادة اصلاً بخلاف الثانية
فانها لا تعطى الا بعد انتهاء المزايدة


من هم اصحاب الانتقال

هم على ثمان درجات الاولى ولد المتوفى فمن انفرد من ولده ذكراً كان
او انثى استقل بانتقال جميع ذلك اليه واذا تعدد ولده من الذكور او الاناث
او منهما مختلطين انتقل ذلك اليهم مشتركاً فيما بينهم على عدد رؤوسهم
ذكورهم واناثهم في الاستحقاق والقسمة سواء لا افضلية لذكر على انثى منهم
كما اذا مات عن ابن وبنين فمسئلتهم ثلاثة اسهم بعدد رؤوسهم للابن
سهم واحد ولكل بنت سهم الدرجة الثانية احفاد المتوفى نعني اولاد ابن
المتوفى واولاد بنته اذ المراد بالحفيد ههنا ما يعم السبط اي ولد البنت سواء
كانت الاحفاد ذكراً او اناثاً او مختلطين اتفقت صفة اصولهم كالولاد

الابناء فقط واولاد البنات فقط او اخنلفت كاولاد ابناؤه وبناته معاً وهؤلاء
 ايضاً كاولاد في ان من انفرد استقل بالانتقال اليه واذا تعددوا اشتركوا
 على التساوي بلا مزية لذكر على انثى الدرجة الثالثة الابوان فمن انفرد
 منهما استقل بالانتقال اليه واذا اجتمعا كانت تلك الاراضي بينهما مناصفة
 بلا تفاوت بينهما الدرجة الرابعة الاخ لا بوين ولا ب فقط بلا فرق بينهما
 عند الاجتماع نعي انه اذا انفرد الاخ لا بوين استقل بالانتقال واذا تعدد
 اثنين فاكثر اقتسموا ذلك بعدد رؤوسهم واذا انفرد الاخ لا ب فقط استقل
 بذلك والا اقتسموه بعدد رؤوسهم واذا اجتمع اخ او اخوة لا بوين مع اخ
 او اخوة لا ب فقط لم يتغير الحكم بل هم كأنهم كلهم لا بوين او لا ب بلا
 مزية لمن كان لا بوين على من كان لا ب فقط الدرجة الخامسة الاخت
 لا بوين والاخت لا ب فقط بلا ترجيح لمن كانت لا بوين على من كانت لا ب
 بل هن متساويات كما هو الحال في اصحاب الدرجة الرابعة الدرجة السادسة
 الاخ لا ب فقط يستقل بالانتقال عند الانفراد واذا تعدد اشتركوا مع التساوي
 الدرجة السابعة الاخت لا ب فقط وهذه ايضاً عند انفرادها تستقل بالانتقال
 واذا تعددت اشتركن مع التساوي الدرجة الثامنة الزوج والزوجة كما في
 المادة الاولى من قانون توسيع الانتقال في الاراضي الاميرية والموقوفة

هل لا واولاد الاخوة والاخت حق الانتقال ام لا

ليس لهم ذلك لان حق الانتقال مخصوص باصحاب هذه الدرجات
 الثمانية المذكورين وحاصله انه لا يستحق الانتقال من الاولاد الا اولاد
 المتوفي واولاد اولاده اي الاحفاد فحسب بدون تسفل لمن تحتهم فلا



Handwritten text, likely bleed-through from the reverse side of the page. The text is extremely faint and illegible due to the quality of the scan and the nature of the bleed-through.

يستحق الانتقال اولاد الاحفاد واولاد الاخوة والاخوات من اي جهة كانوا او كن كما ان الانتقال مخصوص بالابوين دون ابويهما فما فوق اي لاحق في الانتقال للاجداد والجدات مطلقاً كما اوضحه في الشرح

هل من حجب في هذا الباب

نعم لان من ذكرنا من اصحاب الانتقال مرتبون على تلك الدرجات الثمانية فالدرجة الثانية محجوبة بالاولى والثالثة بالثانية وهكذا فما دام في المسئلة اولاد لاشيء للاحفاد وما دام احفاد لاشيء للابوين وهكذا فهم الولد فالحفيد فالابوان فالاخ لابوين ولاب فالاخت كذلك فالاخ لام فالاخت كذلك فالزوجان فقط لا غير الا انه يستثنى من ذلك صورتان الاولى ان الاحفاد انما يسقطون بالاولاد اذا كان اصل ذلك الحفيد نعتي اياه او امه موجوداً كما اذا مات زيد عن ابنه سعيد وعن ابنه ظهير وعن اسعد ومسعود ابني ابنه ظهير وترك ارضاً ميرية فانما تنتقل هذه الارض الى سعيد وظهير مناصفة بينهما ولا شيء لاسعد ومسعود ابني ظهير من جدتها زيد لسقوطها بالولد اما اذا مات اصل الحفيد اي ابوه او امه في حياة ابيه اي اب اصل الحفيد او امه اللذين هما جد وجدة الحفيد فحينئذ لا يسقط الحفيد بل له حق الانتقال مع اولاد المتوفي لكن لا يساوي الاولاد بل يستحق ما كان اصله يستحقه ان لو كان حياً كما اذا مات خالد عن ابنه ظافر وناصر وعن سليم ابن ابنه احمد الذي كان توفي في حياته وعن خديجه وفاطمة بنتي بنته زينب التي كانت توفيت في حياته فهنا للمتوفي ولدان وهما ظافر وناصر وحفيد وهو سليم وحفيدتان وهما خديجه وفاطمة فلا يسقط الحفيد سليم

بالولدين ظافر وناصر لكون ابيه وهو احمد توفي في حياة ابيه وهو خالد وكذا
 الحفيدتان خديجة وفاطمة لا تسقطان بالولد لكون امهما وهي زينب توفيت
 في حياة ابيها خالد ولا يساوون اي الاحفاد هنا الولدين ظافراً وناصراً بان
 تعتبر مسئلتهم اجمالاً بعدد رؤوسهم بل ياخذ الحفيد حصة ابيه التي كان
 يستحقها ان لو كان حياً فيعتبر كأن الميت وهو خالد مات عن ابنه ظافر
 وناصر وعن ابنته احمد اب سليم وعن بنته زينب ام خديجة وفاطمة فتعتبر
 المسئلة ارباعاً فيعطى لكل واحد من ظافر وناصر سهم من اربعة اسهم اي
 ربع وتعطى حصة احمد المتوفى لابنه سليم حفيد خالد وهي سهم من اربعة
 ايضاً وتعطى حصة زينب المتوفاة لبنتها فاطمة وخديجة وهي ايضاً سهم من
 اربعة مضافة بينهما لكن سهمهما منكسر عليهما فيضرب الاثنان عدد
 رؤوسهما في اصل المسئلة وهو اربعة فيكون لكل واحد من ظافر وناصر
 اثنان وسليم ايضاً اثنان حصة ابيه احمد ويبقى اثنان تقسمها على خديجة وفاطمة
 فيخرج لكل واحدة سهم واحد من ثمانية وكذا لو مات مصطفى عن ابنين وبنت
 لصلبه وعن ابن وبنت لابن له متوفى في حياته وعن بنتين وابن لبنت له متوفاة في
 حياته ايضاً وترك اراضي ميرية فهنا وان يكن اولاده الثلاثة الابن والبنت
 باحفاده الخمسة ثمانية مجموعهم ينالون حق الانتقال ولكن الاحفاد لا يساوون
 الاولاد اي لا يأخذ كل واحد منهم مثل ما يأخذ واحد الاولاد الصلبية بل ينقل
 اليهم السهم الذي كان يستحق ان يأخذه ابوهم وامهم على تقدير حياتهما فبناء
 عليه لو كان ابن الميت وبنته المتوفيان في حياته موجودين لكانا مع الاولاد
 الثلاثة الموجودين خمسة رؤوس فنعتبر الارض المتروكة خمسة اسهم لكل

Faint, illegible handwriting, possibly bleed-through from the reverse side of the page.


و
لا
أ
ت


Handwritten text in Arabic script, consisting of approximately 20 lines. The text is extremely faint and illegible due to fading or bleed-through from the reverse side of the page.

واحد منهم سهم ويعطى من توفى في حياة الميت الى ولده فيعطى هنا ثلاثة اسهم
 لابني و بنت الميت مصطفى ويعطى سهم لابن و بنت الابن المتوفى في حياة
 ابيه مصطفى وكذا يعطى سهم لبنتي وابن البنت المتوفاة في حياة ابهما مصطفى
 لكن سهام الاحفاد منكسرة على رؤسهم ومباينة لها وبين رؤسهم ايضاً
 مباينة اذ الفريق الاول من الاحفاد رأسان ابن و بنت والفريق الثاني ثلاثة
 رؤس بنتان وابن فنضرب عددي رؤس الفريقين بعضهما ببعض فيحصل
 ستة نضربها في الخمسة اتى اعتبرت اصلاً للسئلة فيحصل ثلاثون ومنها تصح
 السهام اذ كان للاولاد الصلية ثلاثة نضربها في الستة المضروبة في الخمسة
 حيث اعتبرت اي الستة جزء السهم فيحصل ثمانية عشر لكل واحد منهم ستة بلا
 تفرقة بين ذكر وانثى واذ كان للفريق الاول من الاحفاد سهم واحد نضربه
 في الستة فيحصل نعينها لكل واحد من الابن والبنت ثلاثة بلا تفرقة ايضاً
 وكان للفريق الثاني منهم ايضاً سهم واحد نضربه في الستة فيحصل بعينها
 لكل واحد من البنين والابن اثنان بلا تفرقة ايضاً وعلى هذا القياس
 الصورة الثانية من الصورتين المستثنيتين ان الزوجين انما يسقطان باصحاب
 الدرجة الاولى والثانية نعي الاولاد والاحفاد فقط واما اذا لم يوجد واحد
 من اصحاب الاولى والثانية فلهما الربع مع البواقي اي مع اصحاب الدرجة
 الثالثة والرابعة والخامسة والسادسة والسابعة مثلاً لو مات زيد عن ولد ذكر
 او انثى او عن حفيد كذلك وعن زوجة كانت الاراضي المتروكة لمن وجد
 من الاولاد او الاحفاد واما لو مات عن اب وزوجة كان للزوجة الربع
 والباقي للاب وكذا الحكم لو كان بدل الاب ام او اخ لابوين او لاب او اخت

لابوين او لاب او اخ لام او اخت لام ولومات عن زوجة فقط كانت تلك الاراضي كلها لها حيث لم يكن غيرها من اصحاب الانتقال ولومات عن اخ لام وعم او ابن عم او جد او جدة او ابن اخ لابوين او لاب كانت الاراضي كلها للاخ لام ولا شيء لمن ذكر معه لانهم ليسوا من اصحاب الانتقال ولومات عن زوجة واخ لابوين واخ لاب واخت لابوين كان للزوجة الربع والباقي للاخ لابوين والاخ لاب مناصفة بينهما ولا شيء للاخت هنا لانها من اصحاب الدرجة الخامسة فتسقط مع اصحاب الدرجة الرابعة وهما الاخوان لكن ذلك الباقي وهو ثلاثة ارباع منكسر على الاخوين ومباين لعدد راسيهما فيضرب عدد الرؤس وهو اثنان في الاربعة مخرج الربع فتحصل ثمانية للزوجة منها اثنان ولكل من الاخوين ثلاثة

ما الحكم في حق الانتقال اذا مات احد الزوجين في عدة الطلاق الحكم في ذلك كما هو الحكم الشرعي في ميراث غير الاراضي الاميرية والموقوفة فغير المدخول بها اذا مات او مات عنها زوجها ولم يكن في البين طلاق ترثه ويرثها واما اذا مات احدهما بعد الطلاق فانما يتوارثان بثلاثة شروط الاول كون الطلاق رجعياً والثاني كونها مدخولاً بها والثالث ان تكون الوفاة قبل انقضاء العدة فاذا حصلت هذه الشروط الثلاثة فايهما مات ورثه الآخر واذا فقد احد هذه الشروط المذكورة لا يتوارثان كما اذا كان الطلاق ثلاثاً او بائناً والعدة باقية وهي مدخول بها فلا يتوارثان والحالة هذه الا ان يكون ذلك في حال مرضه الذي مات فيه بغير رضاها و بطوعه فترثه هي ولا يرثها هو وهذا هو طلاق الفار واما في الطلاق الثلاث او





البائن في حال صحته او برضاها فعلى الاصل لا توارث بينهما حينئذ وكما
 اذا كان موت احدهما بعد انقضاء العدة وكما اذا كانت غير مدخول بها فلا
 توارث ايضاً بينهما وحاصله ان حق الانتقال في الاراضي الاميرية والموقوفة
 بعد التطبيق راجع الى الحكم الشرعي فاذا كانت ترث في هذا الباب شرعاً
 يكون لها حق الانتقال من زوجها واذا كان هو يرث ايضاً شرعاً يكون له
 حق الانتقال من زوجته كما هو منطوق التذكرة السنية التي تعلق بموجبها
 ارادة مولانا امير المؤمنين نصره الله المدرجة في الصحيفة (٣٧٣) من المجلد
 الرابع من الدستور الهمايوني

ما الحكم لو كان بعض اولاد المتوفى حاضراً والبعض الآخر مفقوداً
 وغائباً غيبة منقطعة

الحكم ان تعطى اراضي المتوفى الى الموجود الحاضر من اولاده فاذا ظهر
 الغائب او تحقق كونه حياً في مدة ثلاث سنين اخذ حصته وكذا الحكم بهذا
 الوجه في حق الابوين كما في المادة (٥٦)


وبالجملة اذا فقد احد من اصحاب حق الانتقال اعطيت الاراضي
 الموجود الحاضر من ذوي درجته منهم كما في شرح هذه المادة من الشرح
 واذا ظهر في المدة المذكورة اخذ حصته وبعد مضيها لا ببق له حق الطلب
 والدعوى في ذلك كما في المادة (٧٥) والمدة المذكورة تعتبر من تاريخ وفاة
 المتوفى كما في المادة المذكورة ايضاً


قلت وهل القول للغائب في عدم مضي المدة الظاهر نعم لان الموجودين
 يدعون عليه حرمانه من حق الانتقال وهو ينكره نظيره ما سبق في مقدمة

الكتاب من ان القول للزوجة مع اليمين في انه مات قبل انقضاء العدة من الرجعي قالوا لانها تنكر اسقاط ارثها كما في البحر وغيره

ولو كان من لهم حق الانتقال من ورثة المتوفى جميعهم غائبين غيبة منقطعة لم تعلم حياتهم فيها ولا مماتهم صارت تلك الاراضي مستحقة الطابو ولم صلاحية الطلب والدعوى اذا ظهروا الى ثلاث سنين وبعدها لا تسمع دعواهم كما في المادة (٧٥) ايضاً

قلت وبه يعلم انه اذا فقدت اهل درجة من اصحاب الانتقال وكانوا غائبين غيبة منقطعة جهلت بها حياتهم ومماتهم لا حق لمن بعدهم من اهل الدرجات الثمانية في الاراضي المتروكة عن المتوفى بل تصير مستحقة الطابو لكن لو كان المفقودون كلهم من اهل الدرجة الرابعة مثلاً وكان احد الزوجين موجوداً فهل تعطى تلك الاراضي للموجود وهو احد الزوجين قياساً على مادة ما اذا كان بعض اصحاب الانتقال موجوداً وحاضراً والبعض الآخر مفقوداً وغائباً غيبة منقطعة كما تقدم بمقتضى المادة (٥٦) او يأخذ احد الزوجين حصته وهي الربع لعدم موجب لسقوط حقه والباقي يكون مستحق الطابو حيث فقد اهل الدرجة كلهم كما هو مقتضى المادة (٧٥) فتعتبر مفقوديتهم في جانب ذلك الباقي واحد الزوجين وان استحق الربع لكنه ليس من درجة الغائب حتى يعتبر الموجود فيها من اهلها حتى تنتقل اليه بحسب المادة (٥٦) بدليل انه لا يقاسم الغائب لو كان حاضراً بل يبرز الربع فقط ولو صح الحاقه لاستحقاقه الربع بدرجة الغائب وقد قلنا ان لاحق اذا فقد جميع اهل درجته لمن بعدهم للزم تقديم درجة متأخرة على متقدمة





فما لو كان الماء قود اهل الدرجة الرابعة مع وجود بعض من الخامسة او السادسة
او السابعة وذا غير جائز وليحزر

ما الحكم في اراضي من غاب ولم تعلم حياته ولا ممانته
من غاب ثلاث سنين غيبة منقطعة لم تعلم فيها حياته ولا ممانته تنتقل
الاراضي التي كان متصرفاً بها الى اولاده واذا لم يكن له اولاد فلا يبيها واذا لم
يكن له اب فلا ممانته واذا لم يكن احد المذكورين تصير تلك الاراضي مستحقة
الطابو كذا في المادة (٥٧)

لكن ذكر في الشرح ان حكم هذه المادة الدالة على انحصار اصحاب
الانتقال بالثلاثة المذكورين منفسخ بقانون توسيع الانتقال وان هذه المادة
تعديت بان الاراضي المذكورة تنتقل لمن يوجد من اصحاب الانتقال المعبرين
في الدرجات الثمانية وعليه اذا لم يكن احد منهم تصير الاراضي مستحقة الطابو
فتعطي لاصحاب حق الطابو الآتي بيانهم بطابو المثل واذا لم يكن احد
منهم تفوض بالمزايدة لطالبها

ما الحكم فيما هو بعيد مدة سفر وحياته معلومة وترك ما انتقل اليه من
الاراضي ولم يحضر ليتصرف بها بالذات ولم يقيم وكيلاً عنه في ذلك
الحكم فيه انه اذا تركها معطلة مدة ثلاث سنين متوالية بلا عذر
صحح تصير مستحقة الطابو كما في المادة «٧٤»

ما الحكم فيما كان من العساكر الشاهانية في ديار اخرى في الخدمة
العسكرية بالفعل


ان من كان من العساكر الشاهانية في الخدمة العسكرية بالفعل ولو


كان غائباً غيبة منقطعة لا يعامل معاملة المفقود في الاراضي الاميرية بل تنتقل اليه اراضي مورثه او حصته منها ان كان من اصحاب حق الانتقال وما لم يتحقق موته حقيقة او حكماً لا نفوض حصته او الاراضي المنتقلة اليه الى احد ولو فرط تفويضها الى شخص فمتى ظهر من دون تحديد في المدة له صلاحية التصرف بها وضبطها من اي شخص وجدت في يده وانها وان كانت لا تفوض الى احد لكن صيانة لحقوق الاراضي تعطى لاقربائه وامثالهم ممن في حفظهم بقية امواله واشيائه والا فلشخص آخر لتزرع وتستوفي حقوقها كما في المادة (٥٨)

والاراضي التي له ابتداء سواء كانت في يد مستأجر او مستعير او تركت على حالها معطلة فما لم يتبين موته لا تكون مستحقة الطابو بل بتكميله مدة الخدمة وعودته الى الوطن ياخذها ممن يجدها في يده كما في المادة (٨٣) قال في الشرح ولو نقلتها ايدي كثيرة ولو مضى على ذلك اكثر من عشرين سنين اذ مرورها في اثناء الخدمة العسكرية لا يكون فيما بعد مانعاً من سماع الدعوى بها ولكن لو مضت العشر سنين بلا عذر بعد تكميل الخدمة العسكرية والعودة الى الوطن لا تسمع دعوى استردادها من ذي اليد واذا مات صاحبها وهو في الخدمة العسكرية تكون دعوى حق انتقالها لورثته اه قلت ولسماع دعوى ورثته ان لا يمضي عشر سنين من وفاته والا فلا

كيف الحكم في حق الحمل في الاراضي الاميرية والموقوفة

اذا توفي من في تصرفه تلك الاراضي وثمة حمل له حق الانتقال اذا ولد بالاوصاف المعبرة شرعاً توقف تلك الاراضي الى وقت ظهوره كما في





المادة ٥٤ المعدلة بقانون توسيع الانتقال فلومات عن زوجة واخ لام وحمل من امرأة ابيه فالحمل اما اخ او اخت المتوفي من ابيه وبأيهما كان لاحق للاخ لام في الانتقال وللزوجة الربع كيف اتفق فتوقف الاراضي لحين ظهوره فان ظهر كله او اكثره حياً نال ثلاثة ارباع الاراضي والباقي للزوجة وان ميتاً نال الثلاثة ارباع واذا ظهر توأمًا ذكرًا وانثى استبد الذكر بالثلاثة ارباع لان الانثى تكون اخناً لاب وهي متأخرة بالدرجة عن الاخ لاب وان ظهر ذكرين او اثنتين اشتركا او اشتركتا فيها

الباب الثاني

من هم اصحاب حق الطابو


ثلاثة الاول اذا مات المتصرف بالاراضي الاميرية والموقوفة بالمعنى المخصوص ولم يكن احد من اصحاب الانتقال وكان له ملك اشجار او ابنية في تلك الاراضي فتعطى والحالة هذه الاراضي المذكورة بطابو المثل الى ورثته الذين تنقل اليهم الاشجار والابنية بالارث الشرعي (بالتساوي وبدون نظر الى حصصهم الميراثية كما نص عليه في الشرح) ولهم صلاحية الطلب والدعوى الى عشر سنين (ابتداؤها من تاريخ وفاة المتوفي كما في المادة «٦١») والثاني اذا مات ولم يكن له ورثة اصلاً فتعطى حينئذ تلك الاراضي بطابو المثل للشركاء والخلائاء (بالتساوي ولا يقدم الشريك على الخليط كما هو الحال في الشفعة كما ذكره في الشرح) ولهم صلاحية الدعوى الى خمس سنين والثالث اذا لم يكن من ذكر تعطى بطابو المثل الى من هم


باحتياج وضرورة اليها من اهالي المحل الذي وجدت فيه ولهم صلاحية
الطلب والدعوى الى سنة واحدة على ما هو مدرج في المادة (٥٩) التي
تعديل بالصورة التي ذكرناها

كيف الحكم فيما لو تفرغ شخص بما في تصرفه من الاراضي
الاميرية والموقوفة بلا اذن مأمور الطابو

ان المتصرف بالاراضي المذكورة بموجب سند الطابو ليس له ان يتفرغ
بها لا آخر مجاناً او مع تسمية بدل معلوم الا باذن مأمور الطابو فلو تفرغ بها
بلا اذنه لا يزول عنه حق التصرف ويسترد منه ما اخذ من المفروغ له اليه حتى
لومات المتفرغ وكان له ورثة من اصحاب الانتقال تنتقل اليهم تلك الاراضي
ويأخذ المفروغ له البديل الذي كان دفعه للمتفرغ من تركته وكذا ورثة
المفروغ له لو كان قد مات لهم استرداد ذلك البديل من تركته المتفرغ واذا لم
يكن احد من اصحاب الانتقال تصير تلك الاراضي مستحقة الطابو كما في
المادة (٣٦) وشرحها من الشرح نعم لو لحق ذلك الفراغ اذن المأمور
واجازته يصير صحيحاً ومعتبراً الا انه يلزم وجود شرائط الاجازة (انظر
المادة (٤٤٧) من المجلة العديلة) ومن ثم لا تعتبر الاجازة بعد وفاة احدها
نعني المتفرغ والمفروغ له

كيف الحكم فيما لو تفرغ شخص بارضه الاميرية الى آخر مجاناً فهل
لورثته بعد وفاته صلاحية الادعاء بطلب البديل ام لا
ان من تفرغ بارضه الميرية الى آخر مجاناً اي بلا تسمية بدل كما انه
بعد فراغه المذكور لا تكون له صلاحية الادعاء بطلب البديل ليس لورثته





ايضاً بعد وفاته تلك الصلاحية كما في المادة «٣٨» نعم لو تفرغ بها لآخر
 على ان يعطيه بدلاً معلوماً ولم يعطه فلمن تفرغ ولمن لهم حق الانتقال من
 ورثته اذا توفى صلاحية استردادها من المفروغ له او ممن لهم حق الانتقال
 من ورثته اذا توفى كما في المادة المذكورة ايضاً

ما الحكم في فراغ الصغير والمجنون والمعتوه

ان فراغ من ذكرت ومثلهم من كانت بهذه الاوصاف من الاناث
 الى آخر غير معتبر ولم بعد البلوغ والقدرة على التصرف الى عشر سنين
 صلاحية استرداد الاراضي التي كانوا تفرغوا بها قبلاً من ذي اليد بمعرفة
 مامور الطابو ولو مات احد هم بعد الفراغ وقبل البلوغ والافاقه فتلك الاراضي
 تنتقل الى من له حق الانتقال من الورثة كما في المادة (٥٠)

لمن حق الطلب

ان حق الطلب الذي هو في مقام الشفعة للشريك والحليط

من هو الشريك

هو من له حصة شائعة في الاراضي

من هو الحليط

هو المشارك في حقوق الاراضي كالشرب والطريق

كم مدة حق الطلب

مدته خمس سنين فلو تفرغ شخص مجاناً او يبدل معلوم بحصته من

الاراضي المشتركة بدون اذن الشريك والحليط كان هذا الفراغ غير معتبر


نعني غير نافذ في حق الشريك والحليط ولهما حق الطلب وصلاحية خذ


تلك الحصة ببديل المثل (الذي يكون حين الطلب) الى مدة خمس سنين
وبعد مرور ذلك ولو باعذار صحيحة كالصغر والجنون يسقط حق الطلب
كما في المادة (٤١) ولومات الخليط والثريك في اثناء المدة المذكورة
فلن له حق الانتقال من ورثته صلاحية اخذ تلك الحصة (الى خمس سنين
من الوفاة) من المفروغ له او ممن لهم حق الانتقال من ورثته لو مات ببديل
المثل (حين الطلب) كما في الفقرة النظامية التي جعلت ذيلاً للمادة المذكورة
اين ترى دعاوى التي تتكون في الاراضي الاميرية والموقوفة

ان الاراضي والمسقفات والمستغلات الموقوفة من القسم الاول نعني التي هي
من الاوقاف الصحيحة ترى دعاويها وسائر خصوصياتها بمعرفة المتولى في المحاكم
الشرعية واما التي هي من القسم الثاني وكذا الاراضي الاميرية والمتروكة
والموات فترى دعاويها والمنازعات فيها في المحاكم النظامية بمقتضى ارادة
مولانا امير المؤمنين نصره الله المبلغة مع التذكرة السامية في تاريخ ٢١ رمضان
سنة ١٢٩٦

كم مدة مرور الزمان في الاراضي الاميرية والموقوفة

ان مدة مرور الزمان في الاراضي المذكورة عشر سنين وحينئذ
فلا تسمع دعوى حق التصرف المتروكة عشر سنين بلا عذر من الاعذار
الشرعية المرعية كالصغر والجنون والكون في ديار بعيدة مدة سفر شرعي
وكذا بمرورها بعد زوال الاعذار المذكورة كما في المادة (٢٠) بخلاف
الاراضي الخالية والمحمولة التي فوضت من طرف الدولة العلية ايدها الله الى
المهاجرين وحدثوا فيها زرعاً وابنية فان مدة مرور الزمان في حقها سنتان





وبعد مرور السنتين على التصرف لا تسمع فيها دعوى مع عدم العذر كما
هو منطوق ارادة مولانا امير المومنين نصره الله السنية الصادرة في تاريخ ١١
جمادى الاولى سنة ١٣٠٥ وفي كانون اول سنة ١٣٠٣

هل يوجد مانع من حق الانتقال وكذا حق الطابو في الاراضي
الاميرية والموقوفة كموانع الارث شرعاً

نعم ان القائل الممنوع شرعاً ومعين القائل كما في المادة «١٠٨» وذيلها
والمختلفين ديناً أي اسلاماً وما سواه كما في المادة (١٠٩) والرفيق كما هو مضمون
الفقرة الاخيرة من المادة (١١٢) هم ممنوعون من حق الانتقال والطابو ايضاً
واما اختلاف التبعية الدولية فمن هو من التبعة الاجنبية ليس له حق الانتقال
والطابو ايضاً ممن هو من تبعة الدولة العلية واما العكس نعي ان من هو من
تبعة الدولة العلية هل له حق الانتقال والطابو ممن هو من التبعة الاجنبية
فبمقتضى قرار شوري الدولة العلية انه له حق الانتقال والطابو بخلاف الارث
في الاملاك فان اختلاف المنعة مطلقاً مانع منه وهذا آخر ما تيسر التوفيق
الى جمعه وتحريره في هذا الكتاب المستطاب واني اتوسل اليه تعالى بجاه
نبيه الحبيب الاعظم سيدنا ومولانا وقره اعيننا ابي القاسم محمد صلى الله
تعالى عليه وعلى آله وصحبه وسلم واسأله كما سأله اولاً ان يثبني على ذلك
بالوفاة على الايمان وان يجبرني واخواني المسلمين من عذاب القبر واليران وان
يجعل خيرا يامنا واسعدنا يوم لقاءه ويجعلنا عند الموت ناطقين بالشهادة عالمين
بها وان يروّف بنا رافة الحبيب بحبيبه عند الشدائد ونزولها وان يحشرنني
في زمرة المسلمين تحت لواء سيد المرسلين عليه الصلاة والسلام الى يوم


الدين وان يغفر لي ولوالدي ولن له حق عليّ وللمسلمين والمسلمات وان
 ينصر ويؤيد هذا الدين المبين ويكلاه من ايدي الغاوين والمعتدين وان
 يحفظ ويؤيد بنصره حاميه مولانا امير المؤمنين انه على ما يشاء قدير
 وبالاجابة جدير وصلى الله تعالى وسلم على سيدنا محمد وعلى آله وصحبه
 اجمعين والحمد لله رب العالمين

وكان الفراغ من تأليفه اوائل شهر ربيع الثاني سنة الف وثلاثمائة
 وتسعة عشر من هجرته صلى الله عليه وسلم

لمؤلفه

يا رب عبد مذنب قد تاب يرجو المغفرة
 فاغفر بجاه محمد وقه عذاب الآخرة

Faint, illegible text, possibly bleed-through from the reverse side of the page.



— ❦ — تقاريف — ❦ —

تفضل بتقريظ هذا الكتاب الاستاذ العلامة الشهير والقدوة الحجة المرشد
الكبير شينجي واستاذي الشيخ حسين الجسر متع الله المسلمين بطول
حياته وادام عليهم جزيل بركاته قال ما صورته

بسم الله الرحمن الرحيم الحمد لله وصلى الله على سيدنا محمد رسول الله
وعلى آله وصحبه ومن والاه اما بعد فقد اطلعت على هذا الكتاب المستطاب
المسمى بالمنهل القائض في علم الفرائض فاذا هو من اوفق ما ألف في فنه
لافادة الطلاب حيث نسج برده على منوال السؤال والجواب مع سلاسة
في العبارة ووضوح في الاشارة وفي ذلك من تقريب التفهيم والتفهيم والتعليم
والتعلم ما يستلقت اليه الانظار ويبعث همم اهل الافادة للطالين ان يتلقوه
بجسن الاختيار مع ما اشتمل عليه من غرر الفروع المعزوة الى محالها
من كتب المذهب وتذييله ببيان ما ورد في قانون الاراضي الهمايوني من
قاعدة الانتقال في الاراضي الاميرية والموقوفة مما كان له كالطرز المذهب
فجزى الله تعالى جامعه خير الجزاء وبلغه الغاية من ما موله ونفعه ونفع به كما
تتمع بالافاضل من اصوله وصلى الله وسلم على سيدنا محمد خير معلم للناس
وعلى آله واصحابه الرافعين بعارفهم غشاوة الالتباس وحسبنا الله ونعم الوكيل
وهو الهادي الى سواء السبيل
كتبه بقله

الفقيه اليه سبحانه

عبده حسين الجسر

عفي عنه

وكذا تفضل بتقريظه الاستاذ الكبير محراب الصلاح في جامع التقوى
العلامة الشيخ علي رشيد الموقت اطال الله للمسلمين بقائه

قال ما صورته


بِسْمِ اللَّهِ الرَّحْمَنِ الرَّحِيمِ الْحَمْدُ لِلَّهِ وَحْدَهُ وَالصَّلَاةُ وَالسَّلَامُ عَلَى مَنْ لَانَبِيَّ
بَعْدَهُ وَآلِهِ وَصَحْبِهِ الَّذِينَ شَادُوا لِلدِّينِ عَمْدَهُ أَمَا بَعْدُ فَقَدْ اطَّلَعْتُ عَلَى هَذَا
التَّالِيفِ اللطيف الموسوم بالمنهل القائض في علم الفرائض الذي اتقه حضرة
العالم الفاضل والبدر الكامل السيد عبد المجيد افندي ابن حضرة العلامة
الهام السيد محمود عزيز افندي ابن المبرور العلامة الشيخ احمد افندي رحمه
الله تعالى ابن المرحوم الفهامة الشيخ عبد القادر افندي الشهير بالمغربي طاب
ثراه فاذا هو عقد فريد في بابہ لم ينسج على منواله ولا احد سبقه الى مثاله
لانه سهل المأخذ ممتنع التقليد ولا عجب اذا اتى الجوهر من معدنه فاسال الله
تعالى وهو خير من سئل فاجاب ان ينفع به المسلمين ولا سيما الطلاب وان
يكافي مؤلفه بلطفه واحسانه وان يحسن لنا الختام بجرمة وجاه خاتم الانبياء
والمرسلين الكرام صلى الله تعالى عليه وعليهم وآلهم اجمعين امين


قاله بفمه ورقمه بقامه

الفقير الى عفو مولاه المجيد

علي رشيد الموقت

غفر لها





وكذا قرظه الاديب الفاضل الاخ الصادق الكامل الشيخ عبد الله سلب
حنظه الله قال ماصورته

هذا مؤلف المعى فاضل عبد المجيد المغربي الكامل
هو من سلالة قادة قد توجوا بالعلم والتقوى وجم فضائل
قم يا خليلي واغترف من فيض من هله الذي فيه الشفا للناهل

ولما رايت البيتين اللذين في صدر هذا الكتاب ابتهجت بهما فاحببت
ان اتطفل على ابوابهما بالخدمة لما لقائهما علي من وافر النعمة فقلت
لما رأيتك يا الهي فاتحا ابواب جودك للسيء مسامحا
ناديت ايقانا بكونك مانحا عبد اتى ابوابكم مستنجا

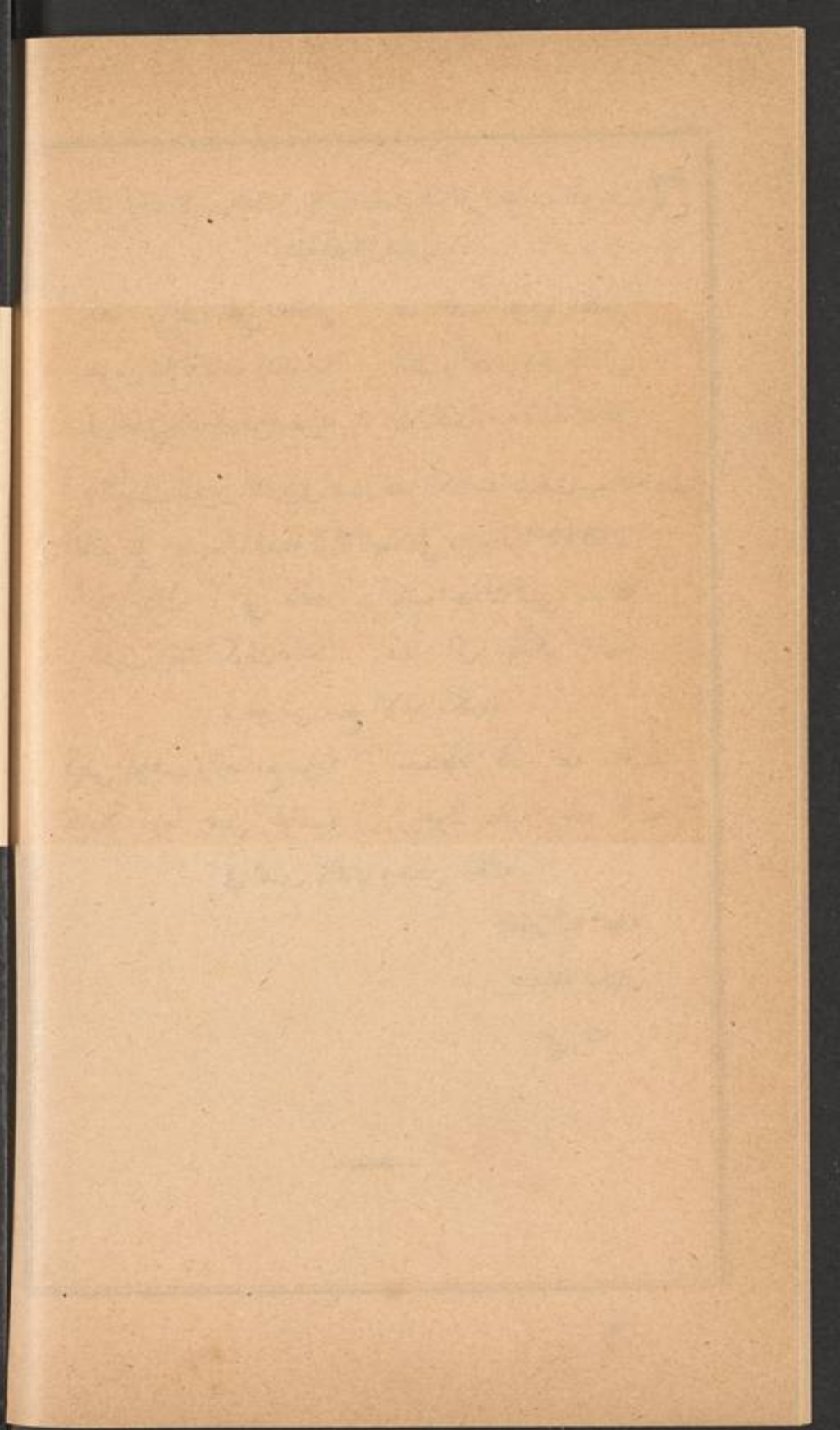
يا خير من منح الانام مكارمه

فيض المواهب والرضامع سوؤدد مسعتظفا قلبا لظه احمد
متاملا دوما جميل عوائد يرجوك عافية بجاه محمد
في الدين والدنيا وحسن الخاتمه

الفقير اليه سبحانه

عبد الله سلب


عفي عنه




تنبیه

لابن بنت ابن البنت في الصحيفة الثانية والستين ٣ صوابه ٤
كما ان قوله في الصحيفة ٦٣ سطر ٣ ثم نجعل المذكور الخ
صوابه ثم ندفع حصة كل الى فرعه









فهرست المنهل الفاض في علم الفرائض

صحيفة

المقدمة : في تعريف علم الفرائض	٣
موضوعه وغايته	٣
في بيان الارث واركانه وشروطه واسبابه	٣
ما النكاح	٤
في توارث الزوجين في عدة الطلاق	٤
فيما لو ابانت نفسها فاجاز	٤
في دعوى انقضاء عدتها قبل الموت	٤
في دعوى الزوج عدم انقضاء عدة الرجعي	٥
فيما لو كذبها الورثة بعد موته بالطلاق في مرضه	٥
فيما لو ادعت الورثة ان الطلاق كان قبل الدخول	٥
فيما لو ادعت عليه مريضاً انه ابانها فحجد وحلفه القاضي فحلف ثم صدقته	٥
فيما لو سألته الرجعي او مطلق الطلاق فطلقها بائناً او ثلاثاً	٦
فيما لو قال مرضه قد كنت ابنتك في صحي الخ	٦
فيما لو قال صحيح لامرأته احداً كما طالق ثم بين في مرضه في احداها	٦
فيما لو ادعى الزوج ان زوجته حطت عنه المهر الخ	٦
فيما لو اختلف الزوج مع الورثة في ان الحط كان في الصحة او في المرض	٦
فيما لو باشرت المرأة سبب الفرقة وهي مريضة الخ	٧
النسب	٧
الولاء	٧
في بيان قسمي المانع في باب الارث	٧
موانع الارث	٨
القتل الموجب للقود	٨
القتل الموجب للكفارة	٨
القتل الذي تستحب فيه الكفارة	٨


الردة	٨
في ان المرتد والمرتدة هل يورثان ام لا	٨
فيما لو ارتد اهل ناحية باجمعهم	٩
في الاختلاف في الدين	٩
التباين في الدار	٩
فيمن يعتبر فيه تباين الدار	٩
فيما يشترط في تباين الدار	١٠
الاختلاف حقيقة وحكما	١٠
الاختلاف حكما فقط	١٠
الاختلاف حقيقة فقط	١٠
الرق	١٠
جهالة التاريخ	١٠
جهالة الوارث	١١
التركة	١١
فيما لو تعلق بعينها حق الغير	١١
حق الغير المتعلق بها وصور ذلك	١١
الحقوق المتعلقة بالتركة	١٢
التجهيز	١٢
في التوسط فيه من حيث العدد ومن حيث القيمة	١٢
فيما لو منع الدائن عن كفن السنة	١٣
في تجهيز الزوجة من تركة الزوج	١٣
في الدين وبيان المراد به	١٣
في قضاء دينه	١٤
في دين الصحة حقيقة	١٤
في دين الصحة حكما	١٤
في دين المرض	١٤






في اقرار المريض مرض الموت لاجنبي بدين او عين	١٤
في اقراره بذلك للوارث	١٤
فيما لو اقر بذلك لاجنبي ووارث	١٥
في ابرائه مديونه	١٥
فيما لو ادعى الوارث المقر له ان الاقرار كان في الصحة وكذبه بقية الورثة	١٥
هل العبرة لكون المقر له وارثا وقت الموت او الاقرار	١٥
ما مثال ذلك	١٥
فيما لو قال في مرضه كنت فعلته في الصحة	١٦
في اقرار من تناول مرضه ومدة التناول	١٦
فيما لو اقر بدين لمن طلقها ثلاثا في المرض	١٦
فيما لو تصادق في مرضه مع الزوجة على ثلاث في الصحة الخ	١٦
الوصية	١٧
فيما تنفذ فيه الوصية	١٧
فيما يتعلق بالتركة بعد التجهيز وقضاء الدين وتنفيذ الوصية	١٧
فيما يجري فيه الارث	١٧
الحقوق التي تورث	٢٧
الحقوق التي لا تورث	١٨
اصناف الورثة الذين يستحقون الارث	١٨
اصحاب الفروض	١٨
العصبة	١٨
العصبة النسبية والسببية ومراتب من يرثون	١٩
في بيان تورث المقر له بنسب محمول على الغير لم يثبت	٢٠
مثال ذلك	٢١
فيما لو كذب المقر له المقر	٢٢
فيمن يعطى المال بعد المقر له	٢٢
اسئلة في مسائل المقدمة	٢٢


الكتاب الاول في الفرائض والعصبة والحجب والتأصيل والتصحيح والاعول والرد والتخارج والحمل وفيه ابواب	٢٤
الباب الاول في الفروض ومستحقها	٢٤
الفروض المقدره في كتاب الله تعالى	٢٥
في بيان اصحاب الفروض	٢٥
في حالتي الزوج	٢٥
في ميراث الاب	٢٥
في الجدة الصحيح وميراثه	٢٦
في ميراث الاخ لام وكذا الاخت لام	٢٦
في حالتي الزوجة	٢٧
في حالتي الام	٢٧
في الجدة الصحيحة وميراثها	٢٨
في احوال البنت	٢٩
في احوال بنت الابن	٢٩
في احوال الاخت	٣٠
اسئلة في الباب يطلب جوابها	٣٢
اسئلة في مسائل الباب	٣٢
الباب الثاني في العصبات	٣٢
في انقسام العصبه الى عصبه بنفسه وبغيره ومع غيره	٣٢
في العصبه بنفسه	٣٣
في اصناف العصبه بنفسه	٣٣
في احكامهم واحوالهم	٣٣
في العصبه بغيره	٣٥
في العصبه مع غيره	٣٥
اسئلة في الباب يطلب جوابها واسئلة في مسائل الباب	٣٦
الباب الثالث الحجب	٣٦





انقسام الحجب الى حجب بالوصف وحجب بالشخص	٣٦
في الحجب بالوصف	٣٦
حكم المحروم	٣٦
الحجب بالشخص ونوعه حجب النقصان وحجب الحرمان	٣٧
في حجب النقصان	٣٧
في حجب الحرمان	٣٧
فيمن يجب حجب نقصان	٣٧
فيمن يجب حجب حرمان	٣٧
في ان المحجوب حرمانا هل يجب غيره ام لا	٣٧
اسئلة في الباب يطلب جوابها واسئلة في مسائل الباب	٣٨
الباب الرابع في التأصيل والتصحيح	٣٩
في التأصيل	٣٩
في ضابط التأصيل وتفصيلات ذلك	٣٩
في التصحيح والفرق بينه وبين التأصيل	٤٣
في النسب الاربع بين الاعداد	٤٤
التماثل	٤٤
التداخل	٤٤
التوافق	٤٤
التباين	٤٤
في كيفية عمل التصحيح	٤٥
اسئلة في الباب	٤٨
اسئلة في مسائل الباب	٤٩
الباب الخامس في العول	٤٩
اسئلة في الباب	٥١
اسئلة في مسائل الباب	٥٢
الباب السادس في الرد	٥٢

في كيفية العمل في الرد	٤٣
اسئلة في الباب	٥٨
اسئلة في مسائل الباب	٥٩
الباب السابع في ذوي الارحام	٥٩
في بيان ذوي الارحام	٥٩
اصناف ذوي الارحام	٥٩
في توريث الصنف الاول	٦٠
اسئلة في الصنف الاول	٦٦
اسئلة في مسائل الباب والصنف الاول	٦٦
في توريث الصنف الثاني	٦٦
اسئلة في الصنف الثاني واسئلة في مسائله	٦٩
في توريث الصنف الثالث	٦٩
اسئلة في الصنف الثالث	٧٤
اسئلة في مسائل الصنف الثالث	٧٥
في توريث الصنف الرابع	٧٥
اسئلة في الصنف الرابع واسئلة في مسائله	٨٢
الباب الثامن في التخارج	٨٣
في كيفية العمل لو صالح احد الورثة على شيء معلوم من التركة	٨٣
اسئلة في الباب واسئلة في مسائله	٨٤
الباب التاسع في الحمل	٨٥
في مدة الحمل	٨٥
فيما اذا مات الولد قبل تمام خروجه	٨٥
بيان ما يعتبر في كون اكثره او اقله حياً	٨٥
فيما اذا خرج بنفسه ميتاً	٨٥
في بيان توريث الحمل	٨٦
فيما اذا احتمل ان تكون الورثة اخذوا اكثر من حقوقهم	٨٦




Fragment of text from the adjacent page, including characters such as 'A', 'A', and 'A'.

في احوال الورثة مع الحمل	٨٦
اسئلة في الباب واسئلة في مسائله	٨٩
الكتاب الثاني في الحساب وفيه ابواب	٨٩
المراد بالحساب في هذا الفن	٨٩
الباب الاول في الكسور	٩٠
في تعريف الكسر	٩٠
في انقسام الكسر الى منطوق واصم	٩٠
في المنطوق والاصم	٩٠
في امهات الكسور	٩٠
انواع الكسور	٩٢
الكسر المفرد	٩٢
الكسر المضاف	٩٢
الكسر المختلف	٩٢
الكسر المنتسب	٩٢
الكسر المستثنى	٩٣
انقسام الكسر المستثنى الى متصل ومنقطع	٩٣
في المتصل	٩٣
في المنقطع	٩٣
اسئلة في الباب واسئلة في مسائله	٩٤
الباب الثاني في البسط	٩٤
تعريف البسط	٩٤
بيان بسط الكسر المفرد	٩٥
بيان بسط الكسر المختلف	٩٥
بيان بسط الكسر المنتسب	٩٦
بيان بسط الكسر المستثنى المتصل	٩٦
بيان معرفة ما يبقى بعد الاستثناء	٩٧


بيان بسط الكسر المستثنى المنقطع	٩٨
بيان بسط الصحيح والكسر بأنواعه	٩٨
اسئلة في الباب واسئلة في مسائله	١٠٢
الباب الثالث في حل الاضلاع وفيه مقدمة في بيان العاد الاكبر والاعداد الاوائل	٢٠٣
في بيان معنى العاد	١٠٣
العاد الاكبر	١٠٣
في بيان تحصيل العاد الاكبر	١٠٣
في الاعداد الاوائل	١٠٥
حل الاضلاع	١٠٥
بيان العمل في حل الاضلاع	١٠٥
اسئلة في الباب	١٠٦
اسئلة في مسائل الباب	١٠٧
الباب الرابع في الحط والاختزال	١٠٧
تعريف الحط	١٠٧
بيان العمل فيه	١٠٧
اسئلة في الباب واسئلة في مسائله	١١٠
الباب الخامس في الرفع والصرف وتحويل الكسور المركبة	١١٠
تعريف الرفع	١١٠
بيان العمل فيه	١١٠
تعريف الصرف	١١١
بيان العمل فيه	١١١
تحويل الكسور المضافة الى كسور بسيطة	١١١
تحويل الكسور المنقسبة الى كسور بسيطة	١١٢
تحويل الكسور المستثناة الى كسر بسيط	١١٣
اذا فرض كسر كيف نعرف ما فوقه من الكسور	١١٤
اذا فرض كسر كيف نعرف ما تحته من الكسور	١١٤

Faint, illegible text, possibly bleed-through from the reverse side of the page.



اسئلة في الباب واسئلة في مسائله	١١٥
الباب السادس في الاعمال الاربعة في الكسور	١١٦
في جمع الكسور	١١٦
في طرح الكسور	١١٨
في ضرب الكسور	١١٩
في قسمة الكسور وانواعها	١١٩
اسئلة في الباب واسئلة في مسائله	١٢٤
الباب السابع في الاربعة المتناسبة	١٢٥
في فائدة ذلك للفرضي	١٢٧
فيما لو فرض في المسئلة كسور وطلب منك عدد مجهول منها الخ	١٢٨
اسئلة في الباب واسئلة في مسائله	١٢٩
الباب الثامن في قسمة التركات	١٣٠
المقصود من علم الفرائض	١٣٠
تقسيم التركة اذا كانت كلها صحيحة	١٣٠
تقسيمها اذا كانت كلها كسورا	١٣٥
تقسيمها اذا اشتملت على صحيح وكسر	١٣٩
اسئلة في الباب واسئلة في مسائله	١٤٥
الباب التاسع في القسمة على الغراء	١٤٦
كيفية عمل القسمة على الغراء	١٤٦
الباب العاشر في المناسخت	١٤٨
معنى المناسخة	١٤٨
كيفية العمل في المناسخت	١٤٩
كيفية تقسيم التركة في المناسخت	١٥٣
كيفية العمل لمعرفة ما لكل وارث من كل مسئلة على حدتها	١٦٢
اسئلة في الباب	١٦٤
اسئلة في مسائل الباب	١٦٥

١٦٥	تنبيه في بيان تحويل كسور القيراط الى اسمهم كما هو الجاري اليوم في سندات الطابو
١٦٦	الخاتمة في بيان ما ورد في قانون الاراضي الهابوني من قاعدة الانتقال في الاراضي الاميرية والموقوفة
١٦٧	مقدمة الخاتمة في اقسام الاراضي التي في ممالك الدولة العلية ايدها الله
١٦٧	في الاراضي المملوكة وانواعها
١٦٨	الخراج الموظف وخراج المقاسمة
١٦٨	حكم الاراضي المملوكة
١٦٨	الاراضي المتركة
١٦٨	الاراضي الموات
١٦٩	الاراضي الاميرية
١٦٩	الاراضي الموقوفة
١٦٩	حكم الاراضي الاميرية والموقوفة
١٧٠	بيان معنى الطابو
١٧٠	طابوا المثل
١٧٠	حق الطابو
١٧٠	صاحب حق الطابو
١٧٠	حق الانتقال
١٧١	الباب الاول من الخاتمة
٢٧١	اصناف من تصير اليهم الاراضي الاميرية والموقوفة بعد وفاة المتصرف بها
١٧١	في بيان اصناف حق الانتقال ودرجاتهم الثمانية
١٧٢	في ان اولاد الاخوة والاخوات ليس لهم حق الانتقال وكذا الاجداد والجدات
١٧٣	في بيان الحجب في هذا الباب واستثناء صورتين من ذلك
١٧٦	في حكم حق الانتقال اذا مات احد الزوجين في عدة الطلاق
١٧٧	فيما لو كان بعض اولاد المتوفي حاضراً والبعض الاخر مفقوداً
١٧٧	فيما لو ادعى الغائب بعد ظهوره عدم مضي المدة القانونية
١٧٨	فيما لو فقد اهل الدرجة كلهم







في حكم اراضي من غاب ولم تعلم حياته ولا مماته	١٧٩
في حكم اراضي من غاب وهو معلوم الحياة وترك ما انتقل اليه ولم يحضرا الخ	١٧٩
في حكم من كان من العساكر الشاهانية في ديار اخرى في الخدمة العسكرية بالفعل	١٧٩
في حكم الحمل في الاراضي الاميرية والموقوفة	١٨٠
الباب الثاني من الخاتمة في بيان اصحاب حق الطابو ومدة سماع الدعوى منهم	١٨١
فيمين تفرغ باراضيه بدون اذن .امور الطابو	١٨٢
فيمين تفرغ باراضيه مجاناً وجاءت ورثته تطالب بالبدل	١٨٢
في فراغ الصغير والمجنون والمعتوه	١٨٣
في حق الطلب ومستحقه	١٨٣
بيان الشريك	١٨٣
بيان الخليط	١٨٣
في مدة الطلب	١٨٣
في بيان مرجع رؤية دعاوي المتكونة في الاراضي الاميرية والموقوفة	١٨٤
مدة مرور الزمان في الاراضي الاميرية والموقوفة	١٨٤
في بيان موانع حق الانتقال وحق الطابو في الاراضي الاميرية والموقوفة	١٨٥

Faint, illegible handwriting, possibly bleed-through from the reverse side of the page. The text is arranged in approximately 15 horizontal lines.

X









NYU - BOBST



31142 02840 8675

HB715 .M3

Kitab al-m